



แบบฝึกหัด 4.1

1. ส่วนที่ระบายสีแสดงทศนิยมใด

1)
.....

2)
.....

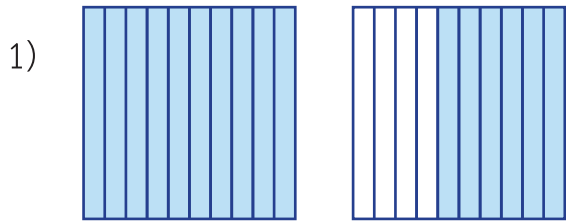
3)
.....

4)
.....

5)
.....

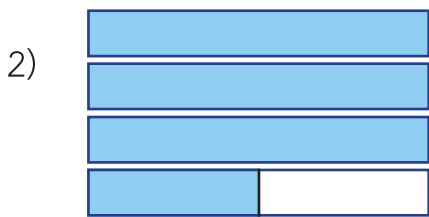


2. เขียนทศนิยมและตัวหนังสือ แสดงส่วนที่ระบายสี



ตัวเลข

ตัวหนังสือ



ตัวเลข

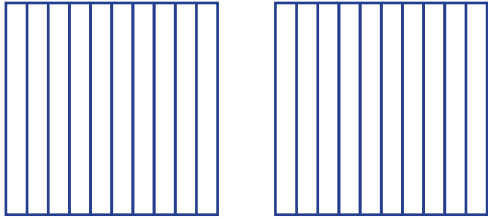
ตัวหนังสือ





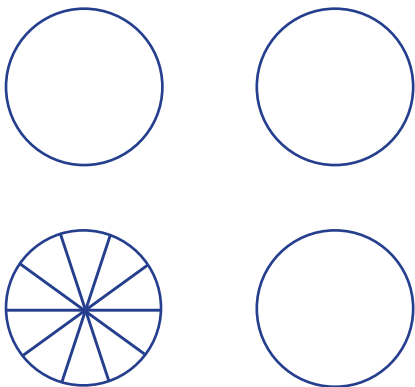
3. ระบายสีและเขียนตัวหนังสือแสดงทศนิยม

1) 1.3



ตัวหนังสือ

2) 3.7



ตัวหนังสือ



4. เขียนเศษส่วนหรือจำนวนคละในรูปทศนิยมและตัวหนังสือแสดงการอ่านทศนิยม

1) $1\frac{3}{10}$

ทศนิยม

ตัวหนังสือ

2) $\frac{25}{10}$

ทศนิยม

ตัวหนังสือ

3) $3\frac{8}{10}$

ทศนิยม

ตัวหนังสือ

4) $\frac{17}{10}$

ทศนิยม

ตัวหนังสือ

5) $18\frac{7}{10}$

ทศนิยม

ตัวหนังสือ

6) $9\frac{1}{10}$

ทศนิยม

ตัวหนังสือ



5. เขียนทศนิยมในรูปเศษเกิน และจำนวนคละ

<p>1) 2.7</p> <p>เศษเกิน</p> <p>จำนวนคละ</p>	<p>2) 4.2</p> <p>เศษเกิน</p> <p>จำนวนคละ</p>
<p>3) 50.8</p> <p>เศษเกิน</p> <p>จำนวนคละ</p>	<p>4) 13.9</p> <p>เศษเกิน</p> <p>จำนวนคละ</p>
<p>5) 8.0</p> <p>เศษเกิน</p> <p>จำนวนคละ</p>	<p>6) 24.3</p> <p>เศษเกิน</p> <p>จำนวนคละ</p>
<p>7) 35.2</p> <p>เศษเกิน</p> <p>จำนวนคละ</p>	<p>8) 72.4</p> <p>เศษเกิน</p> <p>จำนวนคละ</p>
<p>9) 49.6</p> <p>เศษเกิน</p> <p>จำนวนคละ</p>	<p>10) 62.7</p> <p>เศษเกิน</p> <p>จำนวนคละ</p>

