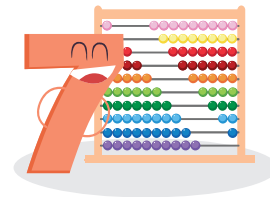


## แบบฝึกหัด 2.20



เขียนแสดงวิธีทำและคำตอบลงในช่องว่าง

1)  $55 \div 3 = \square$

3	)	5	5

ดังนั้น  $55 \div 3$  ได้ \_\_\_\_\_ตอบ \_\_\_\_\_

2)  $67 \div 5 = \square$

5	)	6	7

ดังนั้น  $67 \div 5$  ได้ \_\_\_\_\_ตอบ \_\_\_\_\_

3)  $79 \div 4 = \square$

4	)	7	9

ดังนั้น  $79 \div 4$  ได้ \_\_\_\_\_ตอบ \_\_\_\_\_

4)  $95 \div 6 = \square$

6	)	9	5

ดังนั้น  $95 \div 6$  ได้ \_\_\_\_\_ตอบ \_\_\_\_\_

5)  $99 \div 7 = \square$

7	)	9	9

ดังนั้น  $99 \div 7$  ได้ \_\_\_\_\_

ตอบ \_\_\_\_\_

6)  $89 \div 8 = \square$

8	)	8	9

ดังนั้น  $89 \div 8$  ได้ \_\_\_\_\_

ตอบ \_\_\_\_\_

7)  $86 \div 3 = \square$

3	)	8	6

ดังนั้น  $86 \div 3$  ได้ \_\_\_\_\_

ตอบ \_\_\_\_\_

8)  $65 \div 2 = \square$

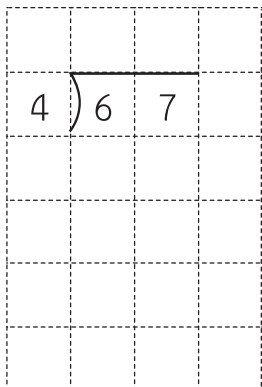
2	)	6	5

ดังนั้น  $65 \div 2$  ได้ \_\_\_\_\_

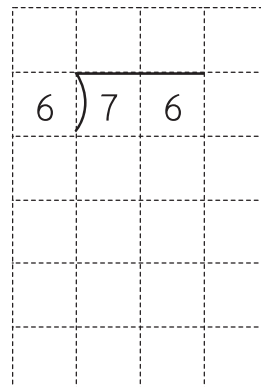
ตอบ \_\_\_\_\_



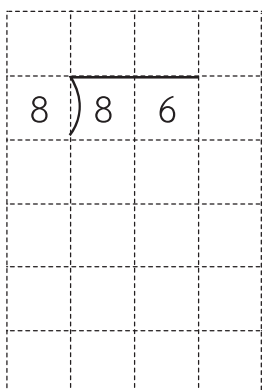
9)  $67 \div 4 = \square$

ดังนั้น  $67 \div 4$  ได้ \_\_\_\_\_ตอบ \_\_\_\_\_


10)  $76 \div 6 = \square$

ดังนั้น  $76 \div 6$  ได้ \_\_\_\_\_ตอบ \_\_\_\_\_

11)  $86 \div 8 = \square$

ดังนั้น  $86 \div 8$  ได้ \_\_\_\_\_ตอบ \_\_\_\_\_

12)  $65 \div 3 = \square$

ดังนั้น  $65 \div 3$  ได้ \_\_\_\_\_ตอบ \_\_\_\_\_