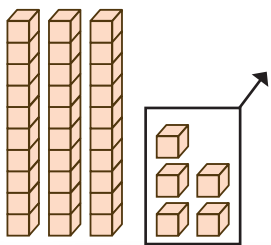


แบบฝึกหัด 2.11

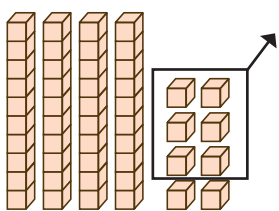
① ทหาผลลบ

1)  $35 - 5 = \square$



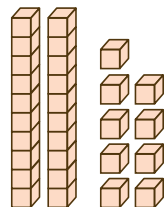
$35 - 5 =$  \_\_\_\_\_

2)  $48 - 6 = \square$



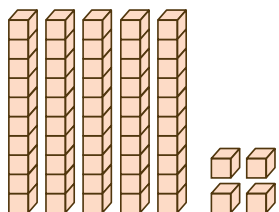
$48 - 6 =$  \_\_\_\_\_

3)  $29 - 7 = \square$



$29 - 7 =$  \_\_\_\_\_

4)  $54 - 3 = \square$



$54 - 3 =$  \_\_\_\_\_

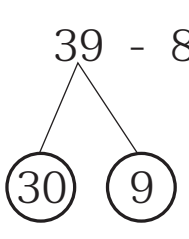


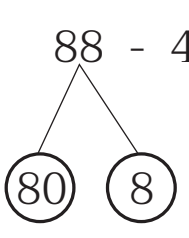


### ๒) เติมตัวเลขแสดงจำนวน

1)  $75 - 3 = \square$   
 นับถอยหลังทีละ 1 จาก \_\_\_\_\_ ไป \_\_\_\_\_ ครั้ง  
 70 71 72 73 74 75 76 77  
 $75 - 3 =$  \_\_\_\_\_

2)  $99 - 5 = \square$   
 นับถอยหลังทีละ 1 จาก \_\_\_\_\_ ไป \_\_\_\_\_ ครั้ง  
 92 93 94 95 96 97 98 99  
 $99 - 5 =$  \_\_\_\_\_

3)  $39 - 8 = \square$   
  
 ชั้นที่ 1  $\begin{array}{r} \underline{\quad 9} \\ - \quad 8 \\ \hline \end{array} = \underline{\quad}$   
 ชั้นที่ 2  $\begin{array}{r} \underline{\quad} \\ + \quad \quad \\ \hline \end{array} = \underline{\quad}$   
 $39 - 8 =$  \_\_\_\_\_

4)  $88 - 4 = \square$   
  
 ชั้นที่ 1  $\begin{array}{r} \underline{\quad} \\ - \quad \quad \\ \hline \end{array} = \underline{\quad}$   
 ชั้นที่ 2  $\begin{array}{r} \underline{\quad} \\ + \quad \quad \\ \hline \end{array} = \underline{\quad}$   
 $88 - 4 =$  \_\_\_\_\_





๓ ทาผลลบ

$$1) 59 - 5 = \square$$

$$2) 95 - 4 = \square$$

$$3) 44 - 4 = \square$$

$$4) 33 - 3 = \square$$

$$5) 67 - 2 = \square$$

$$6) 89 - 7 = \square$$

$$7) 78 - 6 = \square$$

$$8) 29 - 9 = \square$$

$$9) 45 - 5 = \square$$

$$10) 99 - 8 = \square$$

