


# แบบฝึกหัด 2.25

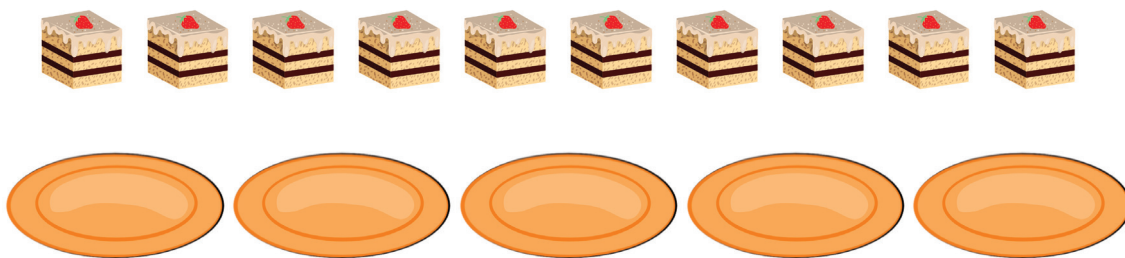
## 1 เขียนคำตอบและประโยคสัญลักษณ์การหาร

1)



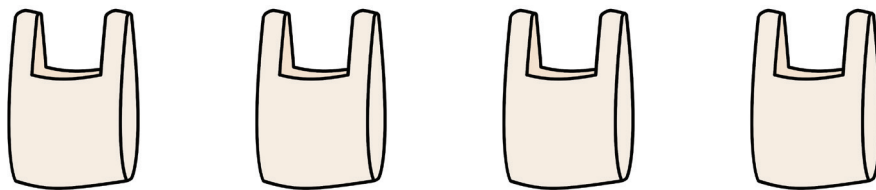

กะหรี่ปั๊ป 8 ชิ้น จัดใส่กล่อง 2 กล่อง กล่องละเท่า ๆ กัน ได้กล่องละ ..... ชิ้น  
 ประโยคสัญลักษณ์การหาร .....  
 ..... เป็นตัวตั้ง      ..... เป็นตัวหาร      ..... เป็นผลหาร

2)



เค้ก 10 ชิ้น จัดใส่จาน 5 จาน จานละเท่า ๆ กัน ได้จานละ ..... ชิ้น  
 ประโยคสัญลักษณ์การหาร .....  
 ..... เป็นตัวตั้ง      ..... เป็นตัวหาร      ..... เป็นผลหาร

3)




น้อยหน้า 20 ผล จัดใส่ถุง 4 ถุง ถุงละเท่า ๆ กัน ได้ถุงละ ..... ผล

ประโยชน์สัญลักษณ์การหาร .....

..... เป็นตัวตั้ง      ..... เป็นตัวหาร      ..... เป็นผลหาร

4)



มะนาว 21 ผล จัดใส่ตะกร้า 3 ใบ ใบละเท่า ๆ กัน ได้ใบละ ..... ผล

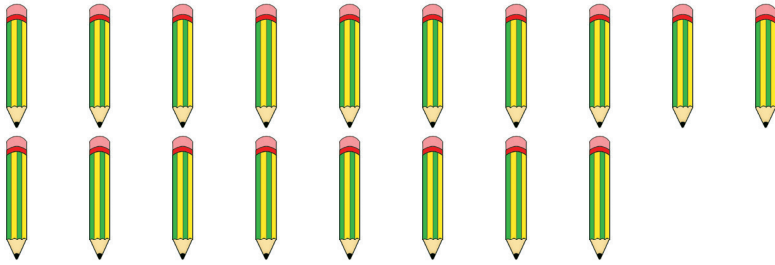
ประโยชน์สัญลักษณ์การหาร .....

..... เป็นตัวตั้ง      ..... เป็นตัวหาร      ..... เป็นผลหาร



## 2) เขียนคำตอบและประโยคสัญลักษณ์การหาร


1)



ครูมีดินสอ 18 แท่ง แบ่งให้นักเรียน ..... คน คนละเท่า ๆ กัน นักเรียนได้  
ดินสอคนละ ..... แท่ง

ประโยคสัญลักษณ์การหาร .....  
..... เป็นตัวตั้ง      ..... เป็นตัวหาร      ..... เป็นผลหาร

2)



คุณมีลูกอม 27 เม็ด แบ่งให้เพื่อน ..... คน คนละเท่า ๆ กัน เพื่อนได้ลูกอม  
คนละ ..... เม็ด

ประโยคสัญลักษณ์การหาร .....  
..... เป็นตัวตั้ง      ..... เป็นตัวหาร      ..... เป็นผลหาร