

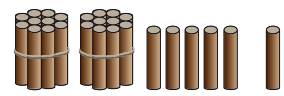


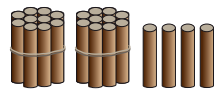


แบบฝึกหัด 2.8

1) เติมค่าในช่องว่างต่อไปนี้


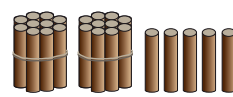

ตัวอย่าง


 รวมกับ  ได้ 
 $24 + \boxed{2} = 26$




1)


 รวมกับ  ได้ 
 $24 + \boxed{} = 29$

2)


 รวมกับ  ได้ 
 $\boxed{} + 25 = 36$

3)


 รวมกับ  ได้ 
 $\boxed{} + \boxed{} = 23$

4) $38 + \dots = 42$

5) $\dots + 28 = 35$

