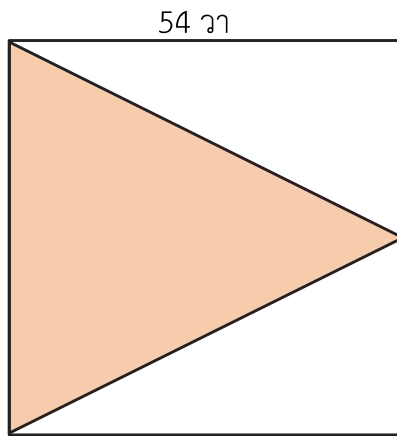




แบบฝึกหัด 6.16

คำชี้แจง วิเคราะห์โจทย์ปัญหาและหาคำตอบ

- 1) ลุงชัยแบ่งที่ดินรูปสี่เหลี่ยมจัตุรัสที่มีความยาวด้านละ 54 วา ดังรูป
ที่ดินรูปสามเหลี่ยมที่ระบายสี มีพื้นที่กี่ตารางวา



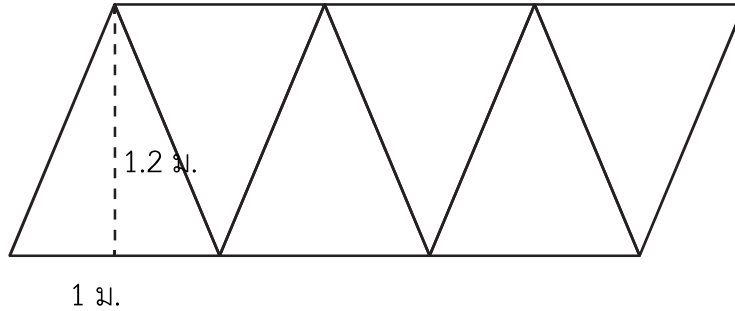
โจทย์ถามอะไร

โจทย์บอกอะไร

หาคำตอบได้อย่างไร

สรุปคำตอบได้อย่างไร

- 2) ชาวบ้านช่วยกันทำกังหันลมระหัดวิดน้ำโดยตัดผ้าใบเป็นรูปสามเหลี่ยมขนาดเท่ากัน 6 ผืน ที่มีความยาวแต่ละผืน ดังรูป ผ้าใบรูปสามเหลี่ยมแต่ละผืนมีพื้นที่เท่าไร และผ้าใบ รูปสามเหลี่ยมทั้ง 6 ผืน มีพื้นที่เท่าไร



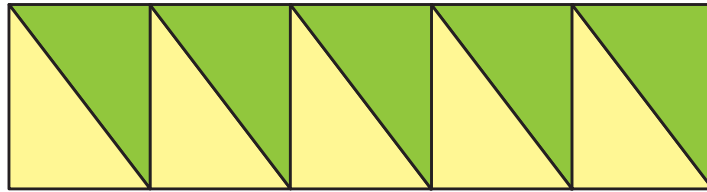
โจทย์ถามอะไร

โจทย์บอกอะไร

หาคำตอบได้อย่างไร

สรุปคำตอบได้อย่างไร

3) แก้วตาดัดกระดาษรูปสามเหลี่ยมมุมฉาก มีด้านตรงข้ามมุมฉากยาว 10 เซนติเมตร ด้านประกอบมุมฉากยาว 6 เซนติเมตร และ 8 เซนติเมตร จำนวน 10 รูป มาติดริมขอบป้ายนิเทศ ดังรูป รูปสามเหลี่ยมแต่ละรูปมีพื้นที่เท่าไร และเมื่อนำรูปสามเหลี่ยมทั้ง 10 รูป มาติดบนป้ายนิเทศ จะปิดพื้นที่บนป้ายนิเทศเท่าไร



โจทย์ถามอะไร

.....

.....

โจทย์บอกอะไร

.....

.....

.....

หาคำตอบได้อย่างไร

.....

.....

.....

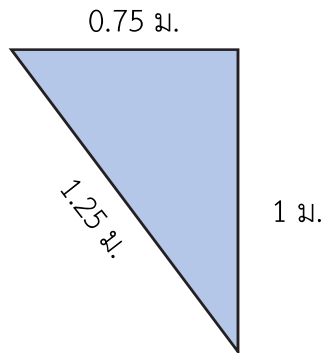
สรุปคำตอบได้อย่างไร

.....

.....

.....

4) ครูทำกระบะทรายสำหรับเด็กไว้มุมห้อง 2 มุม แต่ละกระบะทรายมีลักษณะเป็นรูปสามเหลี่ยมมุมฉาก ดังรูป กระบะทรายมีพื้นที่ทั้งหมดกี่ตารางเมตร



โจทย์ถามอะไร

โจทย์บอกอะไร

หาคำตอบได้อย่างไร

สรุปคำตอบได้อย่างไร

