

แบบฝึกหัด 2.15



1) เขียนโจทย์ปัญหาการคูณจากภาพที่กำหนด เขียนประโยคสัญลักษณ์และหาคำตอบ

1)




สมุดสะสมแสตมป์ราคาเล่มละ 130 บาท

โจทย์ปัญหา _____

ประโยคสัญลักษณ์ _____

วิธีคิดพร้อมคำตอบ _____

2)



โจทย์ปัญหา _____

ประโยคสัญลักษณ์ _____

วิธีคิดพร้อมคำตอบ _____

- 2) เขียนโจทย์ปัญหาการคูณจากประโยคสัญลักษณ์ เขียนส่วนที่โจทย์ถาม ส่วนที่โจทย์บอก และเขียนวิธีคิดพร้อมหาคำตอบ

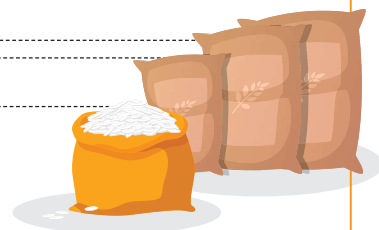
1) $8 \times 990 = \square$

โจทย์ปัญหา

โจทย์ถาม

โจทย์บอก

วิธีคิดพร้อมคำตอบ




2) $12 \times 50 = \square$

โจทย์ปัญหา

โจทย์ถาม

โจทย์บอก

วิธีคิดพร้อมคำตอบ



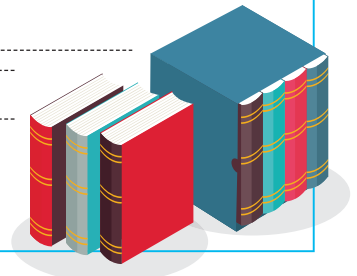
3) $9 \times 8,790 = \square$

โจทย์ปัญหา

โจทย์ถาม

โจทย์บอก

วิธีคิดพร้อมคำตอบ



4) $92 \times 24 = \square$

โจทย์ปัญหา

โจทย์ถาม

โจทย์บอก

วิธีคิดพร้อมคำตอบ

