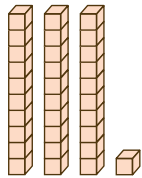
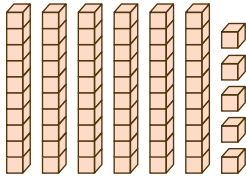
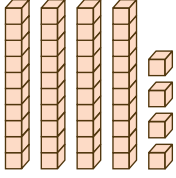
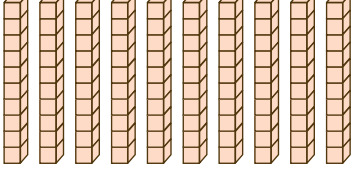




แบบฝึกหัด 1.12

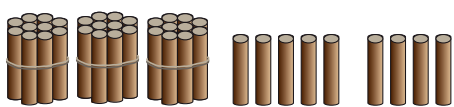
๑ เขียนตัวเลขฮินดูอารบิก ตัวเลขไทยและตัวหนังสือแสดงจำนวน

| ภาพ   | ตัวเลขฮินดูอารบิก         | ตัวเลขไทย                 | ตัวหนังสือ                |
|---|---------------------------|---------------------------|---------------------------|
| <p>1)</p>    | <p>.....</p> <p>.....</p> | <p>.....</p> <p>.....</p> | <p>.....</p> <p>.....</p> |
| <p>2)</p>  | <p>.....</p> <p>.....</p> | <p>.....</p> <p>.....</p> | <p>.....</p> <p>.....</p> |
| <p>3)</p>  | <p>.....</p> <p>.....</p> | <p>.....</p> <p>.....</p> | <p>.....</p> <p>.....</p> |
| <p>4)</p>  | <p>.....</p> <p>.....</p> | <p>.....</p> <p>.....</p> | <p>.....</p> <p>.....</p> |






**๒** เติมตัวเลขแสดงจำนวน

1) 

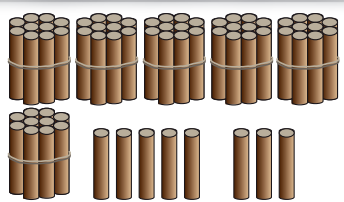
..... ในหลักสิบ      มีค่า .....

..... ในหลักหน่วย      มีค่า .....

2) 

..... ในหลักสิบ      มีค่า .....

..... ในหลักหน่วย      มีค่า .....

3) 

..... ในหลักสิบ      มีค่า .....

..... ในหลักหน่วย      มีค่า .....

**๓** เขียนแสดงจำนวนในรูปกระจาย

1)  $77 = \underline{\quad\quad} + \underline{\quad\quad}$

2)  $80 = \underline{\quad\quad} + \underline{\quad\quad}$

3) จำนวนสามหลักที่มี 1 อยู่ในหลักร้อย 0 อยู่ในหลักสิบ และ 0 อยู่ในหลักหน่วย คือ 100  
 เขียนในรูปกระจาย  $100 = \underline{\quad\quad} + \underline{\quad\quad} + \underline{\quad\quad}$





๔ เขียนเครื่องหมาย > หรือ < ใน

|                                   |                                    |
|-----------------------------------|------------------------------------|
| 1) 7 <input type="checkbox"/> 11  | 5) 19 <input type="checkbox"/> 12  |
| 2) 32 <input type="checkbox"/> 23 | 6) 74 <input type="checkbox"/> 47  |
| 3) 55 <input type="checkbox"/> 56 | 7) 10 <input type="checkbox"/> 100 |
| 4) 98 <input type="checkbox"/> 93 | 8) 67 <input type="checkbox"/> 64  |

๕ เรียงลำดับจำนวน

|  |
|--|
| 1) เรียงลำดับ 49 57 24 จากน้อยไปมาก<br>.....<br>.....        |
| 2) เรียงลำดับ 52 39 64 97 จากมากไปน้อย<br>.....<br>.....     |
| 3) เรียงลำดับ 17 64 58 93 จากน้อยไปมาก<br>.....<br>.....     |
| 4) เรียงลำดับ 85 100 69 48 70 จากมากไปน้อย<br>.....<br>..... |



# หน่วยที่ ๒

