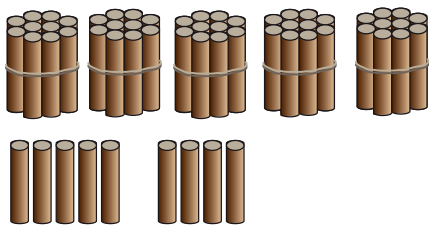




แบบฝึกหัด 1.7

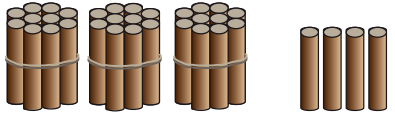
1) เติมตัวเลขแสดงจำนวน

1) 

..... ในหลักสิบ มีค่า

..... ในหลักหน่วย มีค่า


..... เขียนรูปกระจาย = +

2) 

..... ในหลักสิบ มีค่า

..... ในหลักหน่วย มีค่า


..... เขียนรูปกระจาย = +

3) 

..... ในหลักสิบ มีค่า

..... ในหลักหน่วย มีค่า

..... เขียนรูปกระจาย = +

4) 

..... ในหลักสิบ มีค่า

..... ในหลักหน่วย มีค่า

..... เขียนรูปกระจาย = +





๒ เขียนแสดงจำนวนต่อไปนี้ในรูปกระจาย

1)	41	=	_____	+	_____		
2)	66	=	_____	+	_____		
3)	28	=	_____	+	_____		
4)	37	=	_____	+	_____		
5)	52	=	_____	+	_____		
6)	79	=	_____	+	_____		
7)	100	=	_____	+	_____	+	_____





๓ เติมตัวเลขแสดงจำนวน

1) จำนวนสองหลักที่มี 3 หลักในหลักสิบ และ 6 อยู่ในหลักหน่วย คือ _____
เขียนรูปกระจาย _____ = _____ + _____

2) จำนวนสองหลักที่มี 7 หลักในหลักสิบ และ 2 อยู่ในหลักหน่วย คือ _____
เขียนรูปกระจาย _____ = _____ + _____

3) จำนวนสองหลักที่มี 4 หลักในหลักสิบ และ 8 อยู่ในหลักหน่วย คือ _____
เขียนรูปกระจาย _____ = _____ + _____

4) จำนวนสองหลักที่มี 2 หลักในหลักสิบ และ 9 อยู่ในหลักหน่วย คือ _____
เขียนรูปกระจาย _____ = _____ + _____

5) จำนวนสองหลักที่มี _____ หลักในหลักสิบ และ _____ อยู่ในหลักหน่วย คือ _____
เขียนรูปกระจาย _____ = _____ + _____

