





แบบฝึกหัด 1.9

1) เติมตัวเลขแสดงจำนวน

1)




เปรียบเทียบจำนวนในหลักสิบ .....สิบ เท่ากับ .....สิบ

เปรียบเทียบจำนวนในหลักหน่วย .....หน่วย มากกว่า .....หน่วย

จะได้ ..... > ..... หรือ ..... < .....

2)



เปรียบเทียบจำนวนในหลักสิบ .....สิบ เท่ากับ .....สิบ

เปรียบเทียบจำนวนในหลักหน่วย .....หน่วย น้อยกว่า .....หน่วย

จะได้ ..... < ..... หรือ ..... > .....



๒) เปรียบเทียบจำนวน เต็มตัวเลข  
เขียนคำ มากกว่า หรือ น้อยกว่า ใน \_\_\_\_\_

1) 28 และ 23

28	_____	ในหลักสิบ	มีค่า _____	เท่ากับ
23	_____			

28	_____	ในหลักหน่วย	มีค่า _____	
----	-------	-------------	-------------	--

23	_____	ในหลักหน่วย	มีค่า _____	
----	-------	-------------	-------------	--

28	_____	23
----	-------	----

ดังนั้น \_\_\_\_\_ > \_\_\_\_\_ หรือ \_\_\_\_\_ < \_\_\_\_\_

2) 74 และ 76

74	_____	ในหลักสิบ	มีค่า _____	เท่ากับ
76	_____			

74	_____	ในหลักหน่วย	มีค่า _____	
----	-------	-------------	-------------	--

76	_____	ในหลักหน่วย	มีค่า _____	
----	-------	-------------	-------------	--

74	_____	76
----	-------	----

ดังนั้น \_\_\_\_\_ < \_\_\_\_\_ หรือ \_\_\_\_\_ > \_\_\_\_\_

3) 57 และ 58

57	_____	ในหลักสิบ	มีค่า _____	เท่ากับ
58	_____			

57	_____	ในหลักหน่วย	มีค่า _____	
----	-------	-------------	-------------	--

58	_____	ในหลักหน่วย	มีค่า _____	
----	-------	-------------	-------------	--

57	_____	58
----	-------	----

ดังนั้น \_\_\_\_\_ < \_\_\_\_\_ หรือ \_\_\_\_\_ > \_\_\_\_\_





๓ เขียนเครื่องหมาย > หรือ < ใน

1) 54 <input type="checkbox"/> 55	5) 39 <input type="checkbox"/> 36
2) 87 <input type="checkbox"/> 81	6) 72 <input type="checkbox"/> 74
3) 69 <input type="checkbox"/> 66	7) 24 <input type="checkbox"/> 26
4) 45 <input type="checkbox"/> 49	8) 92 <input type="checkbox"/> 90

๔ เปรียบเทียบจำนวน 78 73 และ 37 เขียน เครื่องหมาย > < หรือ = ใน

- 73  78
- 73  37
- 37  78
- 37  37
- 78  73
- 78  37

