



แบบฝึกหัด 1.6

1) เติมตัวเลขแสดงจำนวน


1)



นับนิ้วมือได้ 69 นิ้ว

6 ในหลักสิบ มีค่า
 9 ในหลักหน่วย มีค่า


2)



นับเด็กนั่งในรถโดยสารได้ 54 คน

5 ในหลักสิบ มีค่า
 4 ในหลักหน่วย มีค่า

3)




นับลูกปัดได้ 100 เม็ด

1 ในหลักร้อย มีค่า
 0 ในหลักสิบ มีค่า
 0 ในหลักหน่วย มีค่า





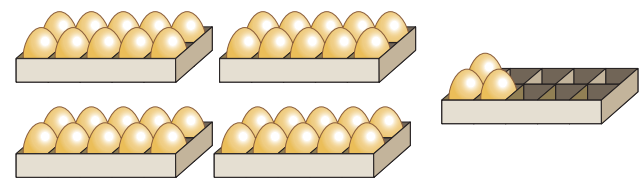
4)



นับลูกปิงปองได้ 67 ลูก

6 ในหลักสิบ มีค่า
 7 ในหลักหน่วย มีค่า


5)



นับไข่ไก่ได้ 43 ฟอง

4 ในหลักสิบ มีค่า
 3 ในหลักหน่วย มีค่า

6)



นับลูกอมได้ 80 เม็ด

8 ในหลักสิบ มีค่า
 0 ในหลักหน่วย มีค่า





7)



นับดอกไม้ได้ ดอก

..... ในหลักสิบ มีค่า

..... ในหลักหน่วย มีค่า

8)




นับสีไม้ได้ แท่ง

..... ในหลักสิบ มีค่า

..... ในหลักหน่วย มีค่า

9)



นับลูกบอลได้ ลูก

..... ในหลักสิบ มีค่า

..... ในหลักหน่วย มีค่า

