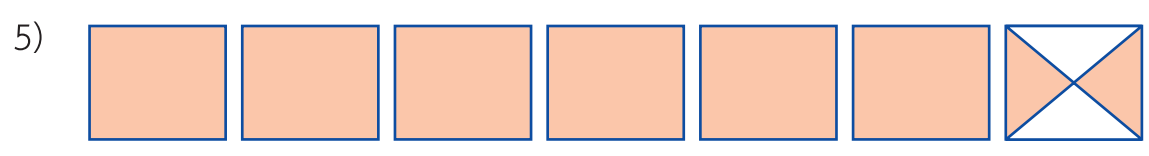
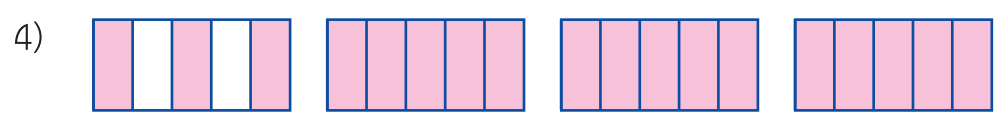
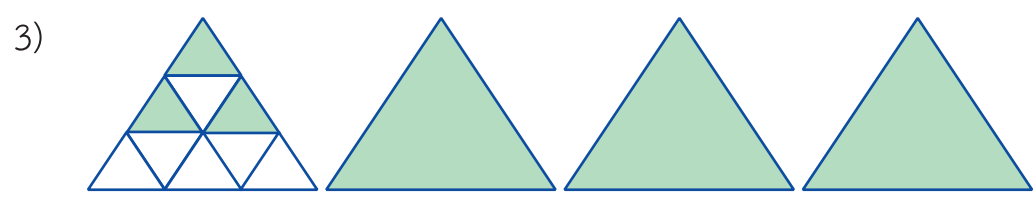
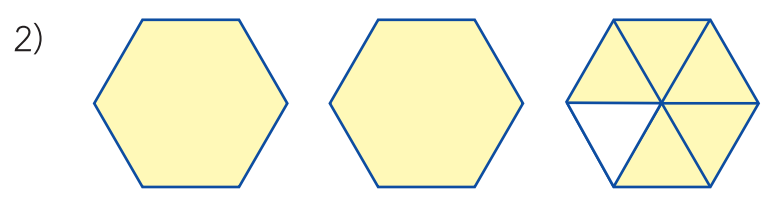
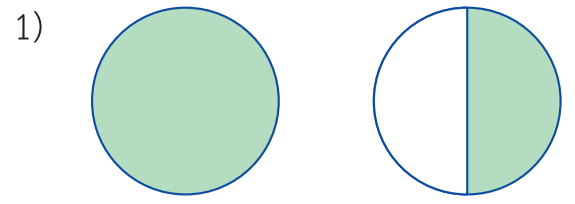




แบบฝึกหัด 3.5

1. เขียนจำนวนคละแสดงส่วนที่แรเงาและเขียนคำอ่าน



2. เขียนเครื่องหมาย ✓ ใน  เพื่อแสดงว่าจำนวนที่กำหนดให้เป็นเศษส่วนแท้ เศษเกิน หรือจำนวนคละ

		เศษส่วนแท้	เศษเกิน	จำนวนคละ
1)	$\frac{12}{13}$	<input type="checkbox"/>	<input type="checkbox"/>	<input type="checkbox"/>
2)	$\frac{37}{37}$	<input type="checkbox"/>	<input type="checkbox"/>	<input type="checkbox"/>
3)	$5\frac{4}{22}$	<input type="checkbox"/>	<input type="checkbox"/>	<input type="checkbox"/>
4)	$\frac{121}{11}$	<input type="checkbox"/>	<input type="checkbox"/>	<input type="checkbox"/>
5)	$\frac{7}{22}$	<input type="checkbox"/>	<input type="checkbox"/>	<input type="checkbox"/>
6)	$\frac{45}{80}$	<input type="checkbox"/>	<input type="checkbox"/>	<input type="checkbox"/>
7)	$67\frac{12}{13}$	<input type="checkbox"/>	<input type="checkbox"/>	<input type="checkbox"/>
8)	$\frac{86}{72}$	<input type="checkbox"/>	<input type="checkbox"/>	<input type="checkbox"/>
9)	$\frac{101}{110}$	<input type="checkbox"/>	<input type="checkbox"/>	<input type="checkbox"/>
10)	$23\frac{7}{9}$	<input type="checkbox"/>	<input type="checkbox"/>	<input type="checkbox"/>

