

แบบฝึกหัด 2.6



1 เขียนเลขโดดใน และเขียนคำตอบในช่องว่าง

1) $295 \times 2 = \square$

วิธีทำ

2	9	5	
			x
			2
<hr/>			
5	<input type="text"/>	0	
<hr/>			

ตอบ

2) $3 \times 367 = \square$

วิธีทำ

3	6	7	
			x
			3
<hr/>			
1	<input type="text"/>	0	<input type="text"/>
<hr/>			

ตอบ

3) $436 \times 4 = \square$

วิธีทำ

4	3	6	
			x
			4
<hr/>			
<input type="text"/>	<input type="text"/>	4	<input type="text"/>
<hr/>			

ตอบ

4) $6 \times 255 = \square$

วิธีทำ

2	5	5	
			x
			6
<hr/>			
<input type="text"/>	5	<input type="text"/>	<input type="text"/>
<hr/>			

ตอบ

5) $183 \times 7 = \square$

วิธีทำ

1	8	3	
			x
			<input type="text"/>
<hr/>			
<input type="text"/>	<input type="text"/>	<input type="text"/>	<input type="text"/>
<hr/>			

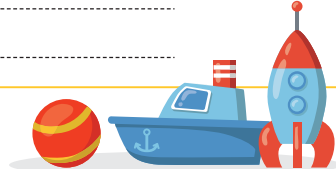
ตอบ

6) $9 \times 227 = \square$


วิธีทำ

<input type="text"/>	<input type="text"/>	<input type="text"/>	
			x
			<input type="text"/>
<hr/>			
<input type="text"/>	<input type="text"/>	<input type="text"/>	<input type="text"/>
<hr/>			

ตอบ



2 หาผลคูณ



1) $346 \times 2 = \square$

วิธีทำ

3	4	6	
			×
		3	

ตอบ

2) $7 \times 288 = \square$

วิธีทำ

2	8	8	
			×
		7	

ตอบ

3) $438 \times 5 = \square$

วิธีทำ

4	3	8	
			×
		5	

ตอบ

4) $566 \times 9 = \square$

วิธีทำ

5	6	6	
			×
		9	

ตอบ

5) $7 \times 369 = \square$

วิธีทำ


3	6	9	
			×
		7	

ตอบ

6) $4 \times 739 = \square$

วิธีทำ

7	3	9	
			×
		4	

ตอบ

3 โยงเส้นจับคู่โจทย์การคูณกับคำตอบ

1) $304 \times 3 = \square$ 1,832

2) $5 \times 543 = \square$ 1,125

3) $8 \times 229 = \square$ 912

4) $125 \times 9 = \square$ 2,715

5) $750 \times 6 = \square$ 3,596

6) $4 \times 899 = \square$ 4,500

