


ใบกิจกรรม 2.7

1. เขียนจำนวนกลุ่ม จำนวนในแต่ละกลุ่ม ประโยคสัญลักษณ์การคูณ และหาผลคูณ

1)



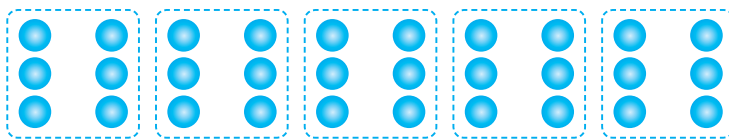
..... กลุ่มของ หรือ
ประโยคสัญลักษณ์การคูณ

2)



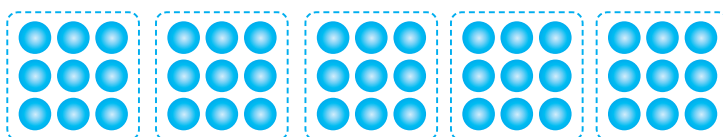
..... กลุ่มของ หรือ
ประโยคสัญลักษณ์การคูณ

3)



..... กลุ่มของ หรือ
ประโยคสัญลักษณ์การคูณ

4)



..... กลุ่มของ หรือ
ประโยคสัญลักษณ์การคูณ

2. เขียนวิธีคิดและหาผลคูณของสูตรคูณแม่ 6 โดยใช้ความหมายการคูณ

โจทย์	วิธีคิด	สูตรคูณแม่ 6
$6 \times 1 = \square$	$6 \times 1 = 1 + 1 + 1 + 1 + 1 + 1$ ดังนั้น $6 \times 1 = 6$	$6 \times 1 = 6$
1) $6 \times 2 = \square$ ดังนั้น
2) $6 \times 3 = \square$ ดังนั้น
3) $6 \times 4 = \square$ ดังนั้น
4) $6 \times 5 = \square$ ดังนั้น
5) $6 \times 6 = \square$ ดังนั้น
6) $6 \times 7 = \square$ ดังนั้น
7) $6 \times 8 = \square$ ดังนั้น
8) $6 \times 9 = \square$ ดังนั้น

ข้อสังเกตที่พบ

.....

.....