

## ใบกิจกรรม 2.6

เขียนจำนวนกลุ่ม จำนวนในแต่ละกลุ่ม ประโยคสัญลักษณ์การคูณ และหาผลคูณ

1)




..... กลุ่มของ ..... หรือ .....  
.....  
ประโยคสัญลักษณ์การคูณ .....

2)



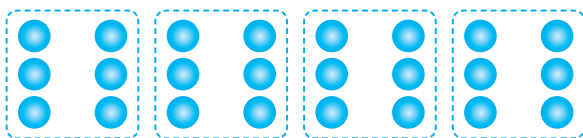
..... กลุ่มของ ..... หรือ .....  
.....  
ประโยคสัญลักษณ์การคูณ .....

3)



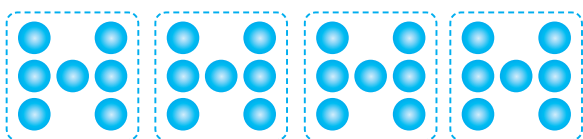
..... กลุ่มของ ..... หรือ .....  
.....  
ประโยคสัญลักษณ์การคูณ .....

4)



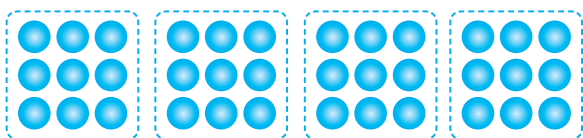
..... กลุ่มของ ..... หรือ .....  
 ประโยคสัญลักษณ์การคูณ .....

5)



..... กลุ่มของ ..... หรือ .....  
 ประโยคสัญลักษณ์การคูณ .....

6)



..... กลุ่มของ ..... หรือ .....  
 ประโยคสัญลักษณ์การคูณ .....