

แบบฝึกหัด 2.5

1. เติมคำตอบ

1)



..... กลุ่มของ..... หรือ.....
 ประโยคสัญลักษณ์การคูณ

2)



..... กลุ่มของ..... หรือ.....
 ประโยคสัญลักษณ์การคูณ

3)



..... กลุ่มของ..... หรือ.....
 ประโยคสัญลักษณ์การคูณ

4)



..... กลุ่มของ..... หรือ.....
 ประโยคสัญลักษณ์การคูณ

5) แม่ทำคุกกี้ 2 ถาด ถาดละ 9 ชิ้น แม่ทำคุกกี้ทั้งหมด \times = ชิ้น

6) พ่อปลูกต้นไม้ 3 แปลง แปลงละ 8 ต้น พ่อปลูกต้นไม้ทั้งหมด \times = ต้น

7) ย่าซื้อไข่ฟองละ 5 บาท ย่าซื้อไข่มา 3 ฟอง ย่าจ่ายเงินทั้งหมด \times = บาท

8) ในห้องประชุมมีเก้าอี้ 2 แถว แถวละ 10 ตัว

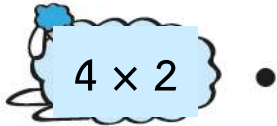
ในห้องประชุมมีเก้าอี้ทั้งหมด \times = ตัว

2. ลากเส้นจับคู่โจทย์การคูณกับผลคูณที่เท่ากัน

1)

 3×5 •

2)

 4×2 •


3)

 3×1 •

4)

 2×9 •

5)

 8×3 •

6)

 2×6 •

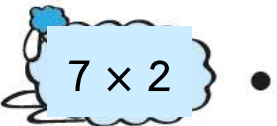
7)

 3×4 •

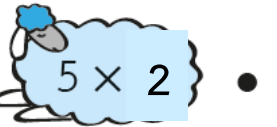
8)

 5×3 •

9)

 7×2 •

10)

 5×2 •

• ก.

 3

• ข.

 18

• ค.

 12

• ง.

 35

• จ.

 8

• ฉ.

 10

• ช.

 20

• ซ.

 24

• ฌ.

 15

• ญ.

 45

• ฉ.

 14

• ฎ.

 36