



## แบบฝึกหัด 2.1

1) เขียนจำนวนกลุ่ม จำนวนในแต่ละกลุ่ม และจำนวนทั้งหมด

ตัวอย่าง




มะนาว ..... 3 ..... จาน จานละ ..... 4 ..... ผล

..... 3 ..... กลุ่มของ ..... 4 ..... หรือ .....  $4 + 4 + 4 = 12$  .....

ดังนั้น มีมะนาวทั้งหมด ..... 12 ..... ผล

1)



มะเขือเทศ ..... กอง กองละ ..... ผล

..... กลุ่มของ ..... หรือ .....

ดังนั้น มีมะเขือเทศทั้งหมด ..... ผล


2)



..... กลุ่มของ ..... หรือ .....

ดังนั้นมีแก้วทั้งหมด ..... ใบ



3)





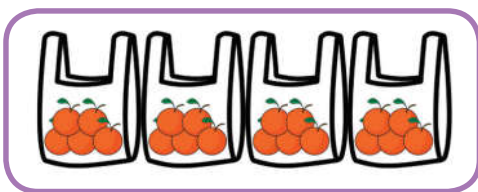
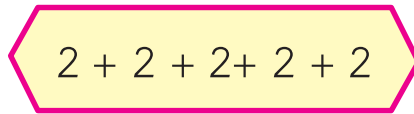
..... กลุ่มของ ..... หรือ .....


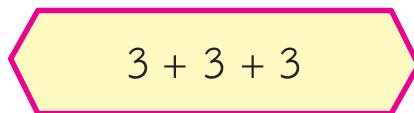
ดังนั้น มีปลาทั้งหมด ..... ตัว


2 โยงเส้นจับคู่รูปภาพกับข้อความที่สัมพันธ์กัน

1)  • 

2)  • 

3)  • 

4)  • 

5)  • 