

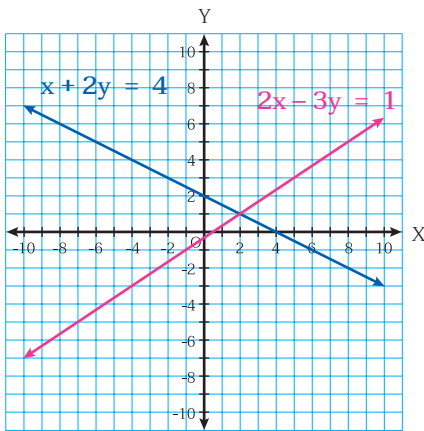


แบบฝึกหัด 3 : คำตอบของระบบสมการจากกราฟ

ระบบสมการเชิงเส้นสองตัวแปรอาจมีคำตอบเดียว มีคำตอบมากมายไม่จำกัด หรือไม่มีคำตอบเลยก็ได้

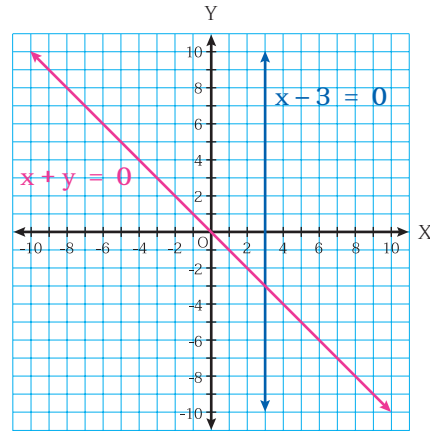
คำชี้แจง ให้นักเรียนพิจารณารูปภาพของระบบสมการเชิงเส้นสองตัวแปรที่กำหนดให้ในแต่ละข้อต่อไปนี้ ว่าแต่ละระบบสมการมีคำตอบ 1 คำตอบ มีคำตอบมากมายไม่จำกัด หรือไม่มีคำตอบ โดยทำเครื่องหมาย ✓ ลงใน หน้าข้อความที่ถูกต้อง

1.



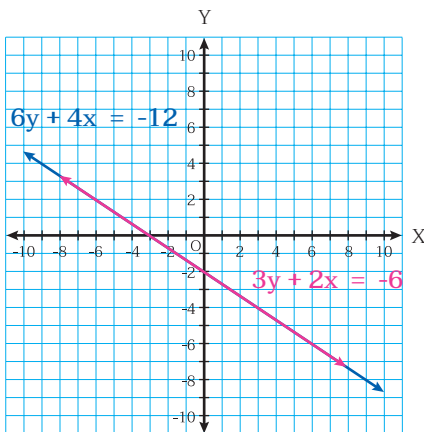
- ระบบสมการนี้มีคำตอบเดียว
- ระบบสมการนี้มีคำตอบมากมายไม่จำกัด
- ระบบสมการนี้ไม่มีคำตอบ

2.



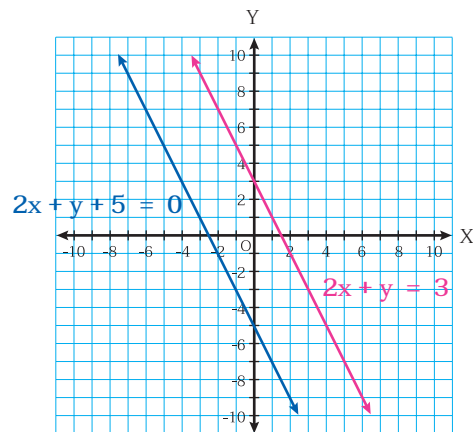
- ระบบสมการนี้มีคำตอบเดียว
- ระบบสมการนี้มีคำตอบมากมายไม่จำกัด
- ระบบสมการนี้ไม่มีคำตอบ

3.



- ระบบสมการนี้มีคำตอบเดียว
- ระบบสมการนี้มีคำตอบมากมายไม่จำกัด
- ระบบสมการนี้ไม่มีคำตอบ

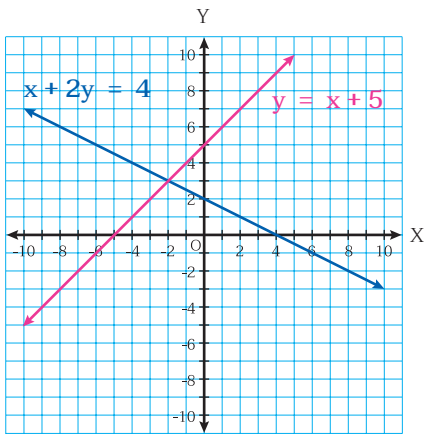
4.



- ระบบสมการนี้มีคำตอบเดียว
- ระบบสมการนี้มีคำตอบมากมายไม่จำกัด
- ระบบสมการนี้ไม่มีคำตอบ

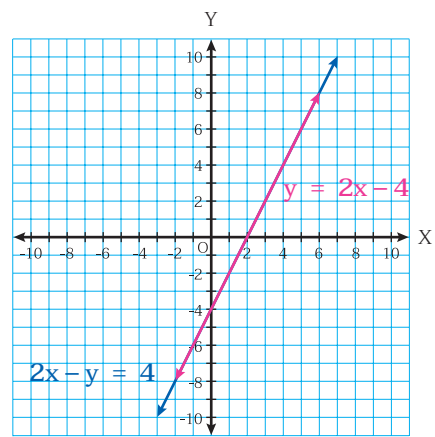
หน่วยการเรียนรู้ที่ 7 จัดการค้าขายง่ายด้วยระบบสมการ

5.



- ระบบสมการนี้มีคำตอบเดียว
- ระบบสมการนี้มีคำตอบมากมายไม่จำกัด
- ระบบสมการนี้ไม่มีคำตอบ

6.



- ระบบสมการนี้มีคำตอบเดียว
- ระบบสมการนี้มีคำตอบมากมายไม่จำกัด
- ระบบสมการนี้ไม่มีคำตอบ

