

8) ภูมิภาคที่เกิดขึ้นจากกร่อนและการสะสมตัวของตะกอนของแม่น้ำมีอะไรบ้าง

.....

.....

.....

9) ถ้านักเรียนพบก้อนหินที่มีลักษณะมน นักเรียนอธิบายได้หรือไม่ว่าความมนของหินเกิดขึ้นได้อย่างไร

.....

.....

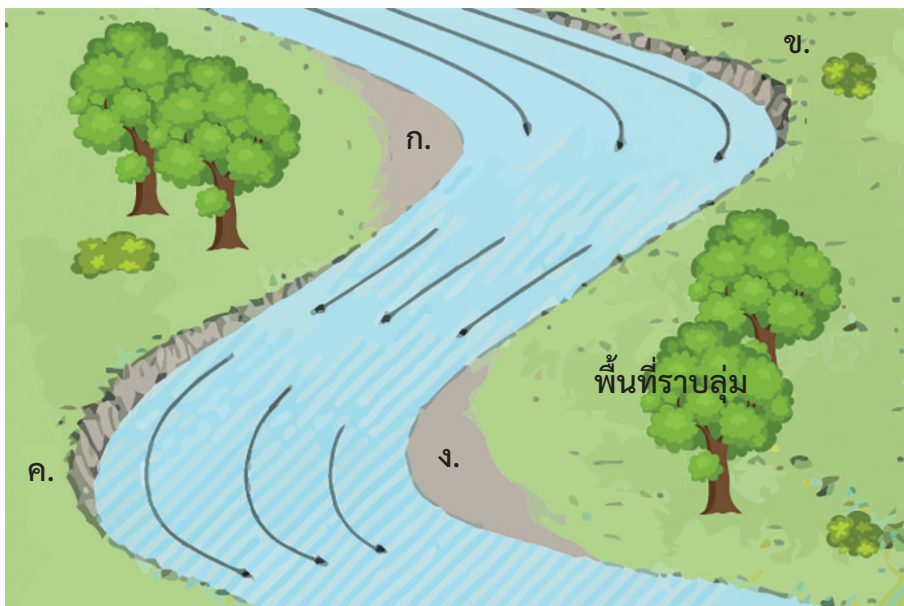
.....

.....

.....

.....

10) ถ้ากระแสน้ำในแม่น้ำมีทิศทางการไหลดังภาพ จงตอบคำถามดังต่อไปนี้



ภาพแสดงทิศทางการไหลของน้ำในแม่น้ำสายหนึ่ง

10.1) ถ้ากระแสน้ำในแม่น้ำมีทิศทางการไหลตามลูกศรอย่างต่อเนื่องเป็นเวลานาน ลักษณะของแม่น้ำ ณ ตำแหน่ง ก. ข. ค. และ ง. จะเปลี่ยนแปลงไปหรือไม่ อย่างไร

.....

.....

.....

.....

10.2) ถ้าน้ำในแม่น้ำยังมีการไหลอย่างต่อเนื่อง แม่น้ำสายนี้จะมีลักษณะเปลี่ยนแปลงไปหรือไม่ อย่างไร

.....

.....

.....

.....

.....

.....


.....

.....

.....

.....


11) เรียงลำดับภาพและอธิบายการเกิดทะเลสาบรูปแอก โดยอาศัยกระบวนการเปลี่ยนแปลงทางธรณีวิทยาบนผิวโลก



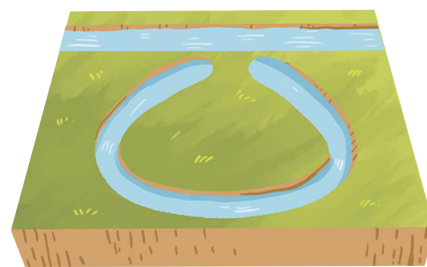
ก.



ข.



ค.



ง.

.....

.....

.....

.....

