

# รายวิชา คณิตศาสตร์

รหัสวิชา ค11101

ชั้นประถมศึกษาปีที่ 1

เรื่อง การเขียนรูปสามเหลี่ยม รูปสี่เหลี่ยม วงกลม  
และวงรี โดยใช้แบบของรูปเรขาคณิตสองมิติ

ครูผู้สอน ครูจิรวุฒิ ภัคดี













การเขียนรูปสามเหลี่ยม รูปสี่เหลี่ยม  
วงกลม และวงรี โดยใช้แบบของรูป  
เรขาคณิตสองมิติ





ให้นักเรียนสังเกตรูปต่อไปนี้  
มีรูปเรขาคณิตสองมิติชนิดใด เพราะเหตุใด







## จุดประสงค์การเรียนรู้

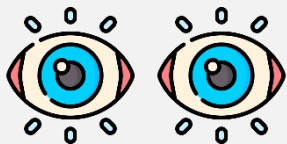
เขียนรูปสามเหลี่ยม รูปสี่เหลี่ยม วงกลม และ  
วงรี โดยใช้แบบ ของรูปเรขาคณิตสองมิติ



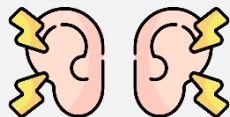


## ข้อตกลงในการเรียน

สองตาดู



สองหูฟัง



สมองคิด



มีสติ



ไม่เข้าใจให้ถาม



กลับบ้านทบทวน



เรียนรู้อย่างฉลาด



เฮ้ เฮ้ เฮ้





ให้นักเรียนบอกว่า  
เป็นรูปเรขาคณิตสองมิติชนิดใด






เป็นรูปเรขาคณิตสองมิติชนิดใด



สี่เหลี่ยมมุมฉาก







เป็นรูปเรขาคณิตสองมิติชนิดใด



สามเหลี่ยม






เป็นรูปเรขาคณิตสองมิติชนิดใด



สี่เหลี่ยมมุมฉาก






เป็นรูปเรขาคณิตสองมิติชนิดใด



วงกลม





เป็นรูปเรขาคณิตสองมิติชนิดใด



สี่เหลี่ยมมุมฉาก




เป็นรูปเรขาคณิตสองมิติชนิดใด



วงรี





เป็นรูปเรขาคณิตสองมิติชนิดใด



สามเหลี่ยม

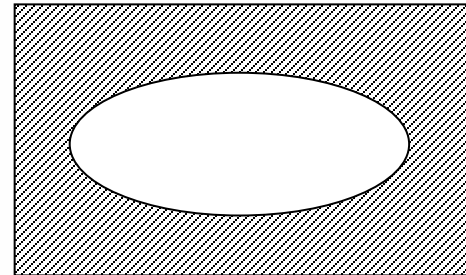

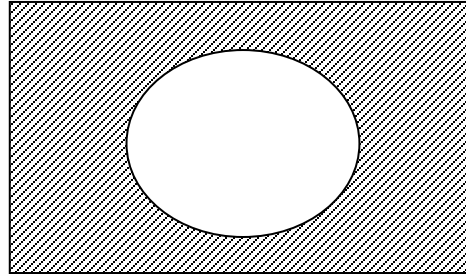
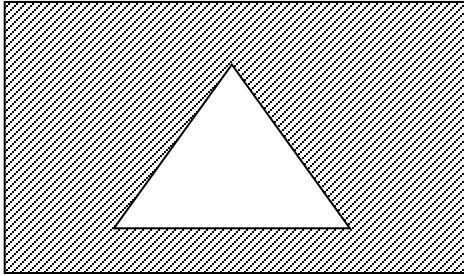





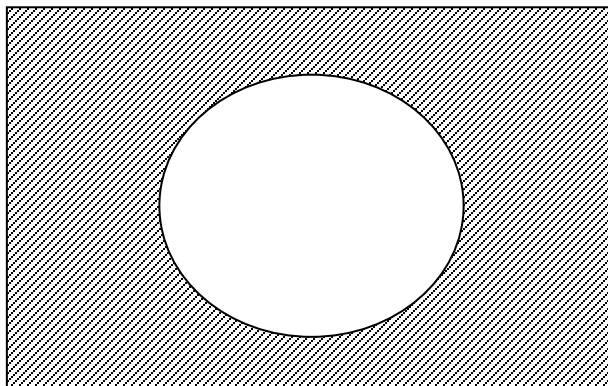
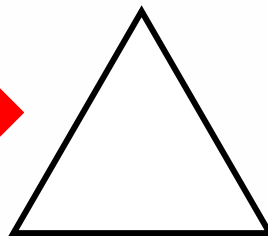
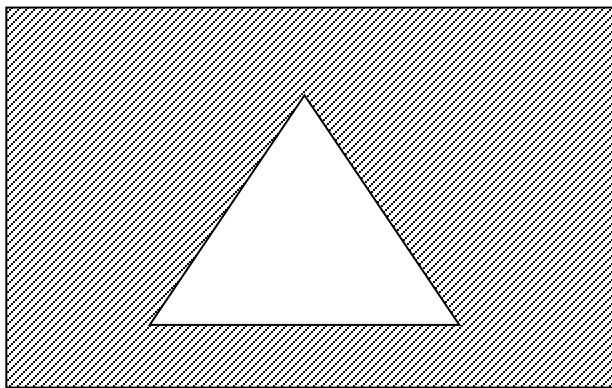
การเขียนรูปสามเหลี่ยม รูปสี่เหลี่ยม  
วงกลม และวงรี โดยใช้แบบของ  
รูปเรขาคณิตสองมิติ

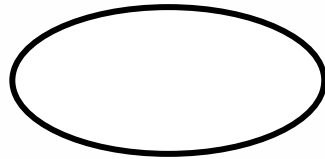

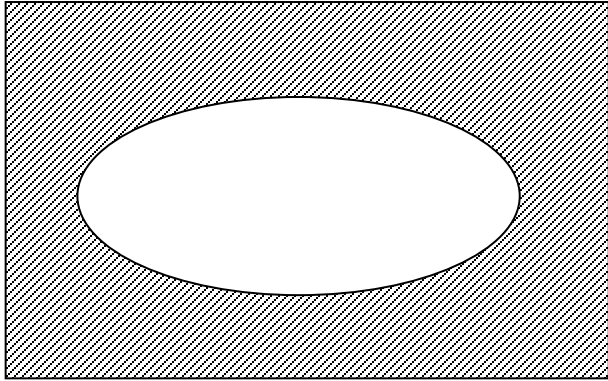





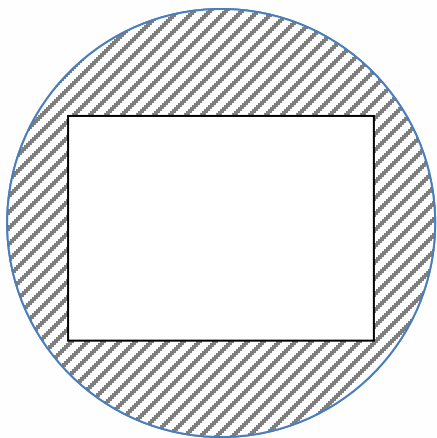
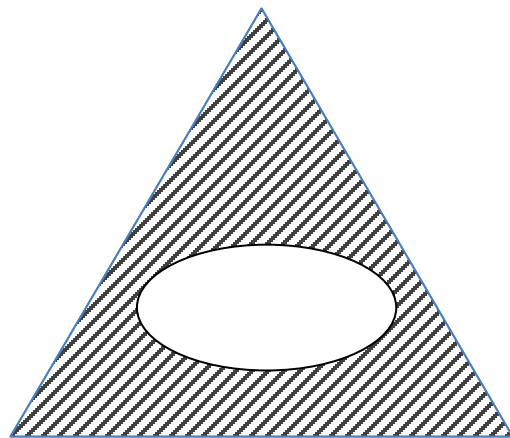

# แบบรูปที่ช่วยเขียนรูป เรขาคณิตสองมิติ











## คำชี้แจงกิจกรรมนักเรียน



- ให้นักเรียนทำแบบฝึกหัด 3.7

## คำชี้แจงบทบาทครูปลายทาง



1. แจกแบบฝึกหัด 3.7 ให้นักเรียน
2. ครูอธิบายคำชี้แจงแต่ละข้อ
3. ครูตรวจสอบความถูกต้องและให้ความช่วยเหลือตามความเหมาะสม

### แบบฝึกหัด 3.7

เขียนรูปตามข้อกำหนด โดยใช้แบบของรูป

1 รูปสามเหลี่ยมอยู่ในรูปสี่เหลี่ยม

2 รูปสี่เหลี่ยมอยู่ในวงกลม

3 วงรีอยู่ในรูปสามเหลี่ยม

4 วงรีอยู่ในวงกลม



### แบบฝึกหัด 3.7

เรื่อง การเขียนรูปสามเหลี่ยม  
รูปสี่เหลี่ยม วงกลม และวงรี  
โดยใช้แบบของรูปเรขาคณิตสองมิติ



(สามารถดาวน์โหลดได้ที่

[www.dltv.ac.th](http://www.dltv.ac.th))



2

ใช้แบบของรูปสามเหลี่ยม รูปสี่เหลี่ยม วงกลม และวงรี  
ประดิษฐ์เป็นภาพตามจินตนาการ พร้อมเขียนชื่อภาพ  
และระบายสีหรือแรเงาให้สวยงาม

ชื่อภาพ .....



### แบบฝึกหัด 3.7


เรื่อง การเขียนรูปสามเหลี่ยม  
รูปสี่เหลี่ยม วงกลม และวงรี  
โดยใช้แบบของรูปเรขาคณิตสองมิติ



(สามารถดาวน์โหลดได้ที่

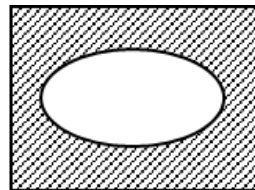
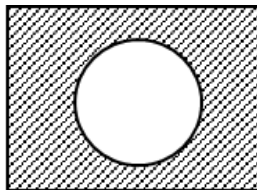
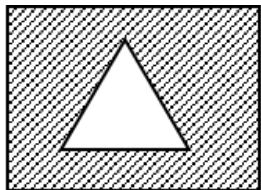
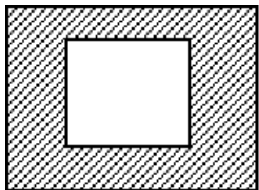
[www.dltv.ac.th](http://www.dltv.ac.th))





# สรุป

การใช้แบบของรูปเรขาคณิตสองมิติเขียนรูป  
สามเหลี่ยม รูปสี่เหลี่ยม วงกลม และวงรี ซึ่งจะได้ว่า  
จะทำให้ได้ รูปเรขาคณิตสองมิติที่ถูกต้องและสมบูรณ์





# บทเรียนครั้งต่อไป

เรื่อง การเขียนรูปสามเหลี่ยม รูปสี่เหลี่ยม  
วงกลม และวงรี โดยใช้สิ่งต่าง ๆ  
เป็นแบบ

