

รายวิชา คณิตศาสตร์


รหัสวิชา ค11101

ชั้นประถมศึกษาปีที่ 1

เรื่อง วงกลม และวงรี

ครูผู้สอน ครูจิรวุฒิ ภัคดี





วงกลม และวงรี






ภาพนี้เป็นภาพอะไร

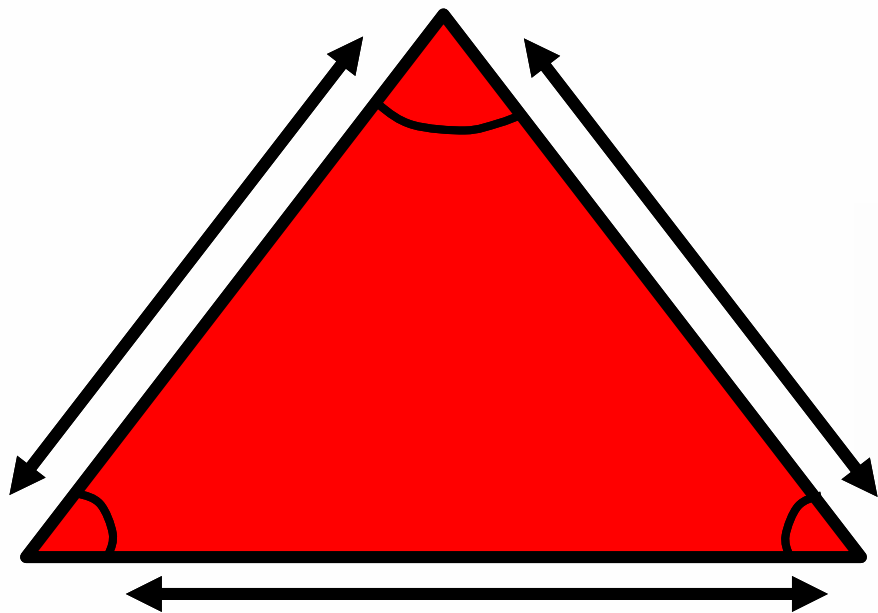
ประกอบด้วยรูปเรขาคณิตสองมิติอะไรบ้าง






ทำไมถึงเรียกรูปสามเหลี่ยม






รูปสามเหลี่ยม มีด้าน 3 ด้าน มีมุม 3 มุม
โดยที่ด้านแต่ละด้านมีลักษณะตรง






ทำไมถึงเรียกรูปสี่เหลี่ยม





รูปสี่เหลี่ยม มีด้าน 4 ด้าน มีมุม 4 มุม
รูปสี่เหลี่ยมอาจมีลักษณะแตกต่างกัน
แต่จะมีด้าน 4 ด้าน มุม 4 มุม เหมือนกัน





จุดประสงค์การเรียนรู้

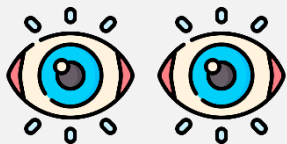
จำแนกวงกลม และวงรี



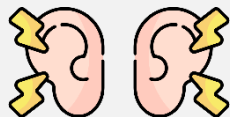


ข้อตกลงในการเรียน

สองตาดู



สองหูฟัง



สมองคิด



มีสติ



ไม่เข้าใจให้ถาม



กลับบ้านทบทวน




เรียนรู้อย่างฉลาด




เฮ้ เฮ้ เฮ้










วงกลม และวงรี






วงกลม





วงกลม



วงรี







ฝึก คิด ลอง ทำ

ให้นักเรียนพิจารณาว่ารูปใดบ้างเป็นวงกลม
รูปใดบ้างเป็นวงรี







A



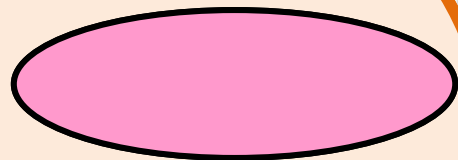
B



C



D



E

คำชี้แจงกิจกรรมนักเรียน



- ให้นักเรียนทำแบบฝึกหัด 3.5

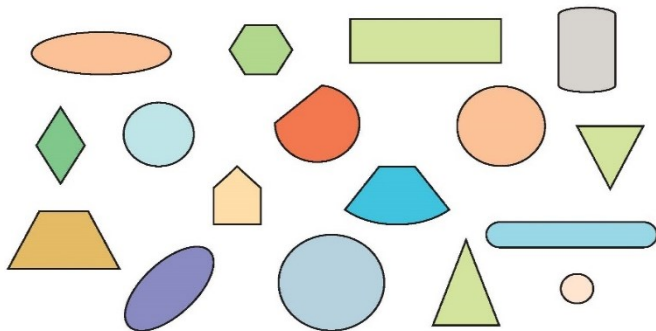
คำชี้แจงบทบาทครูปลายทาง




1. แจกแบบฝึกหัด 3.5 ให้นักเรียน
2. ครูอธิบายคำชี้แจงแต่ละข้อ
3. ครูตรวจสอบความถูกต้องและให้ความช่วยเหลือตามความเหมาะสม

แบบฝึกหัด 3.5

1 เขียน ✓ ที่วงกลม



2 เขียน ✓ ที่วงรี




แบบฝึกหัด 3.5

เรื่อง วงกลม และวงรี



(สามารถดาวน์โหลดได้ที่
www.dltv.ac.th)

3 เติมคำตอบ และระบายสีให้สวยงาม



มีวงกลม รูป

มีวงรี รูป



แบบฝึกหัด 3.5

เรื่อง วงกลม และวงรี




(สามารถดาวน์โหลดได้ที่
www.dltv.ac.th)



สรุป

วงกลมและวงรีเป็นรูปเรขาคณิตสองมิติที่ไม่มีด้าน ไม่มีมุม เส้นขอบของรูปมีลักษณะโค้ง แต่วงรีจะมีลักษณะยาวรีกว่าวงกลม





บทเรียนครั้งต่อไป

เรื่อง รูปเรขาคณิตสองมิติ
และรูปเรขาคณิตสามมิติ

