

รายวิชาคณิตศาสตร์

รหัสวิชา ค13101

ชั้นประถมศึกษาปีที่ 3

เรื่อง การเปรียบเทียบจำนวนเงิน

ครูผู้สอน ครูสุคนธา บุโกลก



การเปรียบเทียบ จำนวนเงิน





ภาพที่ 1



ภาพที่ 2



ภาพที่ 3



ภาพที่ 4

จุดประสงค์การเรียนรู้

1. เปรียบเทียบจำนวนเงิน
2. ให้เหตุผล สื่อสารและสื่อความหมายทางคณิตศาสตร์
3. เห็นคุณค่าของคณิตศาสตร์ว่าสามารถนำไปใช้ในชีวิตจริงได้





185 บาท มากกว่า 100 บาท



64.50 บาท น้อยกว่า 70.75 บาท

กิจกรรม “สะสมทรัพย์”

1. ครูแจกบัตรคำ “มากกว่า” “น้อยกว่า” หรือ “เท่ากับ”
ให้กลุ่มละ 1 ชุด
2. การเล่นเกมแต่ละรอบให้กลุ่มส่งตัวแทนขึ้นในรอบละ 1 คน
3. ครูมีบัตรภาพจำนวนเงินหรือสินค้า ให้ตัวแทนกลุ่ม
เปรียบเทียบจำนวนเงินจากบัตรภาพและชูบัตรคำ
“มากกว่า” “น้อยกว่า” หรือ “เท่ากับ”



รางวัลมูลค่า 12 บาท



64,990.00 บาท

64,990.00 บาท



34,990.00 บาท

34,990.00 บาท

รางวัลมูลค่า 17 บาท



627.75 บาท

627.75 บาท



627.75 บาท

627.75 บาท



ก็องมีเงิน



ปานมีเงิน





ก้องมีเงิน



ปานมีเงิน




รางวัลมูลค่า 17 บาท





รางวัลมูลค่า 25 บาท



858.50 บาท



ใจมีเงิน.....265.25.....บาท





จอยมีเงิน.....269.00.....บาท





โจมีเงิน **265.25** บาท




จอยมีเงิน **269.00** บาท



โจมีเงินมากกว่าหรือน้อยกว่าจอย



269.00 บาท



259.75 บาท

ราคาตุ๊กตาหมีมากกว่าหรือน้อยกว่าราคาตุ๊กตาสุนัข



269.00 บาท



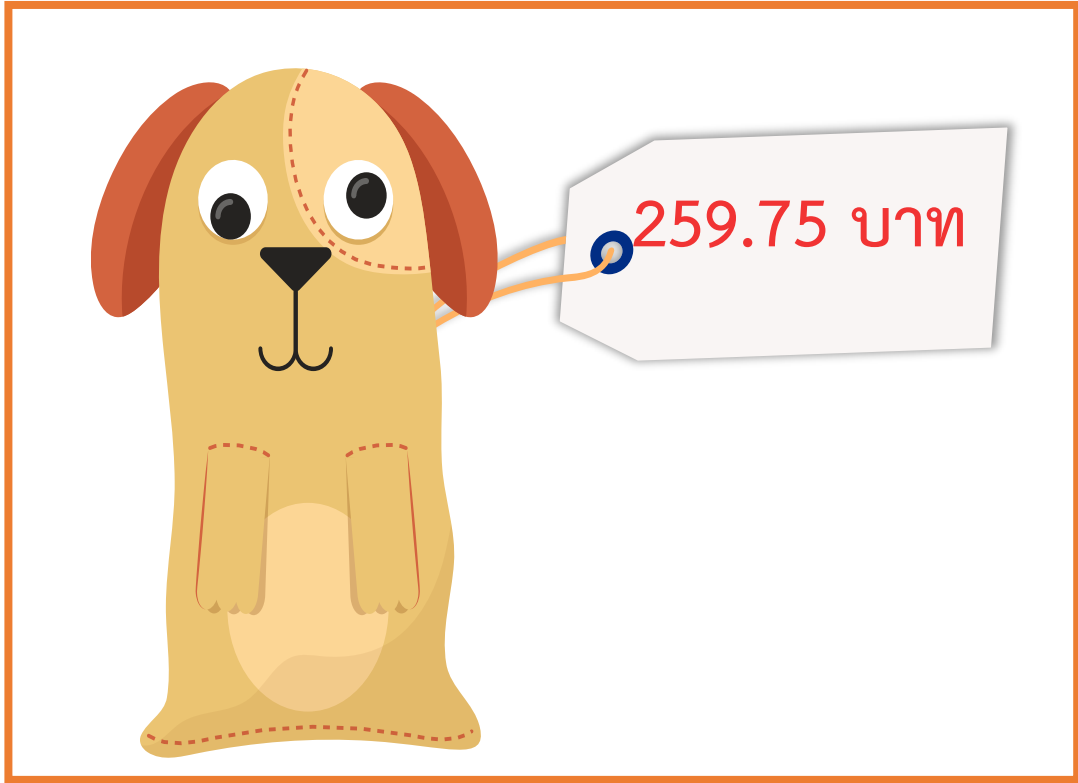
จอยมีเงิน.....บาท



จอยซื้อตุ๊กตาหมีได้หรือไม่ เพราะอะไร



โจมีเงิน.....บาท



โจซื้อตุ๊กตาสุนัขได้หรือไม่ เพราะอะไร

สสย



จากกิจกรรมนี้ สรุปได้ว่า.....

จำนวนเงินสองจำนวน เมื่อนำมาเปรียบเทียบกัน
จำนวนเงินอาจมากกว่ากัน หรือน้อยกว่ากัน
หรือเท่ากันอย่างไรก็ตามอย่างหนึ่ง



แบบฝึกหัด 7.7

หน่วยที่ ๗ เงิน

☆☆☆ ป.๗.๗/ป.๗

แบบฝึกหัด 7.7

1 เขียนคำตอบในช่องว่าง

1) 
 เก็บมีเงิน บาท สตางค์

2) 
 แจกมีเงิน บาท สตางค์

3) 
 อุ้มมีเงิน บาท สตางค์

- 4) มีเงินมากที่สุด
 5) มีเงินน้อยที่สุด
 6) แจกมีเงิน อุ้ม แต่ เก้

หน่วยที่ ๗ เงิน

☆☆☆ ป.๗.๗/ป.๗

2 เปรียบเทียบจำนวนเงินโดยเขียนคำ มากกว่า น้อยกว่า หรือเท่ากับ ลงในช่องว่าง

1) 1,290 บาท	893 บาท
2) 409 บาท 50 สตางค์	480 บาท 75 สตางค์
3) 6,064 บาท 75 สตางค์	6,064.75 บาท
4) 721.50 บาท	712.75 บาท
5) 649.00 บาท	64.50 บาท
6) 867.25 บาท	1,890 บาท
7) 120 บาท 75 สตางค์	210 บาท 50 สตางค์
8) 3,052.25 บาท	3,052 บาท 25 สตางค์
9) 1,189.75 บาท	913 บาท
10) 8,267 บาท 75 สตางค์	8,267.75 บาท



แบบฝึกหัด 7.7

หน่วยที่ ๗ เงิน

☆☆☆ ป.๗.๗/ป.๗

3 เขียนคำตอบลงในช่องว่าง



1,759 บาท

รถจักรยานคันที่ 1



2,459.50 บาท

รถจักรยานคันที่ 2



2,049.75 บาท

รถจักรยานคันที่ 3



2,999 บาท

รถจักรยานคันที่ 4

1) รถจักรยานคันที่ 2 ราคาแพงกว่าหรือน้อยกว่ารถจักรยานคันที่ 3

.....

2) รถจักรยานคันใดมีราคาแพงที่สุด

.....

3) รถจักรยานคันใดมีราคาน้อยที่สุด

.....

4) ถ้ามีเงิน 2,500 บาท สามารถซื้อรถจักรยานคันใดได้บ้าง

.....

.....



1,759 บาท

รถจักรยานคันที่ 1



2,459.50 บาท

รถจักรยานคันที่ 2



2,049.75 บาท

รถจักรยานคันที่ 3



2,999 บาท

รถจักรยานคันที่ 4

บทเรียนครั้งต่อไป



เรื่อง การบวกและการลบจำนวนเงิน



สิ่งที่ต้องเตรียม

แบบฝึกหัด 7.8

สามารถดาวน์โหลดได้ที่ www.dltv.ac.th

