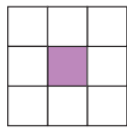




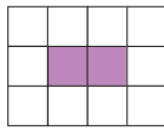
ใบกิจกรรม 5.6

คำชี้แจง แสดงวิธีคิดและหาคำตอบ

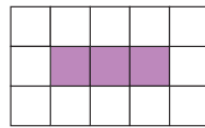
ถ้าเรียงกระเบื้องสีม่วง 1 แผ่น จะต้องใช้กระเบื้องสีขาว 8 แผ่น ล้อมรอบกระเบื้องสีม่วง
ถ้าเรียงกระเบื้อง สีม่วง 2 แผ่น จะต้องใช้กระเบื้องสีขาว 10 แผ่น ล้อมรอบกระเบื้องสีขาว
ดังรูป



รูปที่ 1



รูปที่ 2



รูปที่ 3

จะต้องเรียงกระเบื้องแบบใด และใช้กระเบื้องสีขาวกี่แผ่น ถ้ามีกระเบื้องสีม่วง 4 แผ่น และ 7 แผ่น
ตามลำดับ และถ้ามีกระเบื้องสีขาว 50 แผ่น จะมีกระเบื้องสีม่วงด้านในกี่แผ่น

รูปที่	จำนวนกระเบื้อง (แผ่น)	
	กระเบื้องสีม่วง	กระเบื้องสีขาว

.....

.....

.....

.....

Blank lined writing area for student response.