




แบบฝึกหัด 5.6

คำชี้แจง ตอบคำถามต่อไปนี้


1. ลุงอำนวยมีวิธีการปูกระเบื้อง ดังรูป



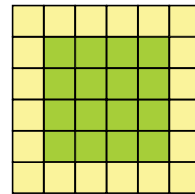
รูปที่ 1



รูปที่ 2



รูปที่ 3



รูปที่ 4

1) จากรูป รูปที่ 1, 2, 3 และ 4 มีกระเบื้องสีเขียวกี่แผ่น และกระเบื้องสีเหลืองกี่แผ่น

ตอบ

.....

.....

2) ถ้าปูกระเบื้องสีเขียว 25 แผ่น และ 49 แผ่น จะต้องใช้กระเบื้องสีเหลืองกี่แผ่น

ตอบ

.....

.....

3) ถ้ามีกระเบื้องสีเหลือง 100 แผ่น จะมีกระเบื้องสีเขียวด้านในกี่แผ่น

ตอบ

.....


.....

รูปที่	จำนวนกระเบื้อง (แผ่น)	
	กระเบื้องสีเขียว	กระเบื้องสีเหลือง
1		
2		
3		
4		
5		
6		
7		
.		
.		
.		
24		


2. เมื่อกานตามองไปบนท้องฟ้า จะมองเห็นนกบินเป็นรูปตัววี ถ้าให้จุดแต่ละจุดแทนนก 1 ตัว และฝูงนกบินดังรูป



รูปที่ 1



รูปที่ 2



รูปที่ 3

จากแบบรูปแสดงฝูงบินของนก ตอบคำถามต่อไปนี้

ตารางแสดงจำนวนนกที่บินเป็นรูปตัววี

รูปที่	จำนวนนก (ตัว)
1	
2	
3	
4	
5	
.	
.	
.	
9	
.	
.	
.	
50	

- 1) รูปที่ 5 มีนกจำนวนกี่ตัว เขียนรูปประกอบด้วย

ตอบ

- 2) รูปที่เท่าใดที่มีนก 19 ตัว

ตอบ

- 3) เป็นไปได้หรือไม่ ที่จะมียนกจำนวน 84 ตัว บินเป็นรูปตัววี

ตอบ

- 4) รูปที่ 50 มีนกจำนวนกี่ตัว

ตอบ