









## แบบฝึกหัด 7.3



1) เขียนวงล้อมรอบเงินเหรียญให้เท่ากับจำนวนเงินที่กำหนดให้

1)  แลกได้ 

2)  แลกได้ 

3)  แลกได้ 

4)  แลกได้ 

5)  แลกได้ 

- 2 เขียนวงล้อมรอบเงินเหรียญให้เท่ากับจำนวนเงินที่กำหนดให้ โดยให้มีเหรียญครบทุกชนิด

1)



แลกได้



2)



แลกได้



3)



แลกได้



4)



แลกได้



5)



แลกได้

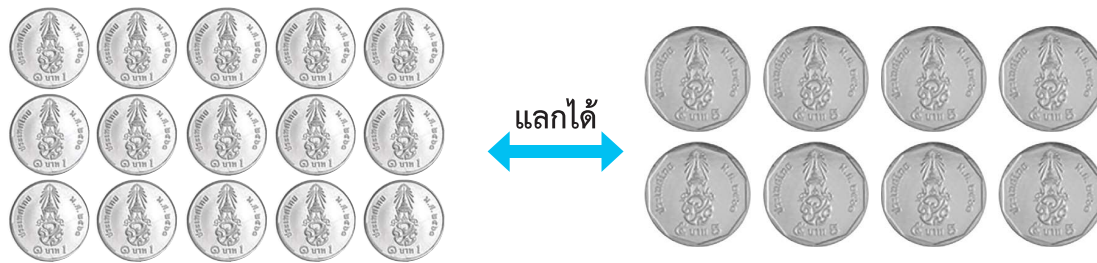


## 3 เขียนวงล้อมรอบเงินเหรียญให้เท่ากับจำนวนเงินที่กำหนดให้

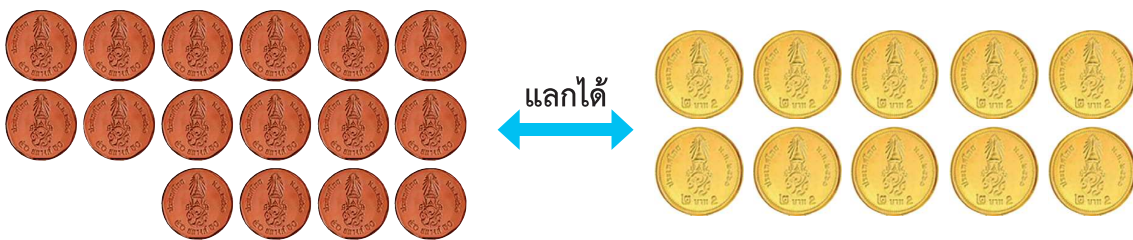
1)



2)



3)



4)

