

# รายวิชาคณิตศาสตร์

รหัสวิชา ค13101

ชั้นประถมศึกษาปีที่ 3

เรื่อง ชนิดและค่าของเงินเหรียญ

ครูผู้สอน ครูสุคนธา บุโกลก



# ชนิดและค่า ของเงินเหรียญ



# จุดประสงค์การเรียนรู้

1. จำแนกและบอกค่าเงินเหรียญ
2. เปรียบเทียบค่าของเงินเหรียญ
3. แก้ปัญหา สื่อสารและสื่อความหมายทางคณิตศาสตร์
4. เห็นคุณค่าของคณิตศาสตร์ว่าสามารถนำไปใช้ในชีวิตจริงได้



# เหรียญชนิดราคา 1 บาท หรือเหรียญหนึ่งบาท



ด้านหน้า



ด้านหลัง



ด้านหน้า



ด้านหลัง

มีลักษณะเป็นวงกลม สีเงิน




มีเงินเหรียญหนึ่งบาท 7 เหรียญ มีเงินกี่บาท



มีเงิน 7 บาท





ต้องการซื้ออย่างละราคา 2 บาท  
ต้องจ่ายเงินด้วยเหรียญหนึ่งบาทก็เหรียญ



ต้องจ่ายเงินด้วยเหรียญหนึ่งบาท 2 เหรียญ





ต้องการซื้อไม้บรรทัดราคา 5 บาท  
ต้องจ่ายเงินด้วยเหรียญหนึ่งบาทก็เหรียญ



ต้องจ่ายเงินด้วยเหรียญหนึ่งบาท 5 เหรียญ



มีเงินเหรียญหนึ่งบาท 8 เหรียญ  
ซื้อสมุดราคา 7 บาทได้หรือไม่ เพราะเหตุใด





มีเงินเหรียญหนึ่งบาท 8 เหรียญ  
ซื้อสมุดราคา 7 บาทได้หรือไม่ เพราะเหตุใด



# เหรียญชนิดราคา 2 บาท หรือเหรียญสองบาท



ด้านหน้า



ด้านหลัง



ด้านหน้า



ด้านหลัง

มีลักษณะเป็นวงกลม สีทอง




มีเงินเหรียญสองบาท 5 เหรียญ มีเงินก๊باط



มีเงิน 10 บาท



ต้องการช็อกบเหลาดินสอราคา 8 บาท  
ต้องจ่ายเงินด้วยเหรียญสองบาทกี่เหรียญ



ต้องจ่ายเงินด้วยเหรียญสองบาท 4 เหรียญ

ต้องการช็อกบเหลาดินสอราคา 8 บาท  
ต้องจ่ายเงินด้วยเหรียญสองบาทกี่เหรียญ




ต้องจ่ายเงินด้วยเหรียญสองบาท 4 เหรียญ

ต้องการซื้อปากกาคา 12 บาท  
ต้องจ่ายเงินด้วยเหรียญสองบาทกี่เหรียญ



ต้องจ่ายเงินด้วยเหรียญสองบาท 6 เหรียญ

ต้องการซื้อปากกาคา 12 บาท  
ต้องจ่ายเงินด้วยเหรียญสองบาทกี่เหรียญ



ต้องจ่ายเงินด้วยเหรียญสองบาท 6 เหรียญ

มีเงินเหรียญสองบาท 10 เหรียญ  
ซื้อขนมราคา 14 บาทได้หรือไม่ เพราะเหตุใด



14 บาท



ได้ เพราะเหรียญสองบาท 10 เหรียญ มีค่า 20 บาท



มีเงินเหรียญสองบาท 10 เหรียญ  
ซื้อขนมราคา 14 บาทได้หรือไม่ เพราะเหตุใด



14 บาท



ได้ เพราะเหรียญสองบาท 10 เหรียญ มีค่า 20 บาท

# เหรียญชนิดราคา 5 บาท หรือเหรียญห้าบาท



ด้านหน้า



ด้านหลัง



ด้านหน้า



ด้านหลัง

มีลักษณะเป็นวงกลม สีเงิน



มีเงินเหรียญห้าบาท 4 เหรียญ มีเงินก๊บบาท



มีเงิน 20 บาท



ต้องการชื้อน้ำยาลบคำผิด ราคา 15 บาท  
ต้องจ่ายเงินด้วยเหรียญห้าบาทกี่เหรียญ



ต้องจ่ายเงินด้วยเหรียญห้าบาท 3 เหรียญ

มีเงินเหรียญห้าบาท 5 เหรียญ  
ซื้อดินสอสีราคา 40 บาทได้หรือไม่ เพราะเหตุใด



มีเงิน 25 บาท



ไม่ได้

# เหรียญชนิดราคา 10 บาท หรือเหรียญสิบบาท



ด้านหน้า



ด้านหลัง



ด้านหน้า



ด้านหลัง

มีลักษณะเป็นวงกลม  
โดยวงนอกเป็นโลหะสีขาว วงในเป็นโลหะสีทอง





มีเงินเหรียญสิบบาท  
3 เหรียญ  
มีเงินก๊ิบาท



มีเงิน 30 บาท



ต้องการซื้อปากกา  
เน้นข้อความ  
ราคา 40 บาท  
ต้องจ่ายเงินด้วย  
เหรียญสิบบาทก็เหรียญ




ต้องจ่ายเงินด้วยเหรียญสิบบาท  
4 เหรียญ





มีเงินเหรียญสิบบาท  
5 เหรียญ ซื้อดินสอสี  
ราคา 49 บาท  
ได้หรือไม่ เพราะเหตุใด




มีเงิน 50 บาท



มีเงินเหรียญสิบบาท  
5 เหรียญ ซื้อดินสอสี  
ราคา 49 บาท  
ได้หรือไม่ เพราะเหตุใด

ซื้อได้





เหรียญสิบบาท 1 เหรียญ



เหรียญสิบบาท 1 เหรียญ  
กับเหรียญห้าบาท 1 เหรียญ  
เหรียญใดมีค่ามากกว่า  
เพราะเหตุใด

เหรียญชนิด 50 สตางค์ หรือเหรียญห้าสิบสตางค์

เหรียญชนิด 25 สตางค์ หรือเหรียญยี่สิบห้าสตางค์



# เหรียญชนิด 50 สตางค์ หรือเหรียญห้าสิบสตางค์



ด้านหน้า



ด้านหลัง



ด้านหน้า



ด้านหลัง



ด้านหน้า



ด้านหลัง



ด้านหน้า



ด้านหลัง

# เหรียญชนิด 25 สตางค์ หรือเหรียญยี่สิบห้าสตางค์

เงินเหรียญสี่สิบห้าสตางค์ 2 เหรียญ มีค่าเท่าไร



50 สตางค์

เงินเหรียญสี่สิบห้าสตางค์ 3 เหรียญ มีค่าเท่าไร



75 สตางค์





100 สตางค์

100 สตางค์ มีค่าเท่ากับ 1 บาท



เท่ากับ



# เงินเหรียญห้าสิบบาทต่างค์ 2 เหรียญ มีค่าเท่าไร



100 สตางค์

100 สตางค์ มีค่าเท่ากับ 1 บาท



เท่ากับ







เท่ากับ



เท่ากับ



เหรียญสี่สิบห้าต่างค้ก็เหรียญ มีค่าเท่ากับเหรียญห้าสิบต่างค้ 1 เหรียญ



เท่ากับ





เงินเหรียญที่กล่าวมาทั้งหมด เรียกว่า **เหรียญกษาปณ์**


เหรียญ 10 สตางค์



เหรียญ 5 สตางค์



เหรียญ 1 สตางค์



ให้นักเรียนแต่ละกลุ่มร่วมกันประดิษฐ์กระปุกออมสิน

เพื่อใช้ออมเงิน

ในการเรียนหน่วยการเรียนรู้ที่ 7 เรื่อง เงิน



นักเรียนอาจใช้แก้ว พลาสติกใส  
ฝา และเทปใส ตัดภาพ



สสย



# จากกิจกรรมนี้ สรุปได้ว่า....

เงินเหรียญชนิดราคาต่าง ๆ สืบเนื่องจากสี ขนาดของเหรียญ  
และตัวเลขระบุจำนวนเงินที่ด้านหลัง



ด้านหน้า



ด้านหลัง



ด้านหน้า



ด้านหลัง

เหรียญสีบบาท 1 เหรียญ มีค่า 10 บาท



# จากกิจกรรมนี้ สรุปได้ว่า....



ด้านหน้า



ด้านหลัง



ด้านหน้า



ด้านหลัง

เหรียญห้าบาท 1 เหรียญ มีค่า 5 บาท



# จากกิจกรรมนี้ สรุปได้ว่า....



ด้านหน้า



ด้านหลัง



ด้านหน้า



ด้านหลัง

เหรียญสองบาท 1 เหรียญ มีค่า 2 บาท



# จากกิจกรรมนี้ สรุปได้ว่า....



ด้านหน้า



ด้านหลัง



ด้านหน้า



ด้านหลัง

เหรียญหนึ่งบาท 1 เหรียญ มีค่า 1 บาท





# จากกิจกรรมนี้ สรุปได้ว่า....



ด้านหน้า



ด้านหลัง



ด้านหน้า



ด้านหลัง

เหรียญห้าสิบบาทต่างค์ 1 เหรียญ มีค่า 50 สตางค์



# จากกิจกรรมนี้ สรุปได้ว่า....



ด้านหน้า



ด้านหลัง



ด้านหน้า



ด้านหลัง

เหรียญสี่สิบห้าสตางค์ 1 เหรียญ มีค่า 25 สตางค์



# จากกิจกรรมนี้ สรุปได้ว่า....

เงินเหรียญที่มีค่าน้อยที่สุด ----- เงินเหรียญที่มีค่ามากที่สุด



# แบบฝึกหัด 7.1

## แบบฝึกหัด 7.1

### 1 โยงเส้นจับคู่ภาพและชนิดของเหรียญ





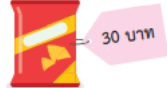

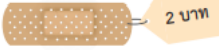

- |  |   |                         |
|--|---|-------------------------|
| 1)  | • | • เหรียญสิบบาท          |
| 2)  | • | • เหรียญยี่สิบบาทสตางค์ |
| 3)  | • | • เหรียญห้าสตางค์       |
| 4)  | • | • เหรียญห้าบาท          |
| 5)  | • | • เหรียญห้าสิบบาทสตางค์ |
| 6)  | • | • เหรียญสองบาท          |
|  | • | • เหรียญหนึ่งบาท        |
|  | • | • เหรียญหนึ่งสตางค์     |



### 2 เขียนวงล้อมรอบเหรียญตามเงื่อนไขที่กำหนด

- |    |                              |   |
|----|------------------------------|---|
| 1) | เงินเหรียญที่มีค่ามากกว่า    |    |
| 2) | เงินเหรียญที่มีค่าน้อยกว่า   |    |
| 3) | เงินเหรียญที่มีค่าน้อยกว่า   |    |
| 4) | เงินเหรียญที่มีค่ามากกว่า    |    |
| 5) | เงินเหรียญที่มีค่าน้อยที่สุด |  |
| 6) | เงินเหรียญที่มีค่ามากที่สุด  |  |

### 3 เขียนวงล้อมรอบเหรียญให้เท่ากับราคาสินค้าที่กำหนด

- |    |   |   |
|----|---|---|
| 1) |    |    |
| 2) |    |    |
| 3) |    |    |
| 4) |  |  |

บทเรียนครั้งต่อไป



เรื่อง

เงินเหรียญและธนบัตรชนิดต่าง ๆ





## สิ่งที่ต้องเตรียม

1. เงินเหรียญหรือเงินเหรียญจำลอง
2. ธนบัตร
3. ธนบัตรจำลอง
4. แบบฝึกหัด 7.2

สามารถดาวน์โหลดได้ที่ [www.dltv.ac.th](http://www.dltv.ac.th)

