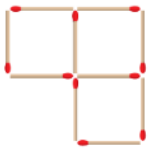


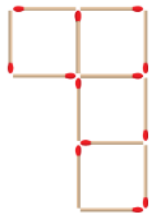


ใบกิจกรรม 5.5

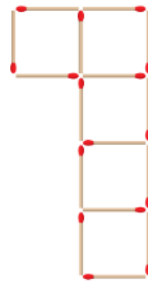
คำชี้แจง หาความยาวรอบรูปที่เกิดจากการนำก้อนไม้ขีดมาต่อกันของรูปที่ 20 และรูปที่ 50
กำหนดให้ ก้อนไม้ขีด 1 ก้อน มีความยาว 1 หน่วย



รูปที่ 1



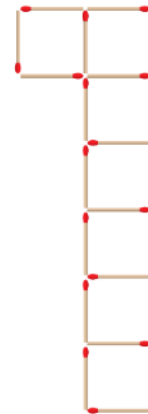
รูปที่ 2



รูปที่ 3



รูปที่ 4



รูปที่ 5

รูปที่	ความยาวรอบรูป (หน่วย)
1	
2	
3	
4	
5	

รูปที่ 20 มีความยาวรอบรูป.....

รูปที่ 50 มีความยาวรอบรูป.....