



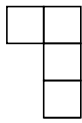
แบบฝึกหัด 5.5

คำชี้แจง ตอบคำถามต่อไปนี้

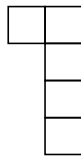
1. จากรูป นับจำนวนรูปสี่เหลี่ยมจัตุรัสในแต่ละรูป ตอบคำถามและเติมจำนวนที่นับได้ลงในตาราง แล้วหาว่ารูปที่ 8, 10, 20 และ 100 มีจำนวนรูปสี่เหลี่ยมจัตุรัสกี่รูป




รูปที่ 1



รูปที่ 2



รูปที่ 3



รูปที่ 4

1) รูปที่ 1 มีจำนวนรูปสี่เหลี่ยมจัตุรัสกี่รูป

ตอบ .....

2) รูปที่ 2 มีจำนวนรูปสี่เหลี่ยมจัตุรัสกี่รูป

ตอบ .....

3) รูปที่ 3 มีจำนวนรูปสี่เหลี่ยมจัตุรัสกี่รูป

ตอบ .....

4) รูปที่ 4 มีจำนวนรูปสี่เหลี่ยมจัตุรัสกี่รูป

ตอบ .....

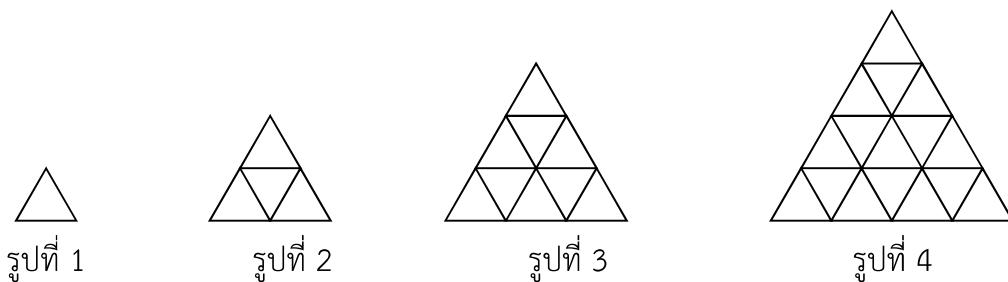
5) จำนวนรูปสี่เหลี่ยมจัตุรัสของแต่ละรูปมีการเปลี่ยนแปลงอย่างไร

ตอบ .....

6) เติมจำนวนลงในตาราง

รูปที่	จำนวนรูปสี่เหลี่ยมจัตุรัส (รูป)		
	เขียนรูปการบวก	เขียนในรูปการคูณ	ผลลัพธ์
1			
2			
3			
4			
8			
10			
20			
100			


2. จากรูป นับจำนวนรูปสามเหลี่ยมด้านเท่าที่มีด้านยาวด้านละ 1 หน่วย และเติมจำนวนลงในตาราง



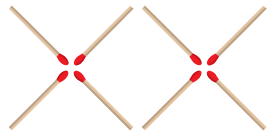
รูปที่	จำนวนรูปสามเหลี่ยมด้านเท่าที่มีด้านยาวด้านละ 1 หน่วย
1	
2	
3	
4	
5	
6	
10	




3. จากรูป นับจำนวนไม้ขีดที่ใช้ต่อรูปต่าง ๆ ตอบคำถามและเติมจำนวนที่นับได้ในตาราง แล้วหาว่าต้องใช้ไม้ขีดจำนวนเท่าใด ในการสร้างรูปที่ 4, 5, 6, 10, 30 และ 50



รูปที่ 1



รูปที่ 2



รูปที่ 3

1) รูปที่ 1 มีจำนวนไม้ขีดกี่อัน

ตอบ.....

2) รูปที่ 2 มีจำนวนไม้ขีดกี่อัน

ตอบ.....

3) รูปที่ 3 มีจำนวนไม้ขีดกี่อัน

ตอบ.....

4) จำนวนไม้ขีดของแต่ละรูปมีการเปลี่ยนแปลงอย่างไร

ตอบ.....

5) เติมจำนวนลงในตาราง

รูปที่	จำนวนไม้ขีด (อัน)		
	เขียนรูปการบวก	เขียนในรูปการคูณ	ผลลัพธ์
1			
2			
3			
4			
5			
6			
10			
30			
50			