



แบบฝึกหัด 5.4

คำชี้แจง เขียนรูปในช่องว่างให้มีความสัมพันธ์กับแบบรูปที่กำหนดให้

1)

●	▲	■	●		■	●	▲	
---	---	---	---	--	---	---	---	--

2)

▲	■	⬠	▲	■	⬠			⬠
---	---	---	---	---	---	--	--	---

3)

▲	▲	■	■	●	●	⬠	
---	---	---	---	---	---	---	--

4)


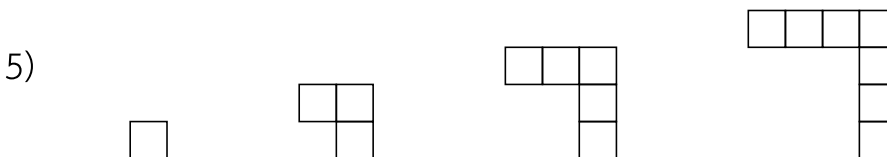

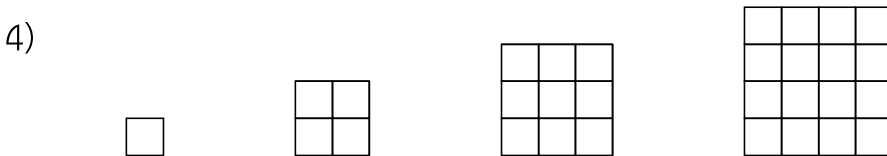

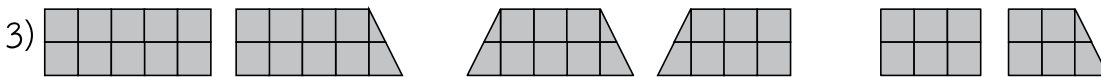

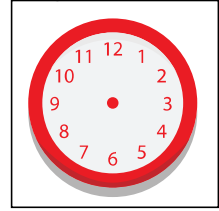
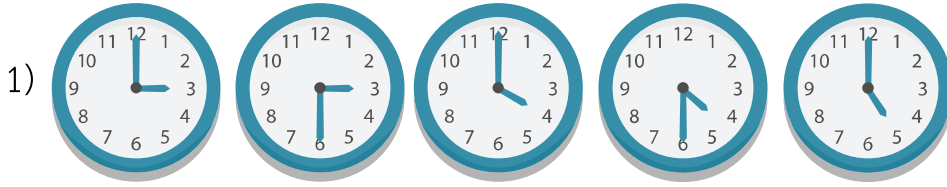
▲	▼	◆	◆	⬠		⬠
---	---	---	---	---	--	---

5)

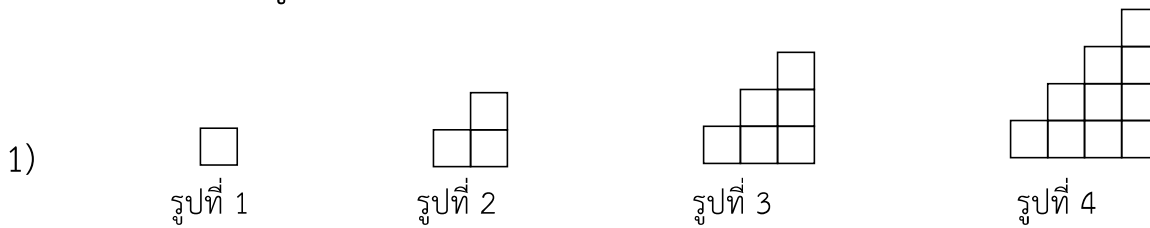
⬠	⬠	⬠	⬠	⬠	⬠	⬠	
---	---	---	---	---	---	---	--

คำชี้แจง พิจารณาแบบรูปที่กำหนด แล้วเขียนรูปต่อไปอีก 1 รูป

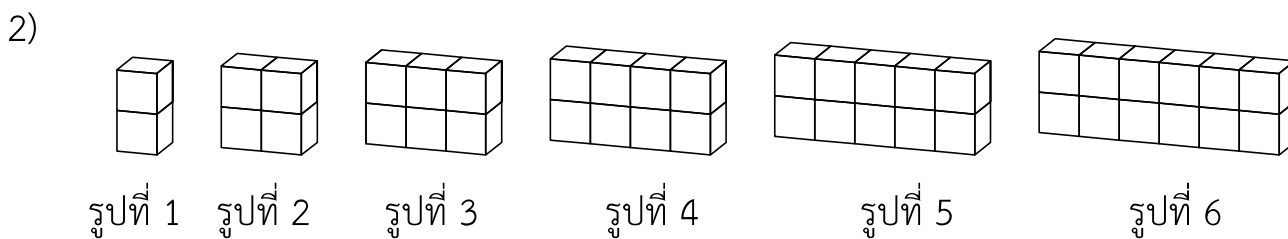
รูปต่อไป



คำชี้แจง จากแบบรูปที่กำหนด เติมจำนวนลงในตาราง



รูปที่	1	2	3	4	5	6	...	10
จำนวนรูปสี่เหลี่ยมจัตุรัสที่มีพื้นที่ 1 ตารางหน่วย								



รูปที่	1	2	3	4	5	6	7	8	9	10
จำนวนลูกบาศก์ทั้งหมด (ลูก)										