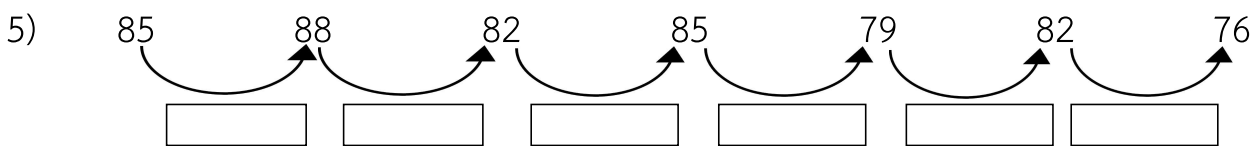
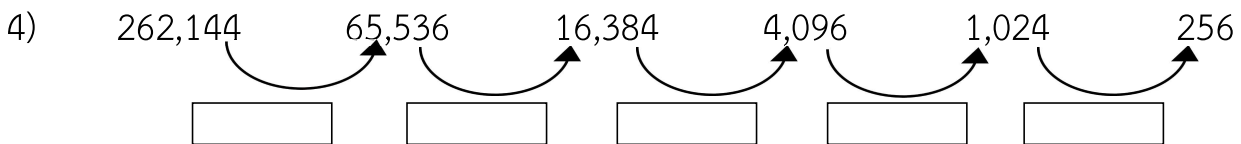
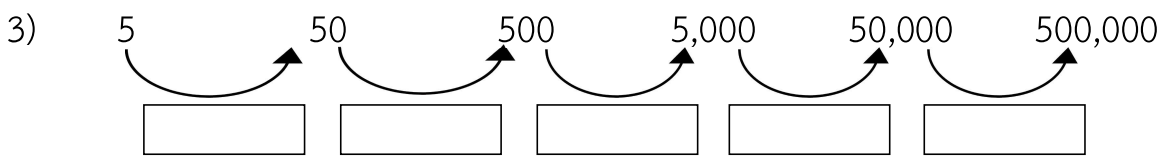
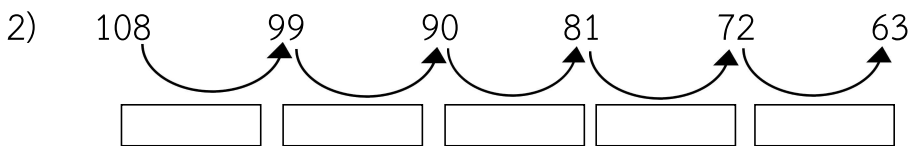
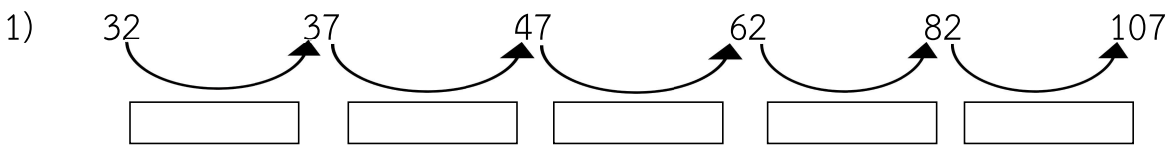




แบบฝึกหัด 5.3

คำชี้แจง พิจารณาแบบรูป แล้วเติมคำตอบ

1. สังเกตจำนวนในแบบรูป แล้วเติมความสัมพันธ์ใน 2. เติมตัวเลขแสดงจำนวนใน ให้ถูกต้อง1) 10 11 14 19 2) 300 310 308 318 3) 545 540 548 543 4) 600 590 592 5765) 18 54 34 226