

## แบบฝึกหัด 5.7

## 1 โยงเส้นจับคู่นาทีกากับเวลา

1)

05 : 10

•

•

21 นาที 5 นาที

2)

10 : 25

•

•

0 นาที 35 นาที

3)

21 : 05

•

•

5 นาที 10 นาที

4)

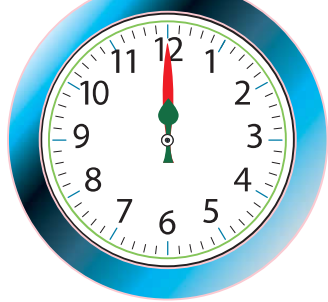


00 : 35

•

•

10 นาที 25 นาที

๒) โยงเส้นจับคู่นาฬิกาที่แสดงเวลาเดียวกัน

1)	01 : 25	•	•	
2)	00 : 00	•	•	
3)	10 : 35	•	•	
4)	16 : 05	•	•	