

ใบงาน ทบทวนเรื่องเวลา

ตอนที่ 1 บอกความสัมพันธ์ของหน่วยเวลา

..... เท่ากับ

..... เท่ากับ

..... เท่ากับ

..... เท่ากับ

..... เท่ากับ

..... เท่ากับ

..... เท่ากับ

ตอนที่ 2 แสดงวิธีคิดและหาคำตอบ

1) อีก 1 ชั่วโมง 18 นาที จะเป็นเวลา 12.05 น. เติมเข็มสั้นและเข็มายาวบนหน้าปัดนาฬิกาแสดงเวลาขณะนี้



แสดงเวลา

2) เรียงลำดับระยะเวลาต่อไปนี้จากน้อยไปมาก

500 วัน 1 ปี 4 เดือน 14 เดือน

วิธีคิด

.....

.....

.....

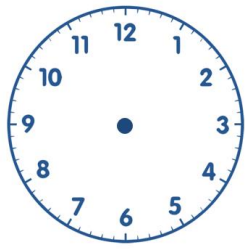
.....

.....

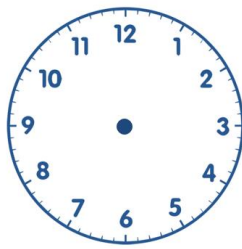
.....

ตอบ

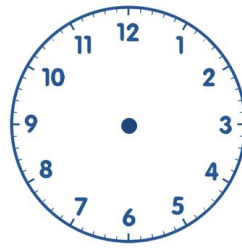
3) เติมเข็มสั้นและเข็มยาวของรูปที่ 1, 2 และ 4 เพื่อให้เวลาบนหน้าปัดนาฬิกาเป็นแบบรูปที่มีความสัมพันธ์แบบเพิ่มขึ้นทีละ 50 นาที โดยรูปที่ 3 แสดงเวลา 10.15 น.



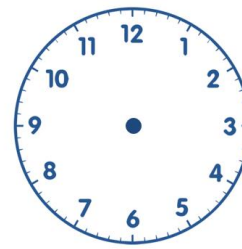
รูปที่ 1



รูปที่ 2



รูปที่ 3



รูปที่ 4

4) ผู้รับเหมาทำสัญญาในการก่อสร้างตึกหลังหนึ่งเป็นเวลา 420 วัน ตั้งแต่วันแรกที่เริ่มก่อสร้างจนถึงวันนี้ คือ วันที่ 27 กันยายน 2565 ใช้เวลาก่อสร้างมาแล้ว 45 วัน วันแรกที่เริ่มก่อสร้าง คือ วันที่ เดือน พ.ศ.ใด และวันสิ้นสุดการก่อสร้างตามสัญญา คือ วันที่ เดือน พ.ศ. ใด (เดือนกุมภาพันธ์ พ.ศ.2566 มี 28 วัน)

วิธีคิด

.....

.....

.....

.....

.....

.....

.....

.....

.....

.....

.....

.....

.....

.....

.....

.....

.....

.....

.....

.....

.....

ตอบ