




แบบฝึกหัด 5.5

1) บอกเวลาเป็นนาฬิกาและนาที (เวลากลางคืน)

1)  • กลางคืน • นาฬิกา นาที

2)  • กลางคืน • นาฬิกา นาที

3)  • กลางคืน • นาฬิกา นาที

4)  • กลางคืน • นาฬิกา นาที

5)



• กลางคืน •

นาฬิกา นาฬิกา

6)



• กลางคืน •

นาฬิกา นาฬิกา

7)



• กลางคืน •

นาฬิกา นาฬิกา

8)



• กลางคืน •

นาฬิกา นาฬิกา

2) บอกเวลาเป็นนาฬิกาและนาทีทั้งเวลากลางวันและเวลากลางคืน

1)



• กลางวัน •

นาฬิกา นาฬิกา

• กลางคืน •

นาฬิกา นาฬิกา

2)



• กลางวัน •

นาฬิกา นาฬิกา

• กลางคืน •

นาฬิกา นาฬิกา

3)



• กลางวัน •

นาฬิกา นาฬิกา

• กลางคืน •

นาฬิกา นาฬิกา

4)



• กลางวัน •

นาฬิกา นาฬิกา

• กลางคืน •

นาฬิกา นาฬิกา