


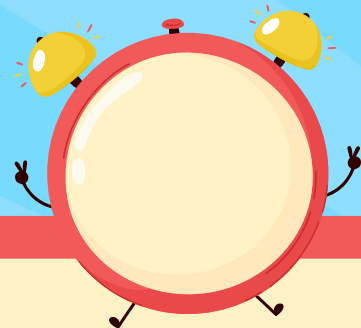
# รายวิชาคณิตศาสตร์

รหัสวิชา ค12101 ชั้นประถมศึกษาปีที่ 2

เรื่อง การบอกเวลาเป็นนาฬิกาและนาที  
(5 นาที) ในเวลากลางวัน

ครูผู้สอน ครูพีระพงษ์ เย็นทรวง





# การบอกเวลาเป็นนาฬิกาและนาที (5 นาที) ในเวลากลางวัน



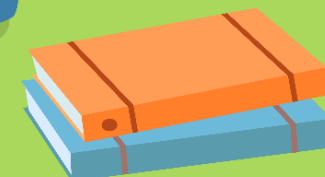
# จุดประสงค์การเรียนรู้

1. บอกเวลาเป็นนาฬิกาและนาที (5 นาที)  
ในเวลากลางวัน
2. สื่อสารและสื่อความหมายทางคณิตศาสตร์




# ทบทวน

การบอกเวลาเป็นนาฬิกาและนาที  
(5 นาที) ในเวลากลางวัน



# การบอกเวลาเป็นนาฬิกาและนาที (5 นาที) ในเวลากลางวัน

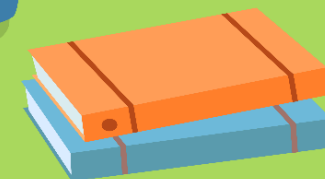



ให้ดูที่เข็มสั้นก่อนเพื่อบอกเวลาเป็นนาฬิกา  
แล้วจึงดูเข็มยาวเพื่อบอกเวลาเป็นนาที

1 ชั่วโมง มี 60 นาที



# ให้นักเรียนหมุ่นขึ้นมาฝึก แสดงเวลาที่กำหนด ในเวลากลางวัน



7 นาฬิกา 15 นาที

14 นาที 45 วินาที




17 นาฬิกา 55 นาที



การบอกเวลาเป็นนาฬิกาและนาที (5 นาที)



ในเวลา**กลางคืน**



ถ้าขณะนี้เป็นเวลากลางวัน  
นาฬิกาจะแสดงเวลาใด




21 นาฬิกา



ถ้าขณะนี้เป็นเวลากลางวัน  
นาฬิกาจะแสดงเวลาใด



21 นาฬิกา 15 นาที




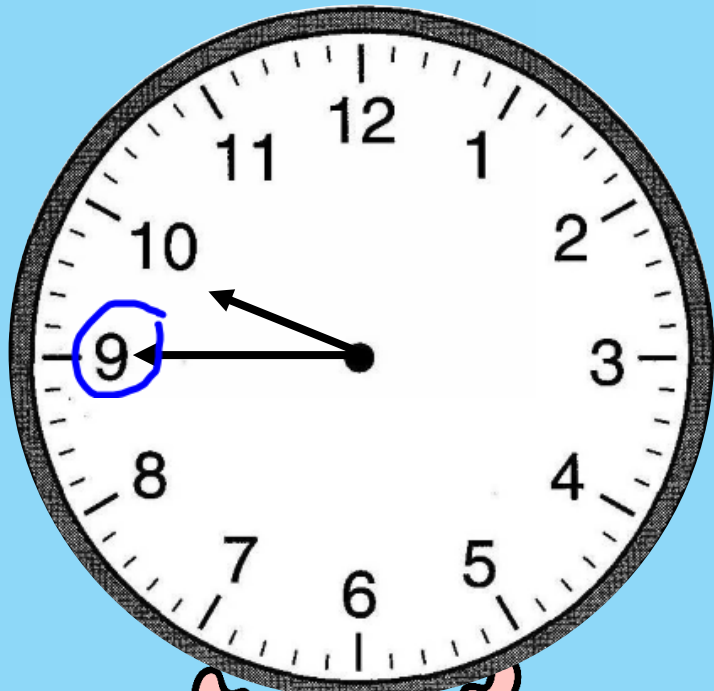
ถ้าขณะนี้เป็นเวลากลางวัน  
นาฬิกาจะแสดงเวลาใด



21 นาฬิกา 30 นาที

21 นาที 45 นาที

~~22 นาที 45 นาที~~



ถ้าขณะนี้เป็นเวลากลางวัน  
นาฬิกาจะแสดงเวลาใด




21 นาที 45 นาที


ให้นักเรียนบอกเวลาเป็นนาฬิกาและนาที

(5 นาที)

ทั้งในเวลากลางวันและในเวลากลางคืน ดังต่อไปนี้








## ในเวลากลางวัน

แสดงเวลา.....**7**.....นาฬิกา.....**35**.....นาที

## ในเวลากลางคืน

แสดงเวลา.....**19**.....นาฬิกา.....**35**.....นาที






## ในเวลากลางวัน

แสดงเวลา.....**15**.....นาฬิกา.....**10**.....นาที

## ในเวลากลางคืน

แสดงเวลา.....**3**.....นาฬิกา.....**10**.....นาที



## ในเวลากลางวัน

แสดงเวลา.....**12**.....นาฬิกา.....**55**.....นาที

## ในเวลากลางคืน

แสดงเวลา.....**0**.....นาฬิกา.....**55**.....นาที



# สรุป

การอ่านเวลาเป็นนาฬิกาและนาฬิกาในเวลากลางคืน  
ให้ดูที่เข็มสั้นก่อนเพื่อบอกเวลาเป็นนาฬิกา  
แล้วจึงดูเข็มยาวเพื่อบอกเวลาเป็นนาฬิกา



# แบบฝึกหัด 5.5

สามารถดาวน์โหลดได้ที่ [www.dltv.ac.th](http://www.dltv.ac.th)





## กิจกรรมของปลายทางในวันนี้



### คำชี้แจงกิจกรรมนักเรียน

1. อ่านคำสั่งของแบบฝึกหัด 5.5
2. ทำแบบฝึกหัด 5.5
3. ตรวจสอบคำตอบ

### คำชี้แจงกิจกรรมครู

1. แจกแบบฝึกหัด 5.5
2. อธิบายคำสั่งของแบบฝึกหัด 5.5
3. ตรวจสอบความเข้าใจของผู้เรียน

# 1. บอกเวลาเป็นนาฬิกาและนาที (เวลากลางคืน)

1)



• กลางคืน •

21 นาฬิกา 15 นาที

2)



• กลางคืน •

นาฬิกา นาที



3)



• กลางคืน •

นาฬิกา นาฬิกา

4)



• กลางคืน •

นาฬิกา นาฬิกา

5)



• กลางคืน •

นาฬิกา นาฬิกา

6)



• กลางคืน •

นาฬิกา นาฬิกา



7)



• กลางคืน •

นาฬิกา นาฬิกา

8)



• กลางคืน •

นาฬิกา นาฬิกา

## 2. บอกเวลาเป็นนาฬิกาและนาที ทั้งเวลากลางวันและเวลากลางคืน

1)



• กลางวัน •

8 นาฬิกา 25 นาที

• กลางคืน •

20 นาฬิกา 25 นาที

2)



• กลางวัน •

นาฬิกา นาที

• กลางคืน •

นาฬิกา นาที

3)



• กลางวัน •

นาฬิกา นาฬิกา

• กลางคืน •

นาฬิกา นาฬิกา

4)



• กลางวัน •

นาฬิกา นาฬิกา

• กลางคืน •

นาฬิกา นาฬิกา



## บทเรียนครั้งต่อไป

เรื่อง การแสดงเวลาบนหน้าปัดนาฬิกา  
ในเวลากลางวัน กลางคืน (1)

สิ่งที่ต้องเตรียม

แบบฝึกหัด 5.6

สามารถดาวน์โหลดได้ที่ [www.dltv.ac.th](http://www.dltv.ac.th)

