

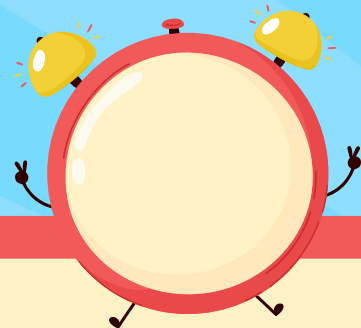
รายวิชาคณิตศาสตร์

รหัสวิชา ค12101 ชั้นประถมศึกษาปีที่ 2

เรื่อง การบอกเวลาเป็นนาฬิกาและนาที
(5 นาที) ในเวลากลางวัน

ครูผู้สอน ครูพีระพงษ์ เย็นทรวง





การบอกเวลาเป็นนาฬิกาและนาที (5 นาที)
ในเวลากลางวัน



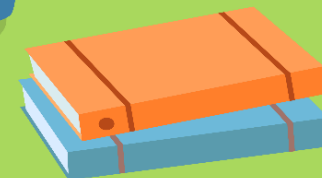
จุดประสงค์การเรียนรู้

1. บอกเวลาเป็นนาฬิกาและนาที (5 นาที)
ในเวลากลางวัน
2. สื่อสารและสื่อความหมายทางคณิตศาสตร์



ทบทวน

การบอกเวลาเป็นนาฬิกา
ในเวลากลางวันและกลางคืน



การบอกเวลาถูกแบ่งเป็น 2 ช่วง



กลางวัน

ในเวลากลางวันเริ่มตั้งแต่

6 นาฬิกา

ถึง

ก่อน 18 นาฬิกา



กลางคืน




ในเวลากลางคืนเริ่มตั้งแต่

18 นาฬิกา

ถึง


ก่อน 6 นาฬิกา



ในเวลากลางวันแสดงเวลา**13**..... นาฬิกา

ในเวลากลางคืนแสดงเวลา**1**..... นาฬิกา






ในเวลากลางวันแสดงเวลา**6**..... นาฬิกา

ในเวลากลางคืนแสดงเวลา**18**..... นาฬิกา





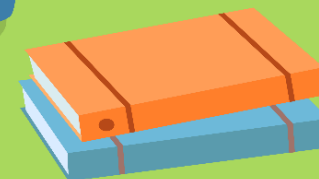

ในเวลากลางวันแสดงเวลา**8**.... นาฬิกา

ในเวลากลางคืนแสดงเวลา**20**.... นาฬิกา



สำรวจ

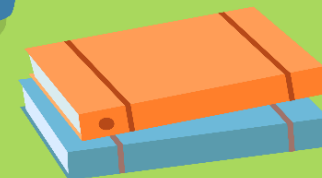
รายละเอียดบนหน้าปกนาฬิกา



การบอกเวลา

เป็นนาฬิกาและนาฬิกา

(ช่วง 5 นาที)






ให้นักเรียนบอกเวลาเป็นนาฬิกาและนาที
(ช่วง 5 นาที)

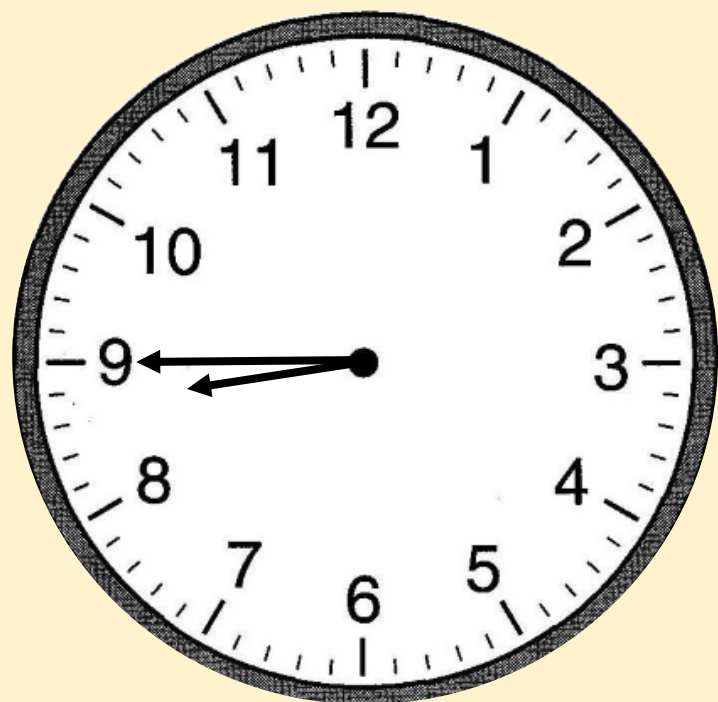
แสดงเวลากลางวัน






แสดงเวลา.....**10**.....นาฬิกา.....**30**.....นาที






แสดงเวลา.....**8**.....นาฬิกา.....**45**.....นาที





แสดงเวลา.....**14**.....นาฬิกา.....**5**.....นาที





แสดงเวลา.....**8**.....นาฬิกา.....**55**.....นาที



สรุป





สรุป

- เราบอกเวลาเป็นนาฬิกาและนาที
 - เมื่อเข็มยาวเดิน 1 ช่องใหญ่จะเป็นเวลา 5 นาที
- และเมื่อเข็มยาวเดินได้ 12 ช่องใหญ่ เป็นเวลา 60 นาที
นั่นคือ 1 ชั่วโมง มี 60 นาที





สรุป

- การอ่านเวลาเป็นนาฬิกาและนาฬิกาในเวลากลางวัน
ให้ดูที่เข็มสั้นก่อนเพื่อบอกเวลาเป็นนาฬิกา
แล้วจึงดูเข็มนยาวเพื่อบอกเวลาเป็นนาที



แบบฝึกหัด 5.4

สามารถดาวน์โหลดได้ที่ www.dltv.ac.th





กิจกรรมของปลายทางในวันนี้



คำชี้แจงกิจกรรมนักเรียน

1. อ่านคำสั่งของแบบฝึกหัด 5.4
2. ทำแบบฝึกหัด 5.4
3. ตรวจสอบคำตอบ

คำชี้แจงกิจกรรมครู

1. แจกแบบฝึกหัด 5.4
2. อธิบายคำสั่งของแบบฝึกหัด 5.4
3. ตรวจสอบความเข้าใจของผู้เรียน

1 บอกเวลาเป็นนาฬิกาและนาที (กลางวัน)

ตัวอย่าง



.....นาฬิกา.....**12**.....**10**.....นาที

1)



.....นาฬิกา.....นาที

2)



.....นาฬิกา.....นาที

3)



.....นาฬิกา.....นาฬิกา

4)



.....นาฬิกา.....นาฬิกา

5)



.....นาฬิกา

6)



.....นาฬิกา.....นาทึ

7)



.....นาฬิกา.....นาทึ

8)



.....นาฬิกา.....นาทึ

2

บอกเวลาเป็นนาฬิกาและนาที (กลางวัน)



กลางวัน

.....
นาฬิกา นาที
.....



กลางวัน

.....
นาฬิกา นาที
.....



กลางวัน

.....
นาฬิกา นาที
.....



กลางวัน

.....
นาฬิกา นาที
.....



บทเรียนครั้งต่อไป

เรื่อง การบอกเวลาเป็นนาฬิกาและนาที (5 นาที)
ในเวลากลางวัน

สิ่งที่ต้องเตรียม

แบบฝึกหัด 5.5

สามารถดาวน์โหลดได้ที่ www.dltv.ac.th

