





6. การอภิปรายจากสถานการณ์

<p>1. ณ พิพิธภัณฑ์ แห่งหนึ่ง</p> 	<p>2.</p> 
<p>3.</p> 	<p>4.</p> 

ซากดึกดำบรรพ์ในสถานการณ์ คือ.....

.....

เกิดจาก.....

.....

.....

ซากดึกดำบรรพ์รอยตีนไดโนเสาร์เกิด ก่อน หลัง ซากดึกดำบรรพ์โครงร่างไดโนเสาร์

เนื่องจาก.....

.....

.....

คำถามหลังจากทำกิจกรรม

1. แบบจำลองที่สร้างขึ้นสามารถอธิบายการเกิดซากดึกดำบรรพ์ที่เกิดจากโครงร่างของสิ่งมีชีวิต

ในอดีตในหินตะกอนได้สมบูรณ์ ครบถ้วน แล้วหรือไม่ อย่างไร

.....

.....

.....

.....

2. ซากสิ่งมีชีวิตจะกลายเป็นซากดึกดำบรรพ์ทุกครั้งหรือไม่ เพราะเหตุใด

.....

.....

.....

.....

3. การเกิดซากดึกดำบรรพ์และการเกิดหินตะกอน มีความสัมพันธ์กันอย่างไร

.....

.....

.....

.....

4. เราสามารถใช้แบบจำลองที่สร้างขึ้นอธิบายการเกิดซากดึกดำบรรพ์ที่เกิดจากร่องรอยของ
สิ่งมีชีวิตในอดีตได้หรือไม่ อย่างไร

.....

.....

.....

.....

5. ซากดึกดำบรรพ์ที่เป็นรูปพิมพ์และรอยพิมพ์ของสิ่งมีชีวิตมีลักษณะและการเกิดแตกต่างกัน
อย่างไร

.....

.....

.....

.....

6. จากกิจกรรมนี้ สรุปได้ว่าอย่างไร

.....

.....

.....

.....

.....

.....

.....

.....