






















ใบกิจกรรม 6.4

1 เขียนคำตอบในช่องว่าง

- คนที่เกิดวันคู่ คน
- คนที่เกิดวันคี่ คน

2 สร้างแผนภูมิรูปภาพจากข้อมูลจำนวนนักเรียนที่เกิดวันคู่และเกิดวันคี่ โดยระบายสี  ตามข้อกำหนด

ชื่อแผนภูมิ

คนที่เกิดวันคู่	         
คนที่เกิดวันคี่	         

กำหนดให้  แทนจำนวนนักเรียน คน