


ใบกิจกรรม 6.1

พิจารณาแผนภูมิรูปภาพ แล้วตอบคำถามต่อไปนี้

1 ข้อมูลการละเล่นพื้นบ้านของไทยที่นักเรียนชั้น ป. 3 รู้จัก ดังนี้

จำนวนนักเรียนชั้น ป.3 ที่รู้จักการละเล่นพื้นบ้านของไทย



กำหนดให้ ● แทนจำนวนนักเรียน 4 คน

1) แผนภูมิรูปภาพแสดงข้อมูลของอะไร

.....

2) นักเรียนชั้น ป.3 รู้จักการละเล่นมอญซ่อนผ้าจำนวนกี่คน

.....

3) การละเล่นพื้นบ้านใดที่นักเรียนชั้น ป.3 รู้จักมากที่สุด และมีจำนวนกี่คน

.....

4) การละเล่นพื้นบ้านใดที่นักเรียนชั้น ป.3 รู้จักจำนวนเท่ากันและจำนวนกี่คน

.....

5) ให้นักเรียนตั้งคำถามจากแผนภูมิรูปภาพพร้อมทั้งหาคำตอบ จำนวน 1 ข้อ






.....


.....



.....

- 2 ข้อมูลจำนวนประชากรที่ออกกำลังกายในสวนสาธารณะแห่งหนึ่งตั้งแต่วันจันทร์ถึงวันศุกร์

จำนวนประชากรที่ออกกำลังกายในสวนสาธารณะแห่งหนึ่งตั้งแต่วันจันทร์ถึงวันศุกร์

				
วันจันทร์	วันอังคาร	วันพุธ	วันพฤหัสบดี	วันศุกร์

กำหนดให้  แทนจำนวนประชากร 50 คน

-  แทนจำนวนประชากรกี่คน
.....
.....
-  แทนจำนวนประชากรกี่คน
.....
.....
- วันอังคารมีจำนวนประชากรที่ออกกำลังกายในสวนสาธารณะกี่คน
.....
.....
- วันศุกร์มีจำนวนประชากรที่ออกกำลังกายในสวนสาธารณะมากกว่าหรือน้อยกว่าวันพฤหัสบดีจำนวนกี่คน
.....
.....
.....
- ให้นักเรียนตั้งคำถามเกี่ยวกับแผนภูมิรูปภาพพร้อมทั้งหาคำตอบ จำนวน 1 ข้อ
.....
.....
.....