

แบบฝึกหัด 4.8

1) เติมคำตอบ

1) 43 53 63 73 83 93

ชุดของจำนวนเป็นแบบรูปที่ ทีละ

จำนวนถัดไป คือ

2) 225 220 215 210 205

ชุดของจำนวนเป็นแบบรูปที่ ทีละ

จำนวนถัดไป คือ

3) 625 552 452 352 252

ชุดของจำนวนเป็นแบบรูปที่ ทีละ

จำนวนถัดไป คือ

4) 667 669 671 673 675

ชุดของจำนวนเป็นแบบรูปที่ ทีละ

จำนวนถัดไป คือ

5) 369 374 379 384 389

ชุดของจำนวนเป็นแบบรูปที่ ทีละ

จำนวนถัดไป คือ

6) 179 177 175 173 171


ชุดของจำนวนเป็นแบบรูปที่ ทีละ

จำนวนถัดไป คือ




2) เติมคำตอบ

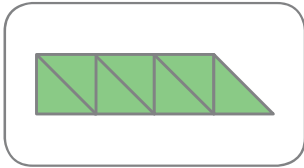
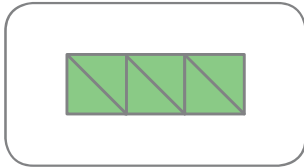
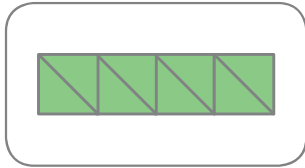
1) 72 70 66 64 62 602) 40 45 50 55 60 653) 804 704 604 504 3044) 695 715 725 735 7455) 310 305 300 2856) 721 723 725 727 7297) 444 544 644 744 844 8) 916 896 876 866


ท้าทาย.....ชวนคิด


 194 214 234 244 254

3 เขียน  ทับรูปถัดไปในแบบรูป

1)   

2)     

3) 