


ใบกิจกรรม 5.7

เขียนวงล้อมรอบส่วนที่โจทย์ถาม ชีดเส้นใต้ส่วนที่โจทย์บอก และเขียนคำตอบในช่องว่าง

1) ขวัญใจดื่มนมไป $\frac{5}{8}$ ของขวด โจทย์มีนม $\frac{3}{8}$ ของขวด
 ขวัญใจดื่มนมมากกว่าโจทเท่าไร



วาดภาพแสดงแนวคิด

.....

--	--	--	--	--	--	--	--

--	--	--	--	--	--	--	--


ประโยคสัญลักษณ์

วิธีทำ

ดังนั้น

ตอบ

2) แม่ทำขนมใช้แป้ง $\frac{7}{10}$ ส่วน ใช้น้ำตาลน้อยกว่าแป้ง $\frac{5}{10}$ ส่วน
แม่ใช้น้ำตาลทำขนมกี่ส่วน



วาดภาพแสดงแนวคิด

.....
.....
.....

--	--	--	--	--	--	--	--	--	--

.....
.....
.....

--	--	--	--	--	--	--	--	--	--

ประโยคสัญลักษณ์

วิธีทำ

.....

.....

.....


ดังนั้น

ตอบ



3) พ่อผสมสีทาห้องโดยใช้สีขาว $\frac{4}{5}$ ของกระป๋อง ถ้าใช้สีขาวมากกว่าสีฟ้า

$\frac{3}{5}$ ของกระป๋อง พ่อจะต้องใช้สีฟ้าเท่าไร



วาดภาพแสดงแนวคิด

.....
.....

.....
.....

--	--	--	--	--

.....
.....

--	--	--	--	--

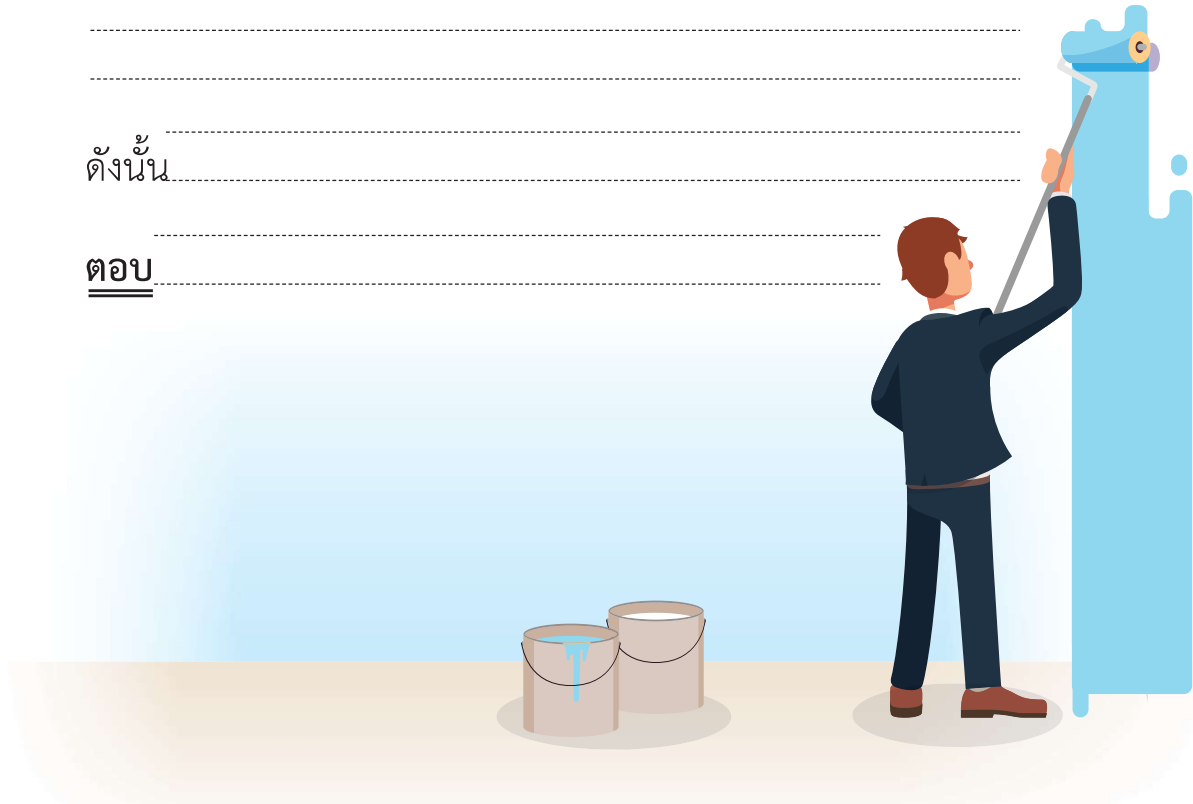
ประโยคสัญลักษณ์

วิธีทำ

.....
.....
.....
.....

ดังนั้น

ตอบ



4) แม่ค้าขายน้ำลำไยได้ $\frac{4}{7}$ ของโหลแก้ว ขายน้ำลำไยได้น้อยกว่าน้ำส้ม $\frac{3}{7}$ ของโหลแก้ว แม่ค้าขายน้ำส้มได้เท่าไร



วาดภาพแสดงแนวคิด

.....

--	--	--	--	--	--	--	--

.....

--	--	--	--	--	--	--	--

.....

ประโยคสัญลักษณ์

วิธีทำ

ดังนั้น

หรือ

ตอบ

