

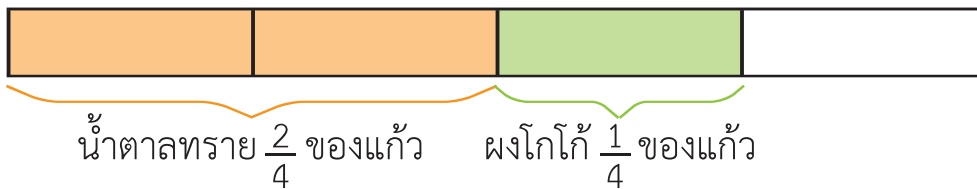
## แบบฝึกหัด 5.15

เขียนวงล้อมรอบสิ่งทีโจทย์ถาม ชีตเส้นใต้ส่วนที่โจทย์บอก ระบายสีแสดงแนวคิด และเขียนคำตอบในช่องว่าง

- 1) พ่อชงโกโก้โดยใส่น้ำตาลทราย  $\frac{2}{4}$  ของแก้ว ใส่ผงโกโก้  $\frac{1}{4}$  ของแก้ว  
พ่อใส่ส่วนผสมไปเท่าไร



วาดภาพแสดงแนวคิด



ประโยคสัญลักษณ์  $\frac{2}{4} + \frac{1}{4} = \square$

วิธีทำ

$$\frac{2}{4} + \frac{1}{4} = \frac{\quad}{4}$$

=

ดังนั้น  $\frac{2}{4} + \frac{1}{4} =$

ตอบ พ่อใส่ส่วนผสมไป \_\_\_\_\_ ของแก้ว



2) ในถังมีน้ำ  $\frac{8}{10}$  ของถัง ตักน้ำไปใช้  $\frac{3}{10}$  ของถัง ในถังเหลือน้ำเท่าไร



วาดภาพแสดงแนวคิด

.....  
 .....

--	--	--	--	--	--	--	--	--	--	--

.....  
 .....

ประโยคสัญลักษณ์

.....  
 .....

วิธีทำ

.....  
 .....

.....  
 .....

.....  
 .....

.....  
 .....

.....  
 .....

ตอบ


.....  
 .....



3) สายลมมีช็อกโกแลตหนึ่งแท่งตัดแบ่งเป็น 12 ส่วน เท่า ๆ กัน  
 กินไป  $\frac{4}{12}$  ของแท่ง สายลมเหลือช็อกโกแลตเท่าไร



วาดภาพแสดงแนวคิด



.....  
 .....

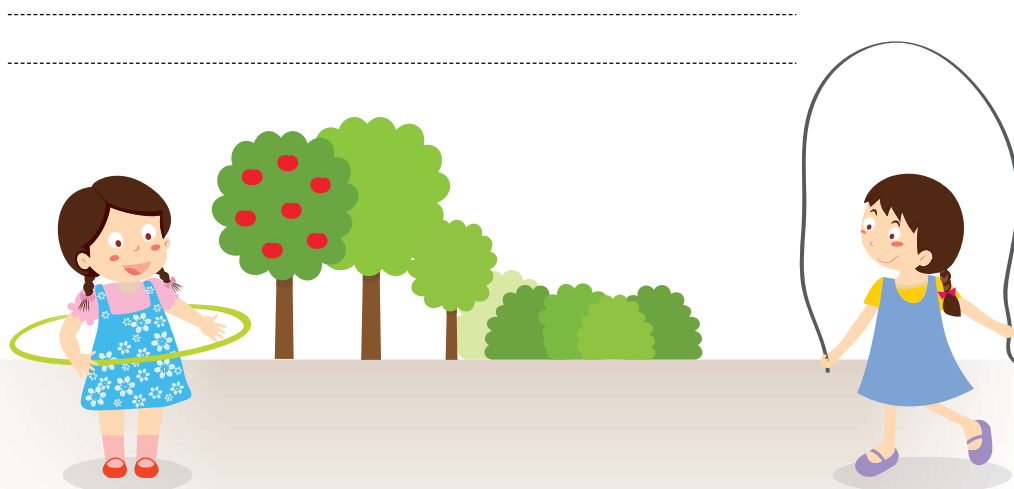
ประโยคสัญลักษณ์

.....  
 .....


วิธีทำ

.....  
 .....

ตอบ



- 4) เมื่อวานนี้ก้อนตมนม  $\frac{9}{20}$  ของลิตร วันนี้ก้อนตมนมได้เท่ากับเมื่อวาน  
สองวันก้อนตมนมไปเท่าไร



วาดภาพแสดงแนวคิด

--	--	--	--	--	--	--	--	--	--	--	--	--	--	--	--	--	--	--	--

.....

.....

ประโยคสัญลักษณ์

.....

.....

วิธีทำ

.....

.....

.....

.....

.....

.....

.....

ตอบ

.....

