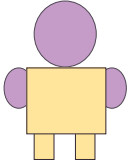


ชื่อ-สกุล ..... ชั้น ..... เลขที่ .....

วันที่ ..... เดือน ..... พ.ศ. ....

## ใบงาน ๐๑ : หุ่นยนต์ทำตามคำสั่ง


๑. ใช้ดินสอลากเส้นทางลงในรูปที่ ๑ ที่จะให้หุ่นยนต์เดินไป ระบายสีในช่องที่ ๑-๔ ตามลำดับ โดยหุ่นยนต์จะยืนอยู่ในตำแหน่งเริ่มต้นดังรูปที่ ๑ และได้ผลลัพธ์ดังรูปที่ ๒

๑			
		๓	
	๒		
			๔

รูปที่ ๑ ตำแหน่งเริ่มต้นของหุ่นยนต์

ชื่อ-สกุล ..... ชั้น ..... เลขที่ .....

วันที่ ..... เดือน ..... พ.ศ. ....

๑			
		๓	
	๒		
			๔ 

รูปที่ ๒ ผลลัพธ์ที่ต้องการ

ชื่อ-สกุล ..... ชั้น ..... เลขที่ .....

วันที่ ..... เดือน ..... พ.ศ. ....

๒. ใช้บัตรคำสั่ง A-E เพื่อสั่งให้หุ่นยนต์เดินไประบายสีในช่อง ๑-๔ ตามเส้นทางที่เขียนไว้ในรูปที่ ๑ เพื่อให้ได้ผลลัพธ์ ดังรูปที่ ๒ จากนั้นนำบัตรคำสั่ง A-E มาใส่ในตารางคำตอบ

บัตรคำสั่ง

A




เดินขึ้นบน ๑ ช่อง

B




เดินลงล่าง ๑ ช่อง

C



เดินไปด้านซ้าย ๑ ช่อง

D



เดินไปด้านขวา ๑ ช่อง

E



ระบายสีลงในช่องที่หุ่นยนต์ยืนอยู่

ตารางคำตอบ

๑) E	๒)	๓)	๔)
๕)	๖)	๗)	๘)
๙)	๑๐)	๑๑)	๑๒)
๑๓)	๑๔)	๑๕)	๑๖)
๑๗)	๑๘)	๑๙)	๒๐)