



แบบฝึกหัด 5.7



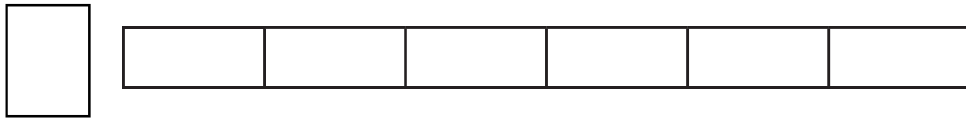
1) ระบายสีแสดงเศษส่วนที่กำหนด เขียนคำตอบในช่องว่าง

1) $\frac{2}{3}$ $\frac{3}{3}$ $\frac{1}{3}$



เรียงลำดับเศษส่วนจากมากไปน้อยได้

2) $\frac{6}{6}$ $\frac{2}{6}$ $\frac{4}{6}$



เรียงลำดับเศษส่วนจากน้อยไปมากได้



3) $\frac{5}{9}$ $\frac{7}{9}$ $\frac{2}{9}$

--	--	--	--	--	--	--	--	--	--

--	--	--	--	--	--	--	--	--	--

--	--	--	--	--	--	--	--	--	--

เรียงลำดับเศษส่วนจากมากไปน้อยได้

เรียงลำดับเศษส่วนจากน้อยไปมากได้

2) เรียงลำดับเศษส่วนจากน้อยไปมาก

1) $\frac{3}{7}$ $\frac{7}{7}$ $\frac{5}{7}$


.....

.....

2) $\frac{9}{12}$ $\frac{1}{12}$ $\frac{11}{12}$

.....

.....



3 เรียงลำดับเศษส่วนจากมากไปน้อย

1) $\frac{8}{9}$ $\frac{4}{9}$ $\frac{7}{9}$

.....
.....

2) $\frac{10}{15}$ $\frac{12}{15}$ $\frac{15}{15}$

.....
.....4 เศษส่วนที่กำหนดให้เรียงลำดับจากมากไปน้อย ให้เขียนเศษส่วนที่หายไป
ในช่องว่าง

1) $\frac{4}{5}$ $\frac{1}{5}$

2) $\frac{7}{8}$

5 เศษส่วนที่กำหนดให้เรียงลำดับจากน้อยไปมาก ให้เขียนเศษส่วนที่หายไป
ในช่องว่าง

1) $\frac{2}{6}$ $\frac{6}{6}$

2) $\frac{2}{11}$

