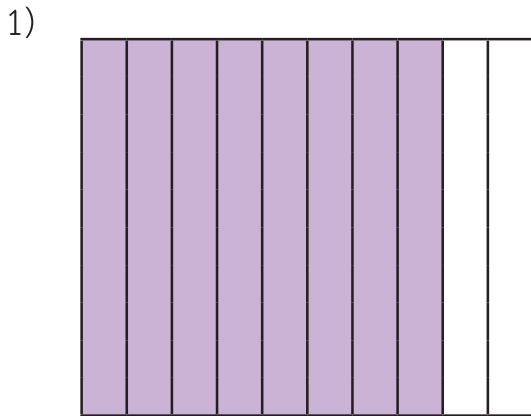
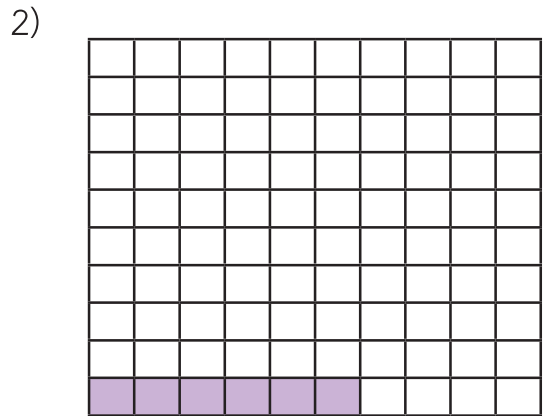


แบบฝึกหัด 2.16

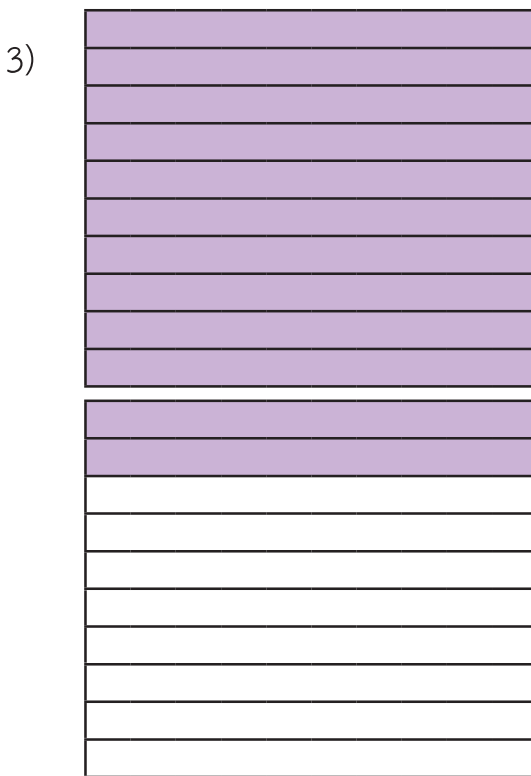
1 หาผลหาร



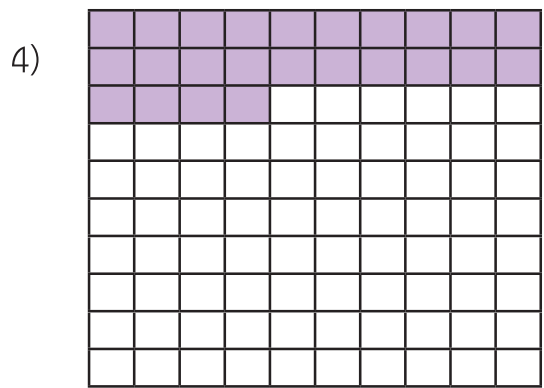
$$0.8 \div 4 = \boxed{\text{-----}}$$



$$0.06 \div 3 = \boxed{\text{-----}}$$



$$1.2 \div 2 = \boxed{\text{-----}}$$




$$0.24 \div 6 = \boxed{\text{-----}}$$

2 ทหาผลหาร

ตัวอย่าง $0.28 \div 14$

$$\begin{aligned} \text{วิธีทำ } 0.28 \div 14 &= \frac{28}{100} \div 14 \\ &= \frac{28}{100} \times \frac{1}{14} \\ &= \frac{\overset{2}{\cancel{28}} \times 1}{100 \times \underset{1}{\cancel{14}}} \\ &= \frac{2}{100} \\ &= 0.02 \end{aligned}$$



$\frac{1}{14}$ เป็นส่วนกลับของ 14

$$\text{ตรวจสอบ } 14 \times 0.02 = 0.28$$

$$\text{ดังนั้น } 0.28 \div 14 = 0.02$$

ตอบ ๐.๐๒

1) $1.15 \div 5$

วิธีทำ

2) $9.6 \div 6$

วิธีทำ





3) $6.27 \div 3$

วิธีทำ

4) $0.427 \div 7$

วิธีทำ

5) $1.089 \div 9$

วิธีทำ

6) $2.124 \div 4$

วิธีทำ



7) $14.4 \div 12$

วิธีทำ

.....

.....

.....

.....

.....

.....

.....

.....

8) $8.32 \div 8$

วิธีทำ

.....

.....

.....

.....

.....

.....

.....

.....