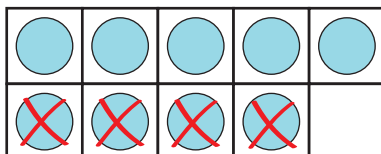




แบบฝึกหัด 2.18

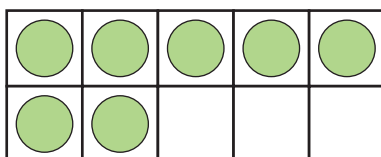
1 หาผลลบโดยใช้กรอบสิบ และเติมคำตอบ

1) $9 - 4 = \square$



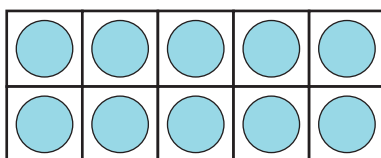
ตอบ

2) $7 - 5 = \square$



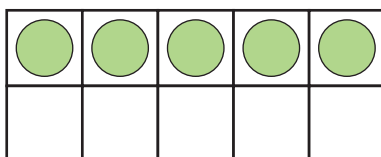
ตอบ

3) $10 - 6 = \square$



ตอบ

4) $5 - 5 = \square$

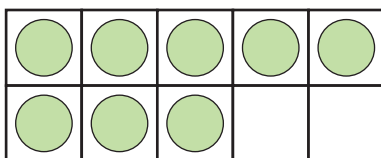


ตอบ



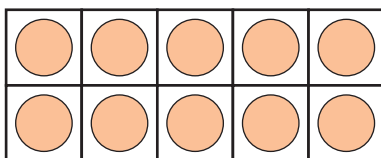
๒ หาผลลบโดยใช้กรอบสิบ และเติมคำตอบ

1) $8 - 4 = \square$



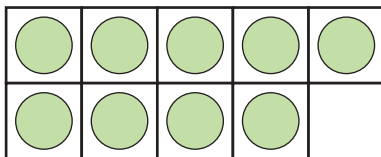
ตอบ

2) $10 - 5 = \square$



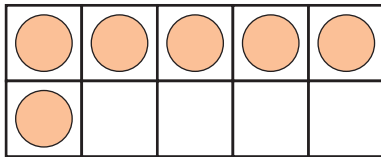
ตอบ

3) $9 - 3 = \square$



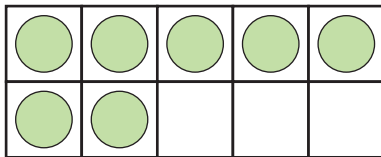
ตอบ

4) $6 - 6 = \square$



ตอบ

5) $7 - 2 = \square$



ตอบ



๓ แสดงการหาผลลบโดยใช้กรอบสิบ และหาคำตอบ

1) $8 - 2 =$

ตอบ

2) $9 - 4 =$

ตอบ

3) $10 - 3 =$

ตอบ

4) $10 - 2 =$

ตอบ

5) $7 - 7 =$

ตอบ