

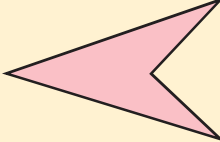


# แบบฝึกหัด 3.1

1 เขียน  หน้าข้อความที่สัมพันธ์กับภาพ

<b>ตัวอย่าง</b>			
			
<input checked="" type="checkbox"/> รูปเรขาคณิตสามมิติ	<input type="checkbox"/> รูปเรขาคณิตสองมิติ		
<input type="checkbox"/> ทรงสี่เหลี่ยมมุมฉาก	<input checked="" type="checkbox"/> ทรงกระบอก	<input type="checkbox"/> รูปสามเหลี่ยม	<input type="checkbox"/> รูปสี่เหลี่ยม
<input type="checkbox"/> ทรงกลม	<input type="checkbox"/> กรวย	<input type="checkbox"/> วงกลม	<input type="checkbox"/> วงรี
<b>1)</b>			
			
<input type="checkbox"/> รูปเรขาคณิตสามมิติ	<input type="checkbox"/> รูปเรขาคณิตสองมิติ		
<input type="checkbox"/> ทรงสี่เหลี่ยมมุมฉาก	<input type="checkbox"/> ทรงกระบอก	<input type="checkbox"/> รูปสามเหลี่ยม	<input type="checkbox"/> รูปสี่เหลี่ยม
<input type="checkbox"/> ทรงกลม	<input type="checkbox"/> กรวย	<input type="checkbox"/> วงกลม	<input type="checkbox"/> วงรี
<b>2)</b>			
			
<input type="checkbox"/> รูปเรขาคณิตสามมิติ	<input type="checkbox"/> รูปเรขาคณิตสองมิติ		
<input type="checkbox"/> ทรงสี่เหลี่ยมมุมฉาก	<input type="checkbox"/> ทรงกระบอก	<input type="checkbox"/> รูปสามเหลี่ยม	<input type="checkbox"/> รูปสี่เหลี่ยม
<input type="checkbox"/> ทรงกลม	<input type="checkbox"/> กรวย	<input type="checkbox"/> วงกลม	<input type="checkbox"/> วงรี

3)



รูปเรขาคณิตสามมิติ

รูปเรขาคณิตสองมิติ

ทรงสี่เหลี่ยมมุมฉาก

ทรงกระบอก

รูปสามเหลี่ยม

รูปสี่เหลี่ยม


ทรงกลม

กรวย

วงกลม

วงรี

4)



รูปเรขาคณิตสามมิติ

รูปเรขาคณิตสองมิติ

ทรงสี่เหลี่ยมมุมฉาก

ทรงกระบอก

รูปสามเหลี่ยม

รูปสี่เหลี่ยม

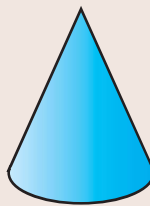
ทรงกลม

กรวย

วงกลม

วงรี

5)



รูปเรขาคณิตสามมิติ

รูปเรขาคณิตสองมิติ

ทรงสี่เหลี่ยมมุมฉาก

ทรงกระบอก

รูปสามเหลี่ยม

รูปสี่เหลี่ยม


ทรงกลม

กรวย

วงกลม

วงรี

6)



รูปเรขาคณิตสามมิติ

รูปเรขาคณิตสองมิติ

ทรงสี่เหลี่ยมมุมฉาก

ทรงกระบอก

รูปสามเหลี่ยม

รูปสี่เหลี่ยม

ทรงกลม

กรวย

วงกลม

วงรี

7)



รูปเรขาคณิตสามมิติ

รูปเรขาคณิตสองมิติ

ทรงสี่เหลี่ยมมุมฉาก

ทรงกระบอก

รูปสามเหลี่ยม

รูปสี่เหลี่ยม

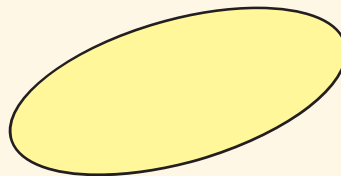
ทรงกลม

กรวย

วงกลม

วงรี

8)



รูปเรขาคณิตสามมิติ

รูปเรขาคณิตสองมิติ

ทรงสี่เหลี่ยมมุมฉาก

ทรงกระบอก

รูปสามเหลี่ยม

รูปสี่เหลี่ยม

ทรงกลม

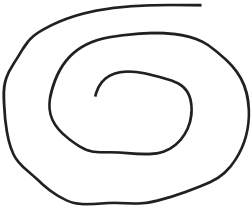
กรวย

วงกลม

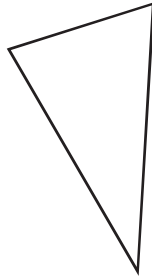
วงรี

2 เขียน ✓ ในภาพที่เป็นรูปปิด และเขียน ✗ ในภาพที่เป็นรูปเปิด

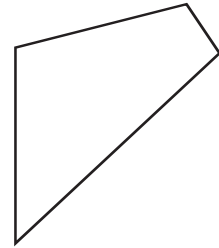
1)



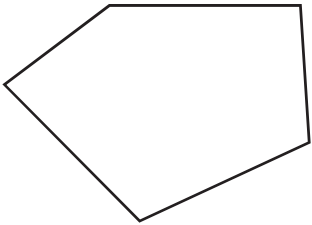
2)



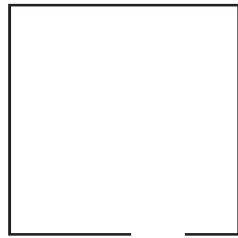
3)




4)




5)



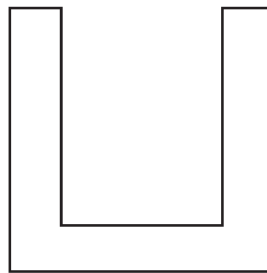
6)



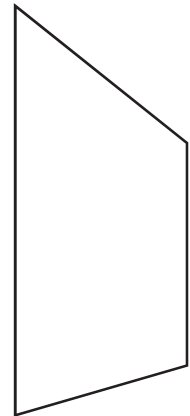
7)




8)




9)



10)



11)



12)

