

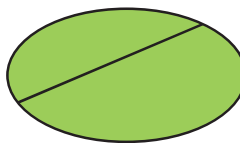
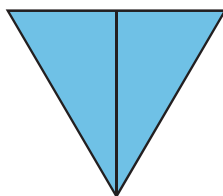
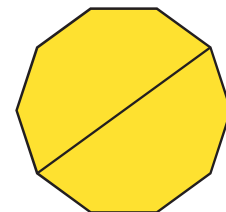
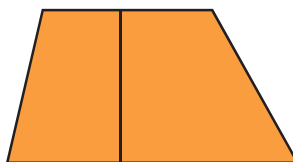
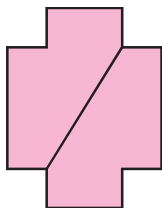
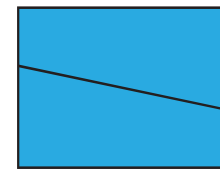
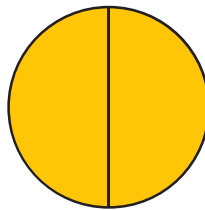
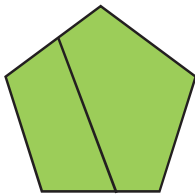
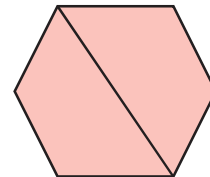
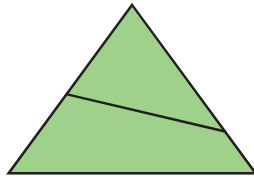
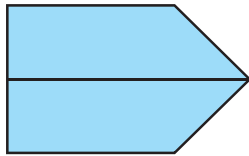


แบบฝึกหัด 5.1

- 1 เขียนวงล้อมรอบภาพที่แสดงปริมาณเต็มหน่วย และเขียน \times ทับภาพแสดงปริมาณครึ่งหน่วย

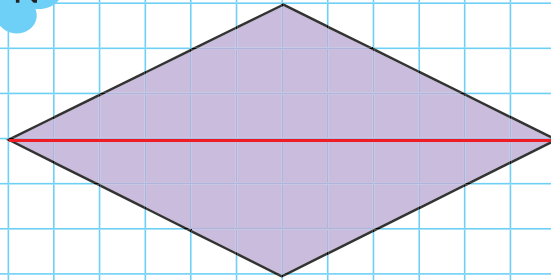


๒ เขียนวงล้อมรอบภาพที่แสดง การแบ่ง 1 หน่วย เป็น 2 ส่วน เท่า ๆ กัน

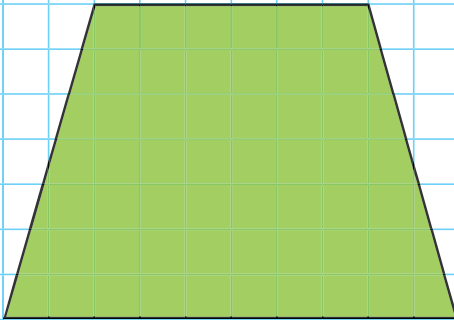


3 ชีตเส้นแสดง ครึ่งหน่วย เมื่อกำหนดรูป 1 หน่วย

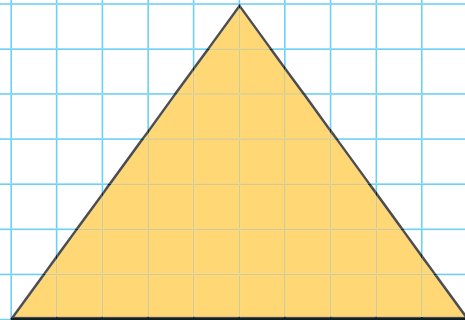
ตัวอย่าง




1)



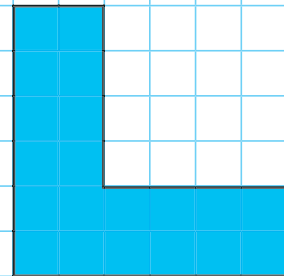
2)



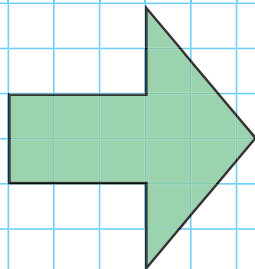
3)



4)



5)



6)

