

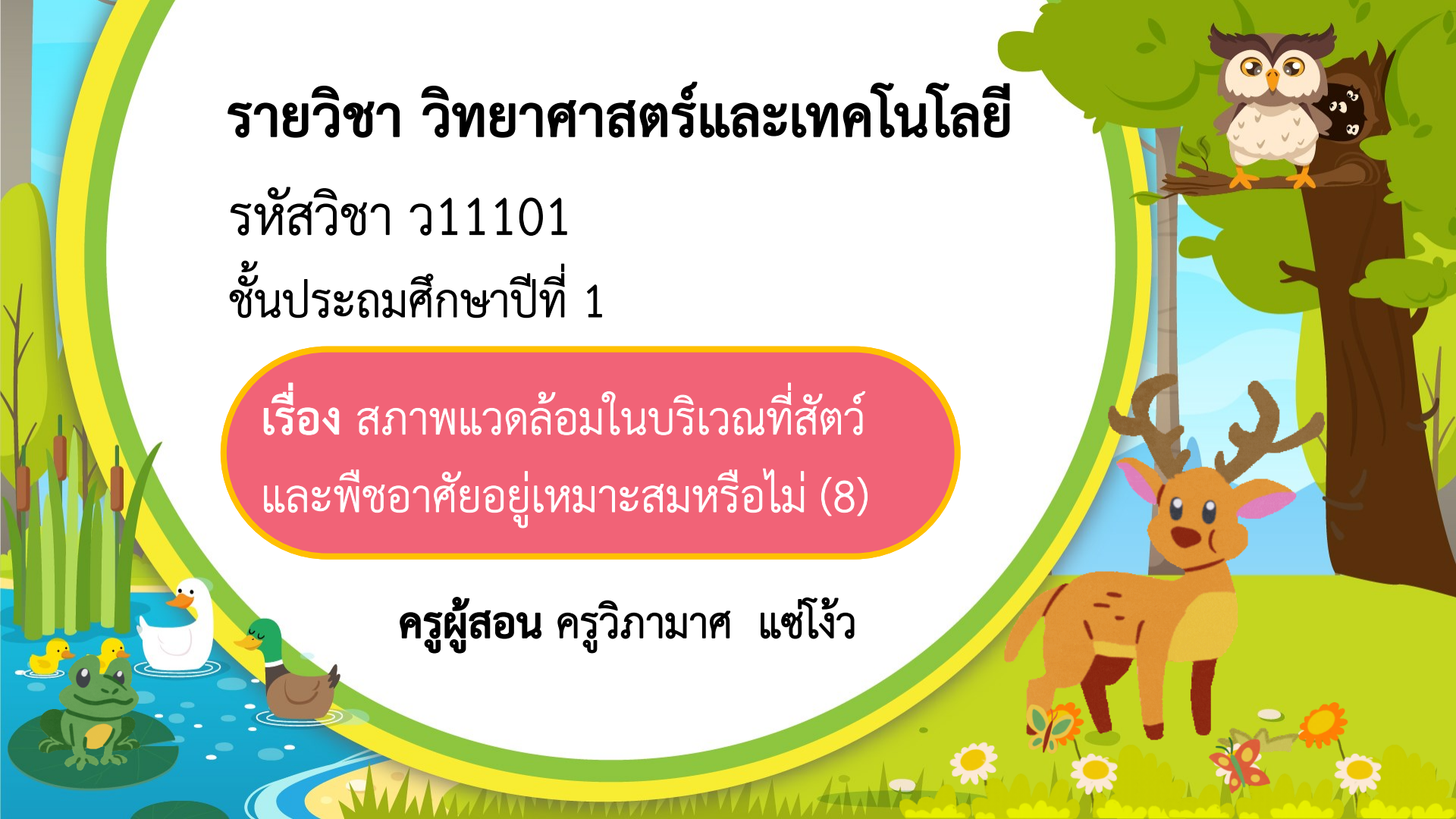
รายวิชา วิทยาศาสตร์และเทคโนโลยี


รหัสวิชา ว11101

ชั้นประถมศึกษาปีที่ 1

เรื่อง สภาพแวดล้อมในบริเวณที่สัตว์
และพืชอาศัยอยู่เหมาะสมหรือไม่ (8)

ครูผู้สอน ครูวิภามาศ แซ่โจ้ว





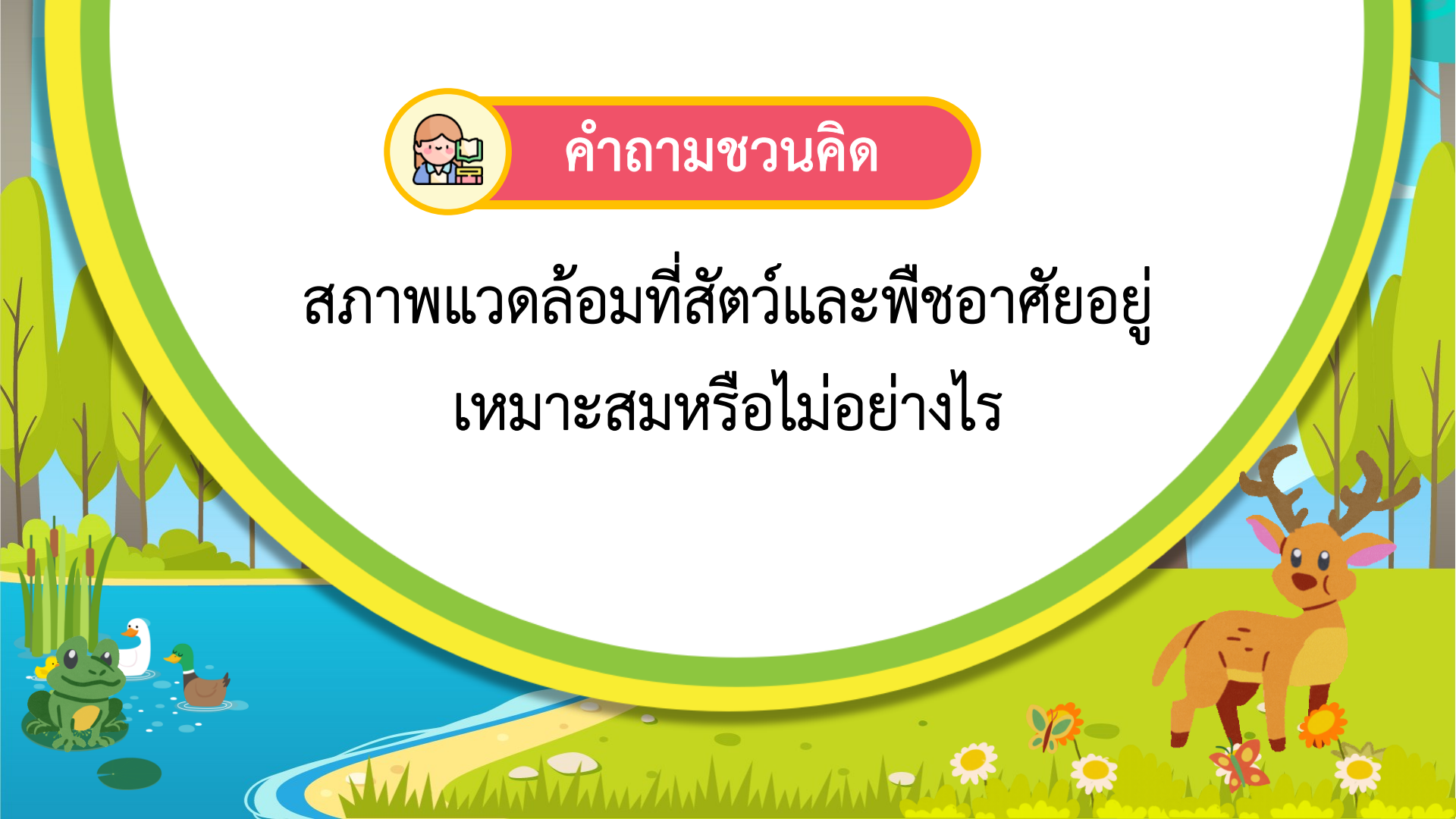
สภาพแวดล้อมในบริเวณที่สัตว์
และพืชอาศัยอยู่เหมาะสมหรือไม่
(8)





คำถามชวนคิด

สภาพแวดล้อมที่สัตว์และพืชอาศัยอยู่
เหมาะสมหรือไม่อย่างไร





จุดประสงค์การเรียนรู้

บอกสภาพแวดล้อมที่เหมาะสมกับการดำรงชีวิต
ของสัตว์และพืช



สภาพแวดล้อมที่เหมาะสม
ต่อการดำรงชีวิตของสัตว์
และพืช





มีอาหาร





มีที่อยู่อาศัย






มีที่เลี้ยงลูกอ่อน





มีที่หลบภัย





มีน้ำ



คำถามหลังจากทำกิจกรรม

๑. ชนิดของสัตว์และพืชที่พบในแต่ละบริเวณเหมือนหรือแตกต่างกัน

- เหมือนกัน แตกต่างกัน

ขีด ✓ ใน
ที่เลือก

๒. สภาพแวดล้อมที่เหมาะสมกับการดำรงชีวิตของสัตว์และพืช

เป็นอย่างไร

สภาพแวดล้อมที่เหมาะสมกับสัตว์ สภาพแวดล้อมที่เหมาะสมกับพืช

- | | |
|---|---|
| <input type="checkbox"/> มีอาหาร | <input type="checkbox"/> มีอาหาร |
| <input type="checkbox"/> มีที่อยู่อาศัย | <input type="checkbox"/> มีที่อยู่อาศัย |
| <input type="checkbox"/> มีน้ำ | <input type="checkbox"/> มีน้ำ |
| <input type="checkbox"/> มีที่เลี้ยงลูกอ่อน | <input type="checkbox"/> มีที่เลี้ยงลูกอ่อน |
| <input type="checkbox"/> มีที่หลบภัย | <input type="checkbox"/> มีที่หลบภัย |
| <input type="checkbox"/> อื่น ๆ | <input type="checkbox"/> อื่น ๆ |
| | |

ขีด ✓ ใน
ที่เลือก



ใบงานที่ 8

(หน้า 31-32)



(สามารถดาวน์โหลดได้ที่ www.dltv.ac.th)



คำชี้แจงกิจกรรมนักเรียน



นักเรียนตอบคำถามหลังจากทำกิจกรรม
ในใบงาน หน้า 19-20

คำชี้แจงบทบาทครูปลายทาง



1. ให้นักเรียนร่วมกันนำเสนอคำตอบ
และชวนนักเรียนร่วมกันตรวจสอบ
คำตอบที่ถูกต้อง
2. เขียนเฉลยคำตอบของนักเรียน
บนกระดาน



คำถามหลังจากทำกิจกรรม

1. ชนิดของสัตว์และพืชที่พบในแต่ละบริเวณเหมือนหรือแตกต่างกัน

เหมือนกัน

แตกต่างกัน

ขีด ✓ ใน
ที่เลือก



คำถามหลังจากทำกิจกรรม

2. สภาพแวดล้อมที่เหมาะสมกับการดำรงชีวิตของสัตว์และพืชเป็นอย่างไร

ขีด ✓ ใน □
ที่เลือก



สภาพแวดล้อมที่เหมาะสมกับสัตว์

- มีอาหาร
- มีที่อยู่อาศัย
- มีน้ำ
- มีที่เลี้ยงลูกอ่อน
- มีที่หลบภัย
- อื่น ๆ



สภาพแวดล้อมที่เหมาะสมกับพืช

- มีอาหาร
- มีที่อยู่อาศัย
- มีน้ำ
- มีที่เลี้ยงลูกอ่อน
- มีที่หลบภัย
- อื่น ๆ



คำถามหลังจากทำกิจกรรม

3. จากกิจกรรมนี้ สรุปได้ว่าอย่างไร

สภาพแวดล้อม

พืช

สัตว์

เลือกคำไปเติม
ให้ถูกต้อง

.....และ.....จะอาศัยอยู่ในบริเวณที่มี
.....เหมาะสมต่อการดำรงชีวิต



เฉลยคำตอบ





คำถามหลังจากทำกิจกรรม

1. ชนิดของสัตว์และพืชที่พบในแต่ละบริเวณเหมือนหรือแตกต่างกัน

เหมือนกัน



แตกต่างกัน

ขีด ✓ ใน
ที่เลือก



คำถามหลังจากทำกิจกรรม

2. สภาพแวดล้อมที่เหมาะสมกับการดำรงชีวิตของสัตว์และพืชเป็นอย่างไร

ขีด ใน
ที่เลือก



สภาพแวดล้อมที่เหมาะสมกับสัตว์

- มีอาหาร
- มีที่อยู่อาศัย
- มีน้ำ
- มีที่เลี้ยงลูกอ่อน
- มีที่หลบภัย
- อื่น ๆ



สภาพแวดล้อมที่เหมาะสมกับพืช

- มีอาหาร
- มีที่อยู่อาศัย
- มีน้ำ
- มีที่เลี้ยงลูกอ่อน
- มีที่หลบภัย
- อื่น ๆ



คำถามหลังจากทำกิจกรรม

3. จากกิจกรรมนี้ สรุปได้ว่าอย่างไร

สภาพแวดล้อม

พืช

สัตว์

เลือกคำไปเติม
ให้ถูกต้อง

.....พืช.....และ.....สัตว์.....จะอาศัยอยู่ในบริเวณที่มี
.....สภาพแวดล้อม.....เหมาะสมต่อการดำรงชีวิต



สรุปบทเรียน

มีอาหาร

มีที่อยู่อาศัย

สภาพแวดล้อมที่เหมาะสม
ต่อการดำรงชีวิตของสัตว์และพืช

มีน้ำ

มีที่หลบภัย


มีที่เลี้ยงลูกอ่อน





บทเรียนครั้งต่อไป

เรื่อง สภาพแวดล้อมในบริเวณที่สัตว์
และพืชอาศัยอยู่เหมาะสมหรือไม่
(9)





สิ่งที่ต้องเตรียม

ใบงานที่ 9 แบบฝึกหัด
เรื่อง สภาพแวดล้อมที่เหมาะสมกับการดำรงชีวิต
ของสัตว์และพืช (หน้า 34-36)



(สามารถดาวน์โหลดได้ที่ www.dltv.ac.th)

