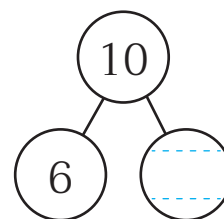




แบบฝึกหัด 2.16

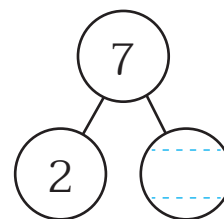
๑ เขียนตัวเลขแสดงจำนวนใน และประโยคสัญลักษณ์การลบ

1)



มีนม 10 กล่อง เป็นนมช็อกโกแลต 6 กล่อง เป็นนมสตอเบอร์รี่ กล่อง
ประโยคสัญลักษณ์การลบ

2)

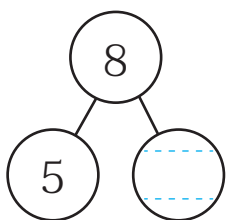


มีแก้วน้ำ 7 ใบ เป็นแก้วน้ำไม่มีหู 2 ใบ เป็นแก้วน้ำมีหู ใบ
ประโยคสัญลักษณ์การลบ



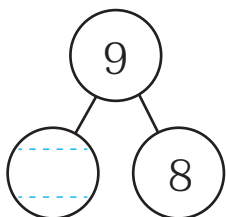
๒ เขียนตัวเลขแสดงจำนวนใน  และประโยคสัญลักษณ์การลบ

1)



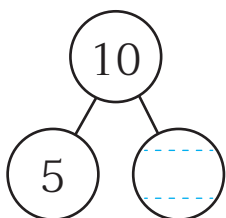
ประโยคสัญลักษณ์การลบ _____

2)



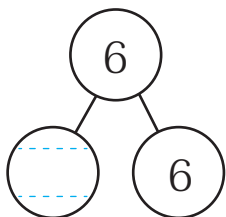
ประโยคสัญลักษณ์การลบ _____

3)



ประโยคสัญลักษณ์การลบ _____

4)



ประโยคสัญลักษณ์การลบ _____