

รายวิชาภาษาไทย

รหัสวิชา ท๑๓๑๐๑

ชั้นประถมศึกษาปีที่ ๓

เรื่อง การอ่านข้อมูลจากแผนภูมิ

ครูผู้สอน ครูอนุชา อินทร์พ่วง

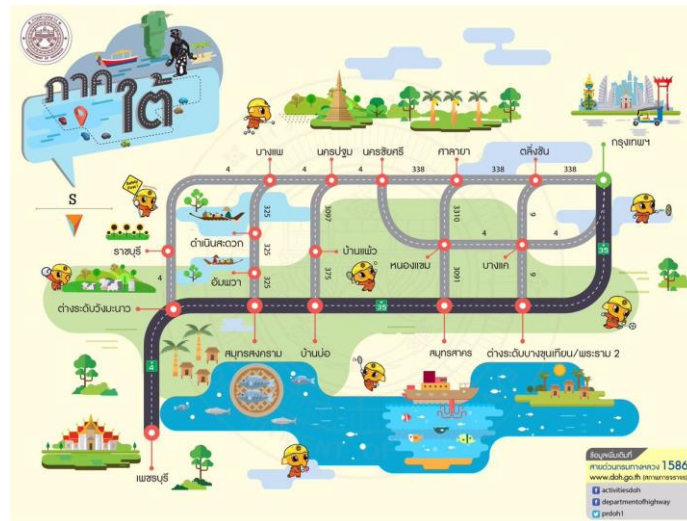
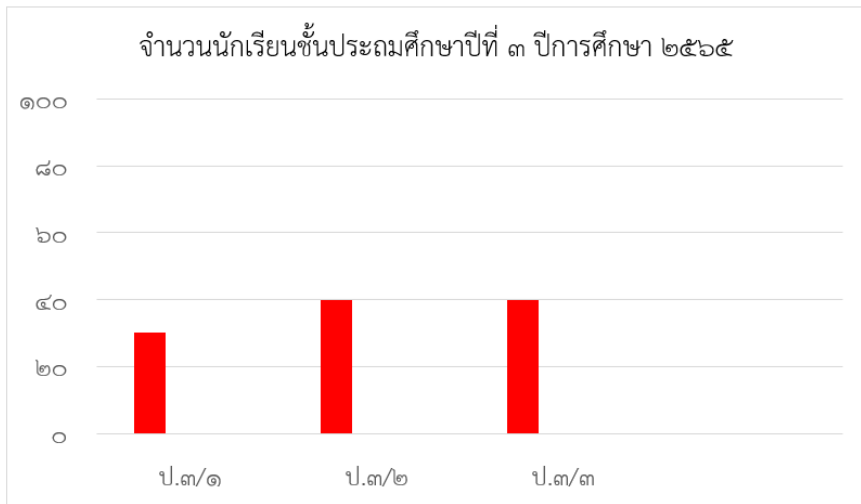




เรื่อง การอ่านข้อมูล

จากแผนภูมิ





ภาพทั้ง ๓ ภาพนี้ มีความเหมือนและต่างกันอย่างไบบ้าง





แจ้งเตือน พายุกูรอน

บริเวณภาคตะวันออกเฉียงเหนือตอนบน

มีฝนฟ้าคะนอง



ติดต่อข่าวสารตามที่
เพจใหม่



ศูนย์อุตุนิยมวิทยา
ภาคตะวันออกเฉียงเหนือ
ตอนบน New

**ลมกระโชกแรง
และมีลูกเห็บตก
บางแห่ง**

22 เมษายน 2563

บริเวณจังหวัด
กาฬสินธุ์ สกลนคร
นครพนม มหาสารคาม

23-24 เมษายน 2563

บริเวณจังหวัด
ขอนแก่น จุฬาราชันย์
หนองคาย บึงกาฬ
กาฬสินธุ์ สกลนคร นครพนม
มหาสารคาม เลย ชัยภูมิ หนองบัวลำภู

25 เมษายน 2563

ความเสียหายต่อบ้านเรือน
ผลผลิตทางการเกษตร

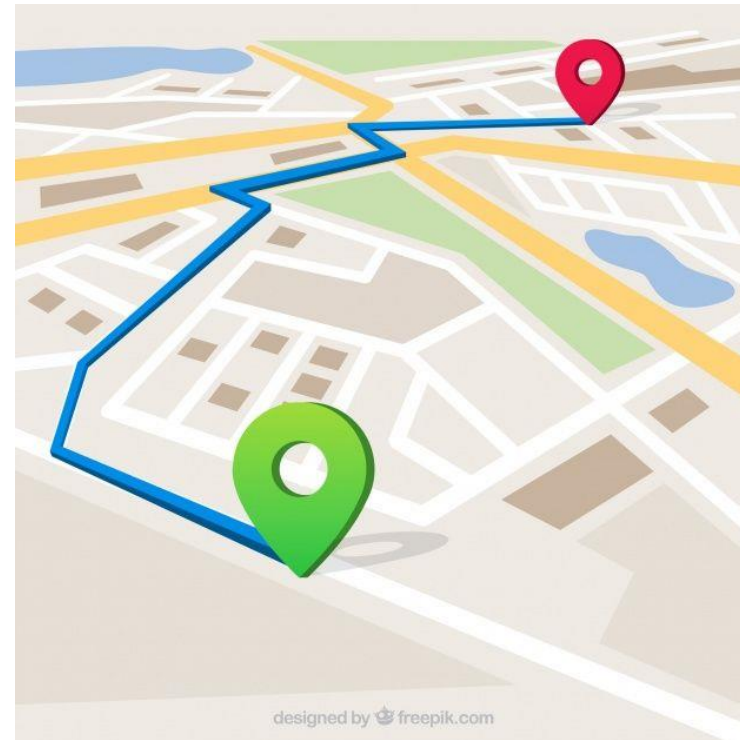
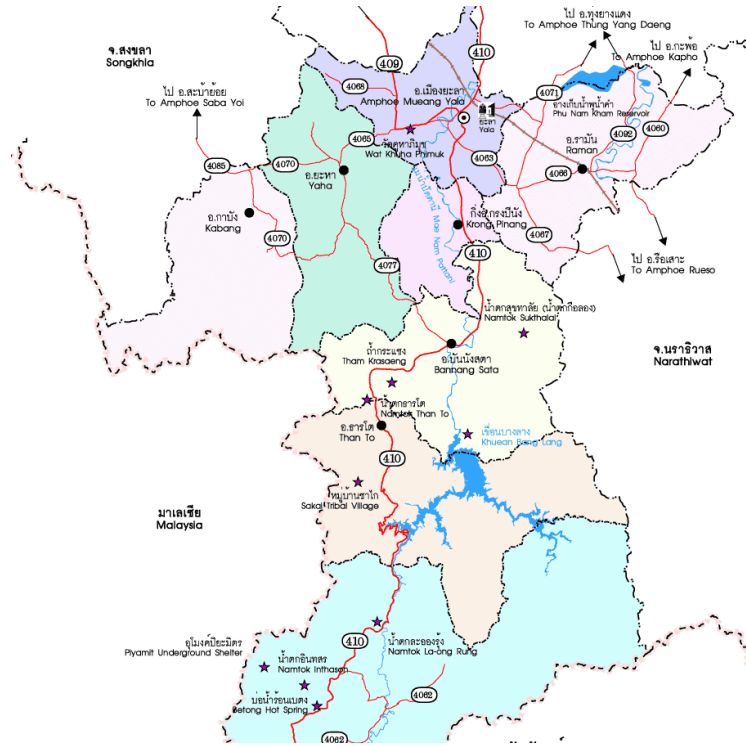
25 เมษายน 2563

มหาสารคาม เลย ขอนแก่น
ชัยภูมิ หนองบัวลำภู

ส่วนพยากรณ์อากาศ
ศูนย์อุตุนิยมวิทยาภาคตะวันออกเฉียงเหนือตอนบน

แผนภาพ

เป็นเค้าโครงที่สร้างขึ้นเพื่อช่วยอธิบาย
เรื่องราวให้เป็นระบบและเข้าใจมากยิ่งขึ้น



แผนที่

แบบที่เขียนย่อจากพื้นดิน บอกแม่น้ำ ฝั่งทะเล และอื่น ๆ
 เป็นการอ่านสัญลักษณ์และรูปภาพเพื่อศึกษาเกี่ยวกับลักษณะ
 ของพื้นที่ใดพื้นที่หนึ่ง

จุดประสงค์การเรียนรู้

๑) บอกความหมายของแผนภูมิได้

๒) อ่านข้อมูลจากแผนภูมิได้

๓) มีมารยาทในการพูดและการอ่าน







การอ่านข้อมูลจากแผนภูมิ

แผนภูมิ คือ แผนภาพอย่างหนึ่งที่ทำขึ้นเพื่อใช้
แสดงประกอบเรื่องให้เข้าใจเรื่องราวง่ายขึ้น แผนภูมิที่
นักเรียนควรรู้จัก ได้แก่ แผนภูมิรูปภาพ แผนภูมิแท่ง
และแผนภูมिवงกลม



ตัวอย่าง แผนภูมิรูปภาพ





แผนภูมิรูปภาพแสดงจำนวนผลไม้ที่เด็กหญิงกวางรับประทานภายใน ๑ สัปดาห์

กล้วยหอม	
มังคุด	
ทุเรียน	
ลิ้นจี่	

กำหนดให้รูปผลไม้ ๑ รูป แทนจำนวนผลไม้ ๑ ผล

ตัวอย่าง แผนภูมิรูปภาพ





แผนภูมิรูปภาพแสดงจำนวนผลไม้ที่เด็กหญิงกวางรับประทานภายใน ๑ สัปดาห์

กล้วยหอม	 ๖
มังคุด	 ๕
ทุเรียน	 ๒
ลิ้นจี่	 ๑๐

กำหนดให้รูปผลไม้ ๑ รูป แทนจำนวนผลไม้ ๑ ผล





ตัวอย่าง แผนภูมิรูปภาพ

แผนภูมิรูปภาพแสดงจำนวนผลไม้ที่เด็กหญิงกวางรับประทานภายใน ๑ สัปดาห์

กล้วยหอม	 ๑๒
มังคุด	 ๑๐
ทุเรียน	 ๒
ลิ้นจี่	 ๒๐

กำหนดให้รูปผลไม้ ๑ รูป แทนจำนวนผลไม้ ๒ ผล

แผนภูมิรูปภาพแสดงจำนวนผลไม้ที่เด็กหญิงกวางรับประทานภายใน ๑ สัปดาห์

	๑๒
	๑๐
	๕
	๒๐

คำถาม

ใน ๑ สัปดาห์ เด็กหญิงกวางรับประทาน
ผลไม้อะไรมากที่สุด

ตอบ ลิ้นจี่





คำถาม

ใน ๑ สัปดาห์ เด็กหญิงกวางรับประทาน
ผลไม้ใบน้อยที่สุด

ตอบ ทุเรียน



แผนภูมิรูปภาพแสดงจำนวนผลไม้ที่เด็กหญิงกวางรับประทานภายใน ๑ สัปดาห์

	๑๒
	๑๐
	๕
	๒๐

คำถาม

ใน ๑ สัปดาห์ เด็กหญิงกวางรับประทาน
ผลไม้อะไรมากที่สุดเป็นอันดับ ๒

ตอบ กล้วยหอม

คำถาม

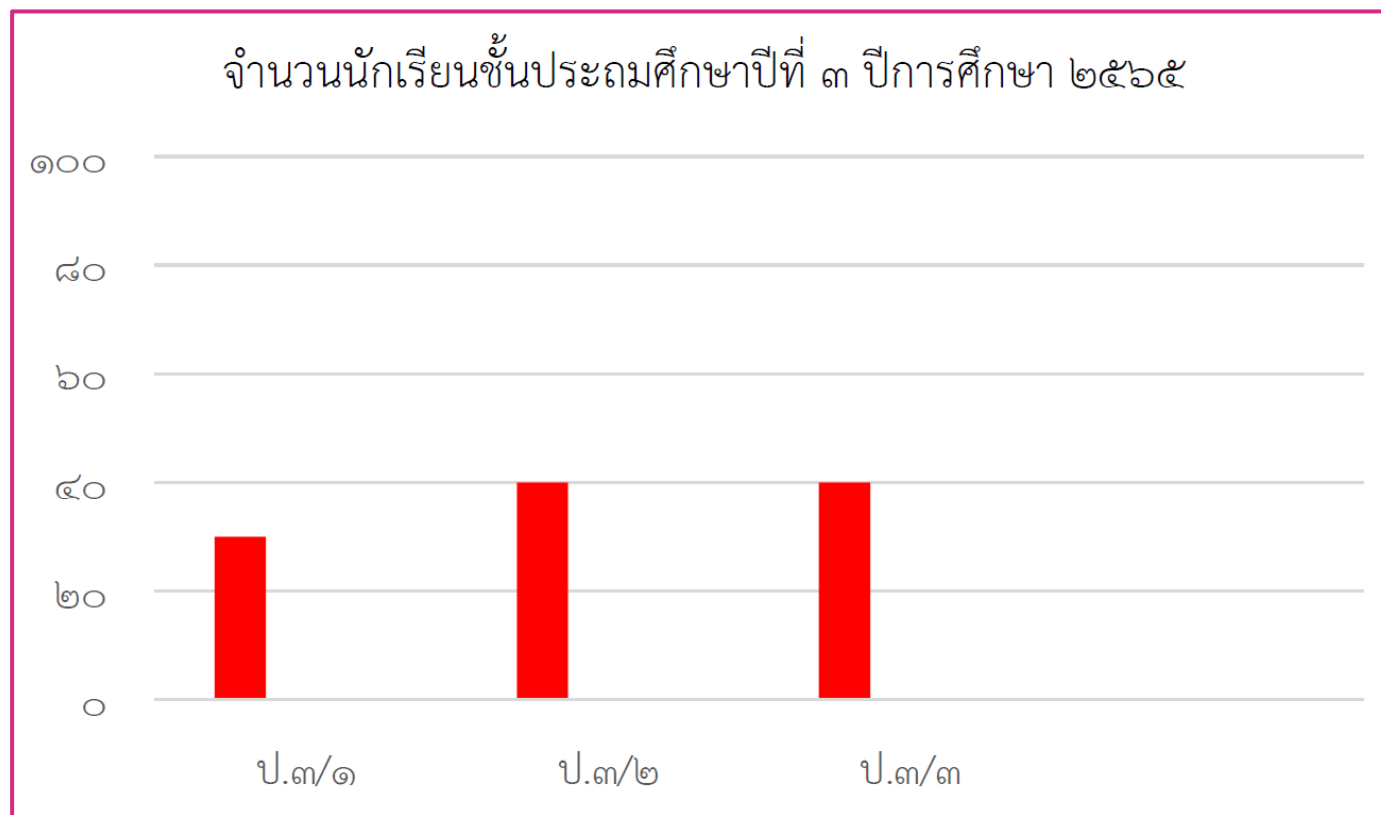
ใน ๑ สัปดาห์ เด็กหญิงกวางรับประทาน
กล้วยหอมมากกว่ามังคุดกี่ผล

ตอบ ๒ ผล




ตัวอย่าง แผนภูมิแท่ง

แผนภูมิแท่งแสดงจำนวนนักเรียนชั้นประถมศึกษาปีที่ ๓ ปีการศึกษา ๒๕๖๕
จำนวนนักเรียนทั้งหมด ๑๑๐ คน แบ่งตามห้องเรียน ๓ ห้อง

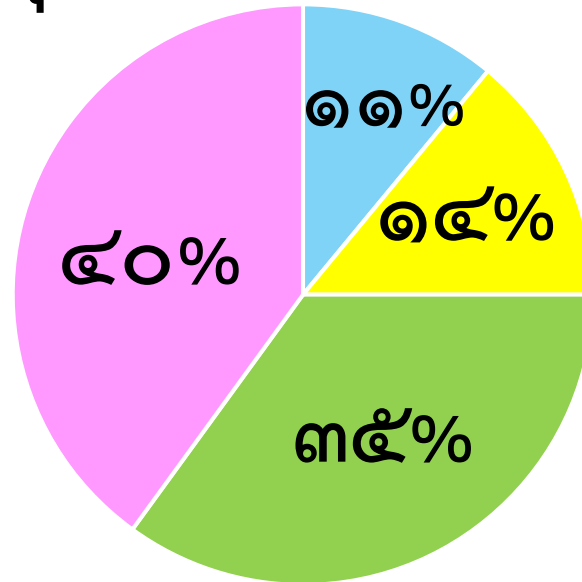


จำนวนนักเรียนชั้นประถมศึกษาปีที่ ๓ ปีการศึกษา ๒๕๖๕



ตัวอย่าง แผนภูมิวงกลม

แผนภูมิวงกลมแสดงจำนวนร้อยละวิชาที่นักเรียนชั้น ป.๓
ชอบเรียนมากที่สุด ในภาคเรียนที่ ๑ ปีการศึกษา ๒๕๖๗



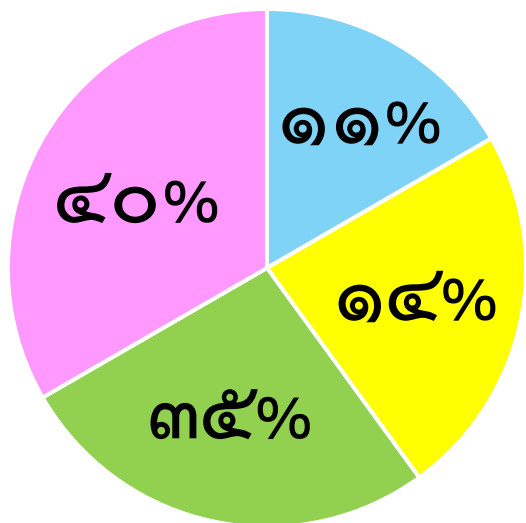
■ ภาษาไทย

■ คณิตศาสตร์

■ ศิลปะ

■ พลศึกษา





- ภาษาไทย
- คณิตศาสตร์
- ศิลปะ
- พลศึกษา

คำถาม

นักเรียนชอบเรียนวิชาอะไรมากที่สุด

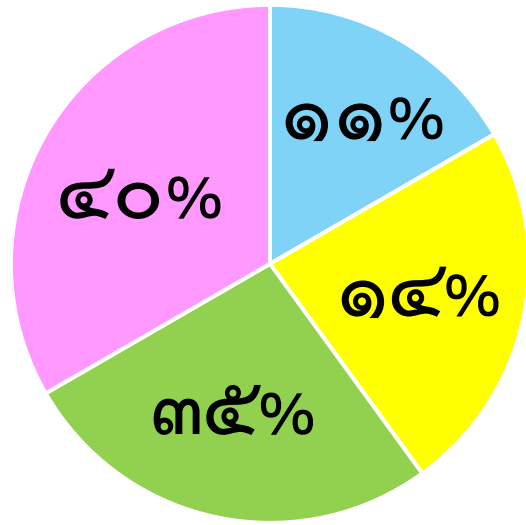
ตอบ พลศึกษา

คำถาม

นักเรียนชอบเรียนวิชาอะไรมากที่สุดเป็นอันดับ ๒

ตอบ ศิลปะ





- ภาษาไทย
- คณิตศาสตร์
- ศิลปะ
- พลศึกษา

คำถาม

นักเรียนชอบเรียนวิชาอะไรน้อยที่สุด

ตอบ ภาษาไทย



ใบงานที่ ๕ เรื่อง การอ่านข้อมูลจากแผนภูมิ



ใบงานที่ ๕ เรื่อง การอ่านข้อมูลจากแผนภูมิ
 หน่วยการเรียนรู้ที่ ๕ เรื่อง วาจาไพเราะ เสนาะเสียงอักษรสูง กลาง คำ
 แผนการจัดการเรียนรู้ที่ ๕ เรื่อง เรื่อง การอ่านข้อมูลจากแผนภูมิ
 รายวิชาภาษาไทย รหัสวิชา ท๑๓๑๐๑ ภาคเรียนที่ ๑ ชั้นประถมศึกษาปีที่ ๓

คำชี้แจง ให้อ่านข้อมูลจากแผนภูมิรูปภาพที่กำหนดให้แล้วตอบคำถาม
 แผนภูมิรูปภาพแสดงจำนวนสับปะรดที่ขายในแต่ละวัน

วันอาทิตย์	
วันจันทร์	
วันอังคาร	
วันพุธ	
วันพฤหัสบดี	
วันศุกร์	
วันเสาร์	

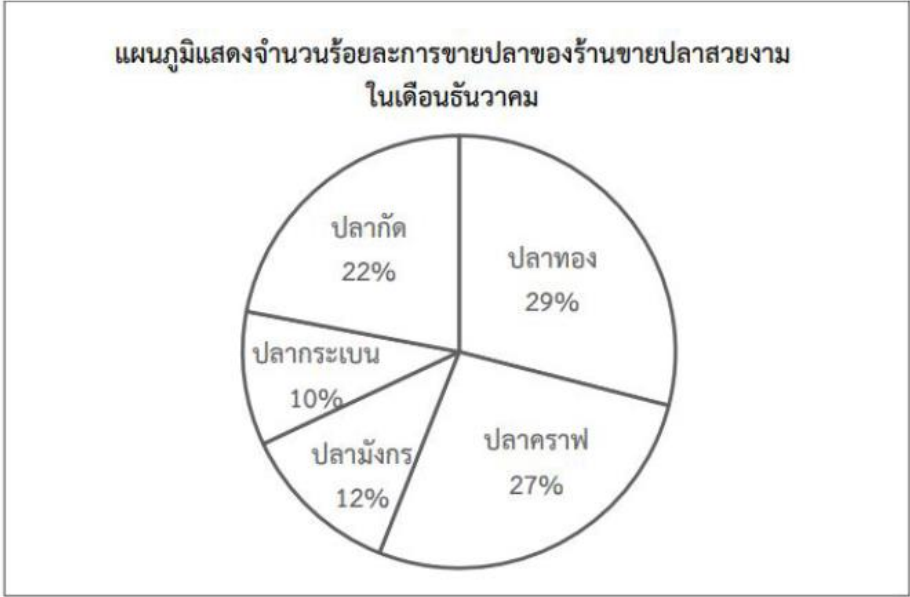
กำหนดให้รูป ๑ รูป แทนจำนวนสับปะรด ๒ ผล

- วันใดขายสับปะรดได้มากที่สุด
ตอบ
- วันใดขายสับปะรดได้น้อยที่สุด
ตอบ
- วันใดขายสับปะรดได้เท่ากัน
ตอบ
- วันเสาร์ขายสับปะรดได้กี่ผล
ตอบ
- วันที่ขายสับปะรดได้มากเป็นอันดับสอง ขายได้กี่ผล
ตอบ
- สับปะรดที่ขายในวันจันทร์และวันอังคารรวมกันได้กี่ผล
ตอบ
- วันเสาร์ขายสับปะรดได้มากกว่าวันอังคารกี่ผล
ตอบ
- วันอังคารขายสับปะรดได้น้อยกว่าวันพุธกี่ผล
ตอบ
- วันที่ขายสับปะรดได้มากที่สุด ขายได้มากกว่าวันที่ขายสับปะรดได้น้อยที่สุดกี่ผล
ตอบ
- รวมแล้วใน ๑ สัปดาห์ ขายสับปะรดได้กี่ผล
ตอบ

ใบงานที่ ๕ เรื่อง การอ่านข้อมูลจากแผนภูมิ




คำชี้แจง ให้อ่านข้อมูลจากแผนภูมิที่กำหนดให้แล้วตอบคำถาม



คำถาม จากแผนภูมิ เจ้าของร้านควรสั่งปลาชนิดใดมาขายเพิ่ม

- ๑) ปลากัด และปลาคราฟ
- ๒) ปลากระเบน และปลาทอง
- ๓) ปลามังกร และปลากระเบน
- ๔) ปลาทอง และปลาคราฟ



คำถาม จากแผนภูมิ ร้านค้าในข้อใดที่มีการขายสินค้ามากที่สุด

- ๑) ร้านขายตาลขายลอดช่อง
- ๒) ร้านลุงตันขายไอศกรีมหลายรส
- ๓) ร้านพี่เต้ขายมะม่วงและสับปะรด
- ๔) ร้านป้าแตนขายน้ำลำไยและน้ำส้มคั้น

ชื่อ สกุล ชั้น เลขที่

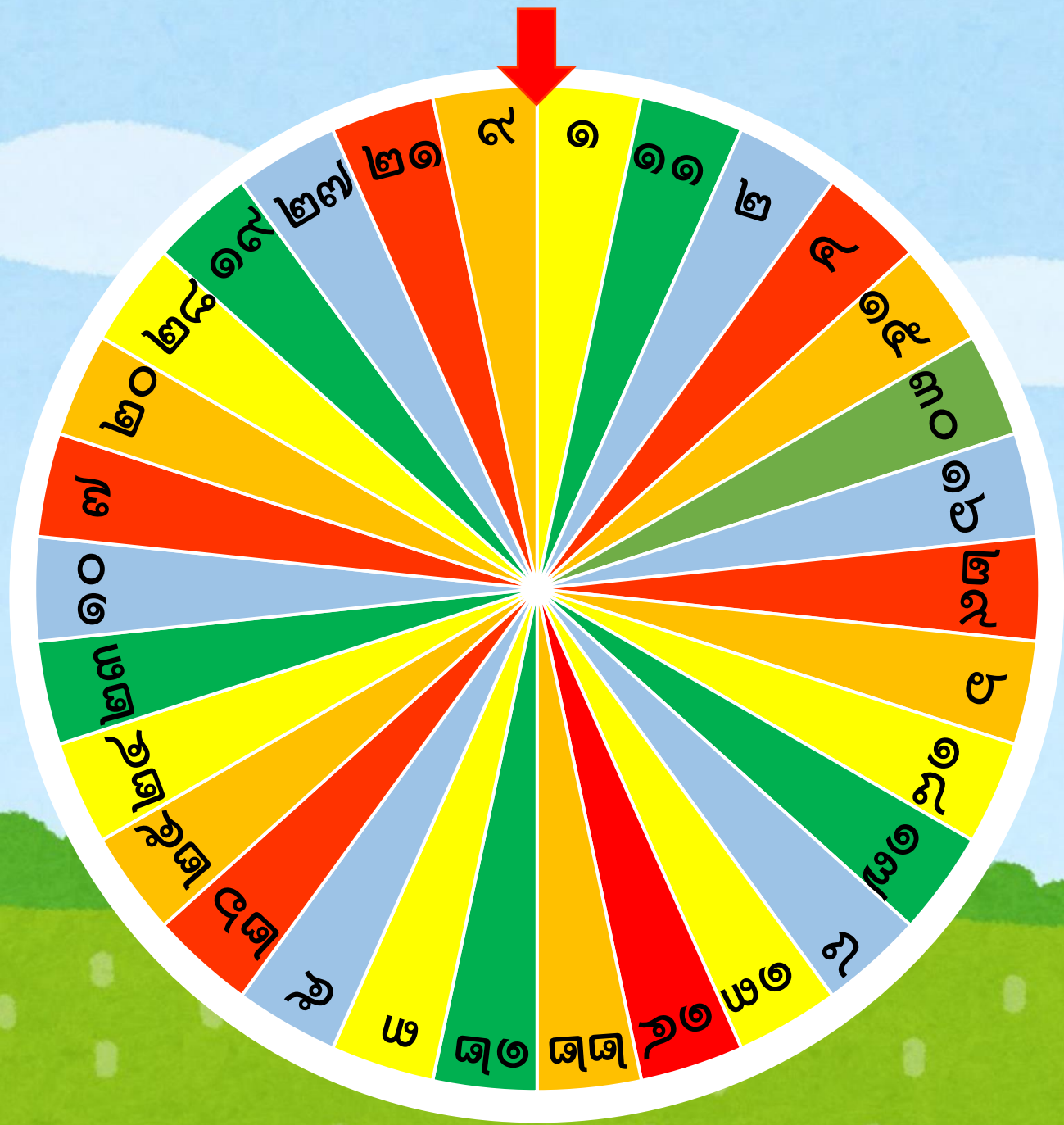
บทบาทครู

๑. คุณครูแนะนำ และอธิบายเพิ่มเติม เมื่อนักเรียนเกิดความสงสัยหรือไม่เข้าใจ
๒. ครูให้นักเรียนทำใบงานที่ ๕ เรื่อง การอ่านข้อมูลจากแผนภูมิ








บทบาทนักเรียน


๑. เมื่อนักเรียนสงสัยหรือไม่เข้าใจ ให้ยกมือสอบถามคุณครู ด้วยถ้อยคำที่สุภาพ
๒. นักเรียนทำใบงานที่ ๕ เรื่อง การอ่านข้อมูลจากแผนภูมิ
๓. นักเรียนมีมารยาทในการเขียน





คำชี้แจงให้อ่านข้อมูล
จากแผนภูมิรูปภาพที่
กำหนดให้แล้วตอบคำถาม
แผนภูมิรูปภาพแสดง
จำนวนสับปะรดที่ขายใน
แต่ละวัน

วันอาทิตย์	 ๖
วันจันทร์	 ๑๐
วันอังคาร	 ๔
วันพุธ	 ๖
วันพฤหัสบดี	 ๑๒
วันศุกร์	 ๑๔
วันเสาร์	 ๑๖

กำหนดให้รูป  ๑ รูป แทนจำนวนสับปะรด ๒ ผล



๑. วันใดขายสับปะรดได้มากที่สุด

ตอบ

๒. วันใดขายสับปะรดได้น้อยที่สุด

ตอบ

๓. วันใดขายสับปะรดได้เท่ากัน

ตอบ

๔. วันเสาร์ขายสับปะรดได้กี่ผล








ตอบ


๕. วันที่ขายสับปะรดได้มากเป็นอันดับสอง ขายได้กี่ผล

ตอบ



คำชี้แจงให้อ่านข้อมูล
จากแผนภูมิรูปภาพที่
กำหนดให้แล้วตอบคำถาม
แผนภูมิรูปภาพแสดง
จำนวนสับปะรดที่ขายใน
แต่ละวัน

วันอาทิตย์	 ๖
วันจันทร์	 ๑๐
วันอังคาร	 ๔
วันพุธ	 ๖
วันพฤหัสบดี	 ๑๒
วันศุกร์	 ๑๔
วันเสาร์	 ๑๖

กำหนดให้รูป  ๑ รูป แทนจำนวนสับปะรด ๒ ผล



๑. วันใดขายสับปะรดได้มากที่สุด

ตอบวันเสาร์.....

๒. วันใดขายสับปะรดได้น้อยที่สุด

ตอบ

๓. วันใดขายสับปะรดได้เท่ากัน

ตอบ

๔. วันเสาร์ขายสับปะรดได้กี่ผล








ตอบ


๕. วันที่ขายสับปะรดได้มากเป็นอันดับสอง ขายได้กี่ผล

ตอบ



คำชี้แจงให้อ่านข้อมูล
จากแผนภูมิรูปภาพที่
กำหนดให้แล้วตอบคำถาม
แผนภูมิรูปภาพแสดง
จำนวนสับปะรดที่ขายใน
แต่ละวัน

วันอาทิตย์	 ๖
วันจันทร์	 ๑๐
วันอังคาร	 ๔
วันพุธ	 ๖
วันพฤหัสบดี	 ๑๒
วันศุกร์	 ๑๔
วันเสาร์	 ๑๖

กำหนดให้รูป  ๑ รูป แทนจำนวนสับปะรด ๒ ผล



๑. วันใดขายสับปะรดได้มากที่สุด

ตอบ ...วันเสาร์.....

๒. วันใดขายสับปะรดได้น้อยที่สุด

ตอบ ...วันอังคาร.....

๓. วันใดขายสับปะรดได้เท่ากัน

ตอบ

๔. วันเสาร์ขายสับปะรดได้กี่ผล








ตอบ


๕. วันที่ขายสับปะรดได้มากเป็นอันดับสอง ขายได้กี่ผล

ตอบ



คำชี้แจงให้อ่านข้อมูล
จากแผนภูมิรูปภาพที่
กำหนดให้แล้วตอบคำถาม
แผนภูมิรูปภาพแสดง
จำนวนสับปะรดที่ขายใน
แต่ละวัน

วันอาทิตย์	 ๖
วันจันทร์	 ๑๐
วันอังคาร	 ๔
วันพุธ	 ๖
วันพฤหัสบดี	 ๑๒
วันศุกร์	 ๑๔
วันเสาร์	 ๑๖

กำหนดให้รูป  ๑ รูป แทนจำนวนสับปะรด ๒ ผล



๑. วันใดขายสับปะรดได้มากที่สุด

ตอบ **วันเสาร์**.....

๒. วันใดขายสับปะรดได้น้อยที่สุด

ตอบ **วันอังคาร**.....

๓. วันใดขายสับปะรดได้เท่ากัน

ตอบ **วันอาทิตย์ และวันพุธ**.....

๔. วันเสาร์ขายสับปะรดได้กี่ผล








ตอบ


๕. วันที่ขายสับปะรดได้มากเป็นอันดับสอง ขายได้กี่ผล

ตอบ



คำชี้แจงให้อ่านข้อมูล
จากแผนภูมิรูปภาพที่
กำหนดให้แล้วตอบคำถาม
แผนภูมิรูปภาพแสดง
จำนวนสับปะรดที่ขายใน
แต่ละวัน

วันอาทิตย์	 ๖
วันจันทร์	 ๑๐
วันอังคาร	 ๔
วันพุธ	 ๖
วันพฤหัสบดี	 ๑๒
วันศุกร์	 ๑๔
วันเสาร์	 ๑๖

กำหนดให้รูป  ๑ รูป แทนจำนวนสับปะรด ๒ ผล



๑. วันใดขายสับปะรดได้มากที่สุด

ตอบ **วันเสาร์**.....

๒. วันใดขายสับปะรดได้น้อยที่สุด

ตอบ **วันอังคาร**.....

๓. วันใดขายสับปะรดได้เท่ากัน

ตอบ **วันอาทิตย์ และวันพุธ**.....

๔. วันเสาร์ขายสับปะรดได้กี่ผล








ตอบ **ขายได้ ๑๖ ผล**.....


๕. วันที่ขายสับปะรดได้มากเป็นอันดับสอง ขายได้กี่ผล

ตอบ



คำชี้แจงให้อ่านข้อมูล
จากแผนภูมิรูปภาพที่
กำหนดให้แล้วตอบคำถาม
แผนภูมิรูปภาพแสดง
จำนวนสับปะรดที่ขายใน
แต่ละวัน

วันอาทิตย์	 ๖
วันจันทร์	 ๑๐
วันอังคาร	 ๔
วันพุธ	 ๖
วันพฤหัสบดี	 ๑๒
วันศุกร์	 ๑๔
วันเสาร์	 ๑๖

กำหนดให้รูป  ๑ รูป แทนจำนวนสับปะรด ๒ ผล



๑. วันใดขายสับปะรดได้มากที่สุด

ตอบ **วันเสาร์**.....

๒. วันใดขายสับปะรดได้น้อยที่สุด

ตอบ **วันอังคาร**.....

๓. วันใดขายสับปะรดได้เท่ากัน

ตอบ **วันอาทิตย์ และวันพุธ**.....

๔. วันเสาร์ขายสับปะรดได้กี่ผล

ตอบ **ขายได้ ๑๖ ผล**.....

๕. วันที่ขายสับปะรดได้มากเป็นอันดับสอง ขายได้กี่ผล

ตอบ **วันศุกร์ ขายได้ ๑๔ ผล**.....



๖. สัปดาห์ที่ขายในวันจันทร์และวันอังคารรวมกันได้กี่ผล

ตอบ

๗. วันเสาร์ขายสัปดาห์ได้มากกว่าวันอังคารกี่ผล

ตอบ

๘. วันอังคารขายสัปดาห์ได้น้อยกว่าวันพุธกี่ผล

ตอบ

๙. วันที่ขายสัปดาห์ได้มากที่สุด ขายได้มากกว่าวันที่ขายสัปดาห์ได้น้อยที่สุดกี่ผล








ตอบ


๑๐. รวมแล้วใน ๑ สัปดาห์ ขายสัปดาห์ได้กี่ผล

ตอบ



คำชี้แจงให้อ่านข้อมูล
จากแผนภูมิรูปภาพที่
กำหนดให้แล้วตอบคำถาม
แผนภูมิรูปภาพแสดง
จำนวนสับปะรดที่ขายใน
แต่ละวัน

วันอาทิตย์	 ๖
วันจันทร์	 ๑๐
วันอังคาร	 ๔
วันพุธ	 ๖
วันพฤหัสบดี	 ๑๒
วันศุกร์	 ๑๔
วันเสาร์	 ๑๖

กำหนดให้รูป  ๑ รูป แทนจำนวนสับปะรด ๒ ผล



๖. สัปดาห์ที่ขายในวันจันทร์และวันอังคารรวมกันได้กี่ผล

ตอบ **๑๔ ผล**

๗. วันเสาร์ขายสัปดาห์ได้มากกว่าวันอังคารกี่ผล

ตอบ

๘. วันอังคารขายสัปดาห์ได้น้อยกว่าวันพุธกี่ผล

ตอบ

๙. วันที่ขายสัปดาห์ได้มากที่สุด ขายได้มากกว่าวันที่ขายสัปดาห์ได้น้อยที่สุดกี่ผล








ตอบ


๑๐. รวมแล้วใน ๑ สัปดาห์ ขายสัปดาห์ได้กี่ผล

ตอบ



คำชี้แจงให้อ่านข้อมูล
จากแผนภูมิรูปภาพที่
กำหนดให้แล้วตอบคำถาม
แผนภูมิรูปภาพแสดง
จำนวนสับปะรดที่ขายใน
แต่ละวัน

วันอาทิตย์	 ๖
วันจันทร์	 ๑๐
วันอังคาร	 ๔
วันพุธ	 ๖
วันพฤหัสบดี	 ๑๒
วันศุกร์	 ๑๔
วันเสาร์	 ๑๖

กำหนดให้รูป  ๑ รูป แทนจำนวนสับปะรด ๒ ผล



๖. สัปดาห์ที่ขายในวันจันทร์และวันอังคารรวมกันได้กี่ผล

ตอบ .. **๑๔ ผล**

๗. วันเสาร์ขายสัปดาห์ได้มากกว่าวันอังคารกี่ผล

ตอบ .. **๑๒ ผล**

๘. วันอังคารขายสัปดาห์ได้น้อยกว่าวันพุธกี่ผล

ตอบ

๙. วันที่ขายสัปดาห์ได้มากที่สุด ขายได้มากกว่าวันที่ขายสัปดาห์ได้น้อยที่สุดกี่ผล








ตอบ


๑๐. รวมแล้วใน ๑ สัปดาห์ ขายสัปดาห์ได้กี่ผล

ตอบ



คำชี้แจงให้อ่านข้อมูล
จากแผนภูมิรูปภาพที่
กำหนดให้แล้วตอบคำถาม
แผนภูมิรูปภาพแสดง
จำนวนสับปะรดที่ขายใน
แต่ละวัน

วันอาทิตย์	 ๖
วันจันทร์	 ๑๐
วันอังคาร	 ๔
วันพุธ	 ๖
วันพฤหัสบดี	 ๑๒
วันศุกร์	 ๑๔
วันเสาร์	 ๑๖

กำหนดให้รูป  ๑ รูป แทนจำนวนสับปะรด ๒ ผล



๖. สับปะรดที่ขายในวันจันทร์และวันอังคารรวมกันได้กี่ผล

ตอบ .. **๑๔ ผล**

๗. วันเสาร์ขายสับปะรดได้มากกว่าวันอังคารกี่ผล

ตอบ .. **๑๒ ผล**

๘. วันอังคารขายสับปะรดได้น้อยกว่าวันพุธกี่ผล

ตอบ .. **๒ ผล**

๙. วันที่ขายสับปะรดได้มากที่สุด ขายได้มากกว่าวันที่ขายสับปะรดได้น้อยที่สุดกี่ผล








ตอบ


๑๐. รวมแล้วใน ๑ สัปดาห์ ขายสับปะรดได้กี่ผล

ตอบ



คำชี้แจงให้อ่านข้อมูล
จากแผนภูมิรูปภาพที่
กำหนดให้แล้วตอบคำถาม
แผนภูมิรูปภาพแสดง
จำนวนสับปะรดที่ขายใน
แต่ละวัน

วันอาทิตย์	 ๖
วันจันทร์	 ๑๐
วันอังคาร	 ๔
วันพุธ	 ๖
วันพฤหัสบดี	 ๑๒
วันศุกร์	 ๑๔
วันเสาร์	 ๑๖

กำหนดให้รูป  ๑ รูป แทนจำนวนสับปะรด ๒ ผล



๖. สัปดาห์ที่ขายในวันจันทร์และวันอังคารรวมกันได้กี่ผล

ตอบ .. **๑๔ ผล**

๗. วันเสาร์ขายสัปดาห์ได้มากกว่าวันอังคารกี่ผล

ตอบ .. **๑๒ ผล**

๘. วันอังคารขายสัปดาห์ได้น้อยกว่าวันพุธกี่ผล

ตอบ .. **๒ ผล**

๙. วันที่ขายสัปดาห์ได้มากที่สุด ขายได้มากกว่าวันที่ขายสัปดาห์ได้น้อยที่สุดกี่ผล








ตอบ .. **๑๒ ผล**


๑๐. รวมแล้วใน ๑ สัปดาห์ ขายสัปดาห์ได้กี่ผล

ตอบ



คำชี้แจงให้อ่านข้อมูล
จากแผนภูมิรูปภาพที่
กำหนดให้แล้วตอบคำถาม
แผนภูมิรูปภาพแสดง
จำนวนสับปะรดที่ขายใน
แต่ละวัน

วันอาทิตย์	 ๖
วันจันทร์	 ๑๐
วันอังคาร	 ๔
วันพุธ	 ๖
วันพฤหัสบดี	 ๑๒
วันศุกร์	 ๑๔
วันเสาร์	 ๑๖

กำหนดให้รูป  ๑ รูป แทนจำนวนสับปะรด ๒ ผล



๖. สัปดาห์ที่ขายในวันจันทร์และวันอังคารรวมกันได้กี่ผล

ตอบ ..๑๔ ผล.....

๗. วันเสาร์ขายสัปดาห์ได้มากกว่าวันอังคารกี่ผล

ตอบ ..๑๒ ผล.....

๘. วันอังคารขายสัปดาห์ได้น้อยกว่าวันพุธกี่ผล

ตอบ ..๒ ผล.....

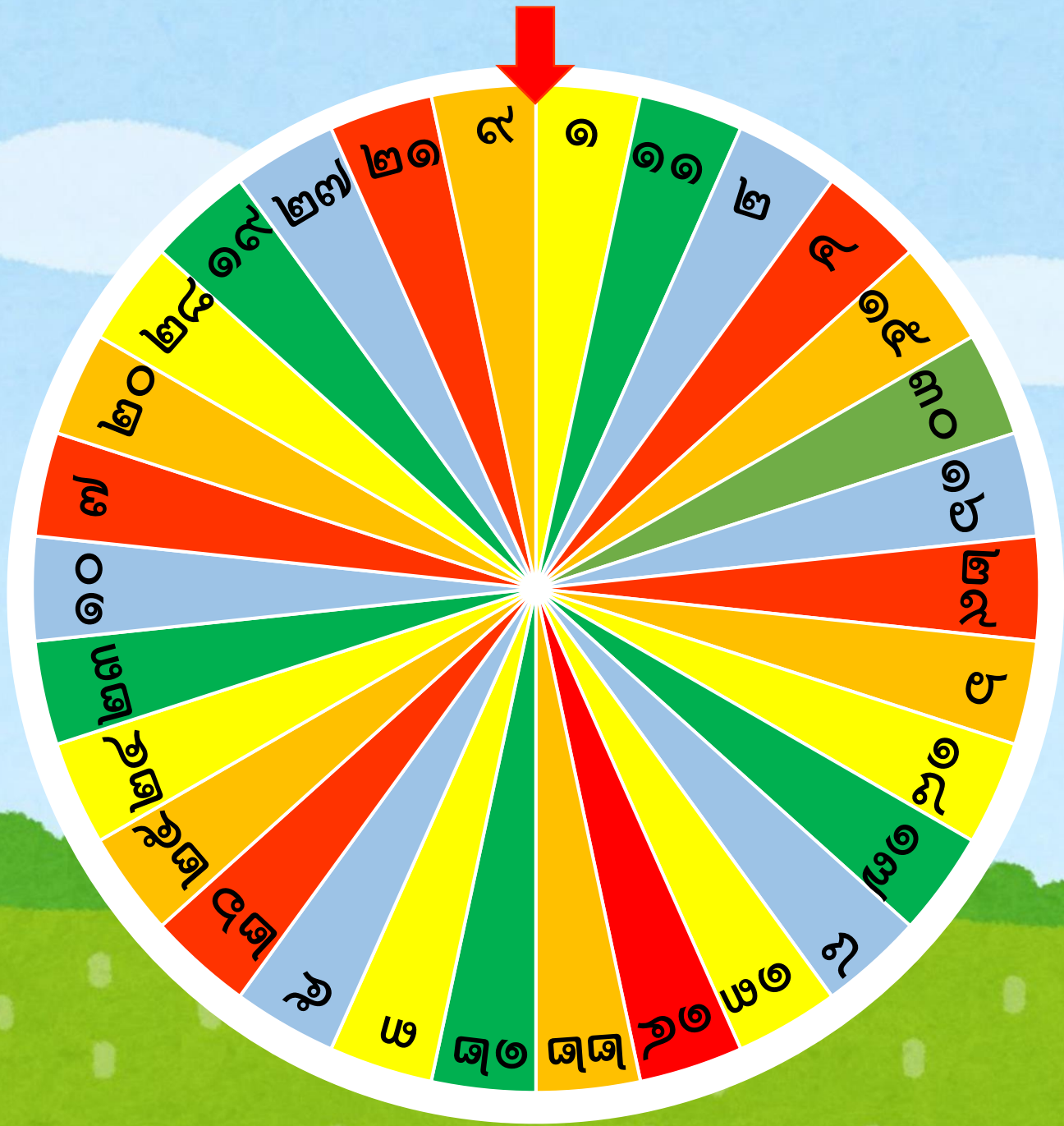
๙. วันที่ขายสัปดาห์ได้มากที่สุด ขายได้มากกว่าวันที่ขายสัปดาห์ได้น้อยที่สุดกี่ผล

ตอบ ..๑๒ ผล.....

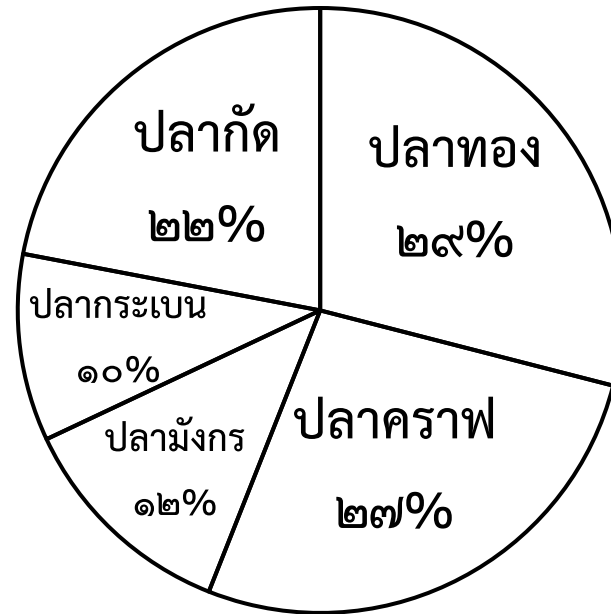
๑๐. รวมแล้วใน ๑ สัปดาห์ ขายสัปดาห์ได้กี่ผล

ตอบ ..๖๘ ผล.....





แผนภูมิแสดงจำนวนร้อยละ
การขายปลาของ
ร้านขายปลาสวยงาม
ในเดือนธันวาคม

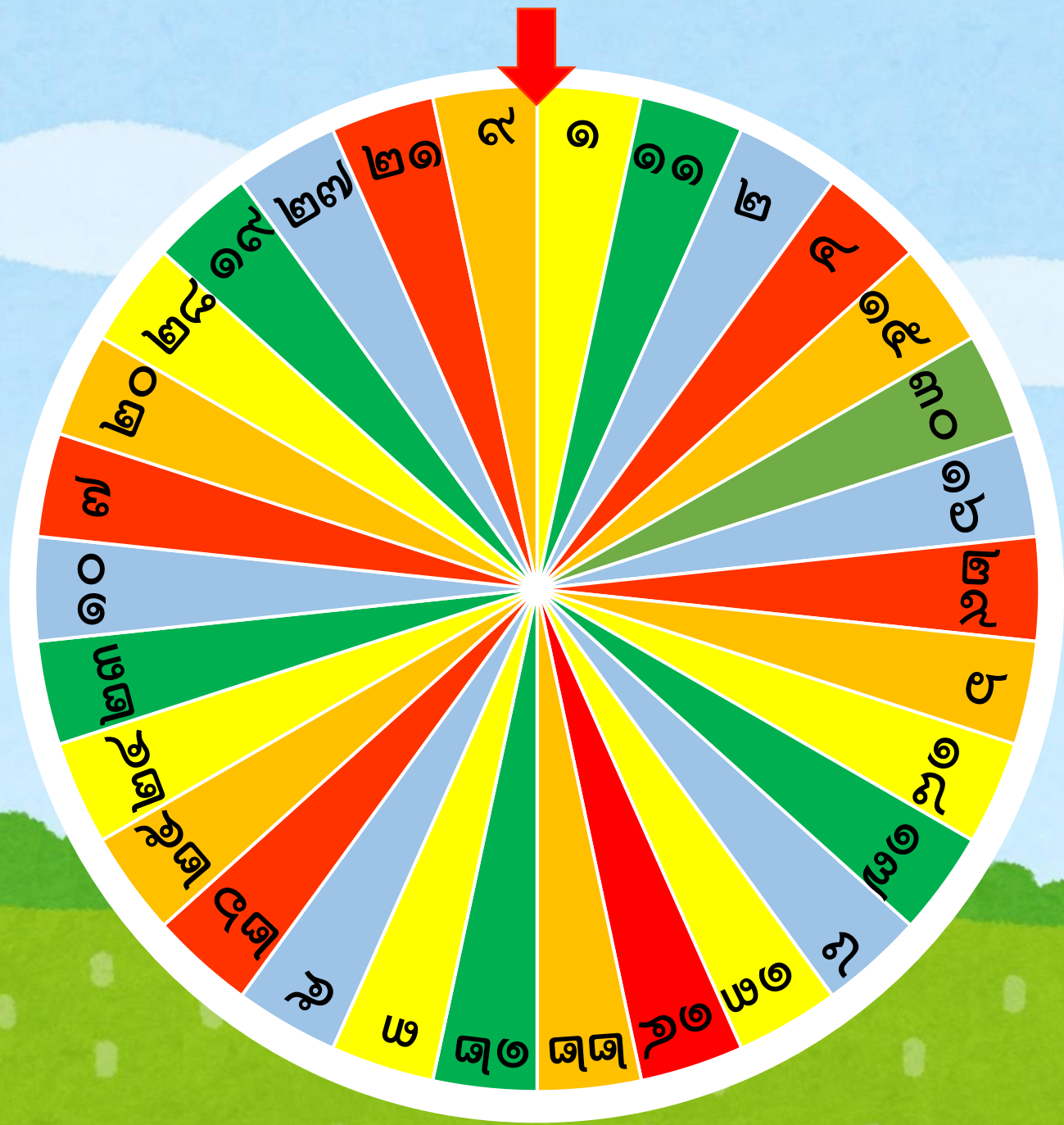


คำถาม จากแผนภูมิ เจ้าของร้านควรสั่งปลาชนิดใดมาขายเพิ่ม

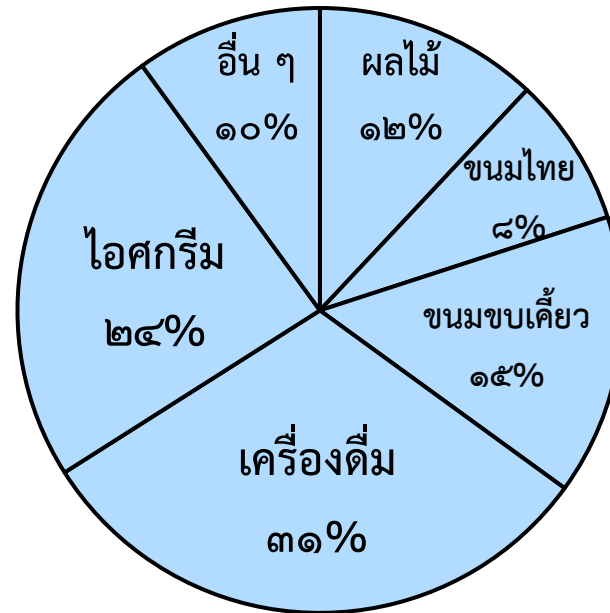
- ๑) ปลากัด และปลาคราฟ
- ๒) ปลากระเบน และปลาทอง
- ๓) ปลามังกร และปลากระเบน

✗ ปลาทอง และปลาคราฟ





ประเภทของอาหารและเครื่องดื่ม
ที่นักเรียนโรงเรียนอนุบาลสายรุ้ง
นิยมซื้อในช่วงพักกลางวัน



คำถาม จากแผนภูมิ ร้านค้าในข้อใดที่มีการขายสินค้ามากที่สุด

- ๑) ร้านขายตาลขายลอดช่อง
- ๒) ร้านลุงตันขายไอศกรีมหลายรส
- ๓) ร้านพี่เต้ขายมะม่วงและสับปะรด

✘ ร้านป่าเตนขายน้ำลำไยและน้ำส้มคั้น





สิ่งที่ต้องเตรียมในชั่วโมงต่อไป



ใบความรู้ที่ ๒

เรื่อง การพูดในโอกาสต่าง ๆ



บทเรียนครั้งต่อไป



เรื่อง การพูดในโอกาสต่าง ๆ

(๑)

สแกนเพื่อพูดคุย
กับครูกันได้เลยที่นี่



ดาวน์โหลดเอกสารเพิ่มเติมได้ที่ www.dltv.ac.th
รายวิชาภาษาไทย ชั้นประถมศึกษาปีที่ ๓



